

S I T U A T I O N

Anaïs recherche un emploi et elle se rend à l'ANPE pour consulter les annonces.
Elle envisage d'aller vivre avec son ami Loïc.

A partir de cette situation et de vos connaissances, répondre directement sur le sujet.

(1 point sera enlevé pour non respect des consignes)

1 - Anaïs trouve la petite annonce suivante sur les panneaux de l'ANPE.

OFFRE N° 335286
BTS 3 A 4 EMPLOYES SECT. COMM. DE GROS DE TEXTILES
RECHERCHE POUR UN CDI EMPL.BUR. - LIEU 33
HORAIRES 39 H 00 HEBDO - SAL. MENSUEL : 6249 F.

1.1. Décoder la petite annonce ci-dessus et l'écrire en toutes lettres.

2,5 pts

.....
.....
.....



1.2. Nommer le document qu'elle devra joindre à sa lettre de candidature (pas de sigle non traduit)

1 pt

.....

GROUPEMENT INTERACADEMIQUE	SESSION 2000	
C.A.P. Secteur B - 14 JUIN - B.E.P.	Epreuve : Vie Sociale et Professionnelle	
Coefficient { C.A.P. : 1 B.E.P. :	Durée { C.A.P. 1 H B.E.P.	Page 1/6

1.3. Anaïs a été embauchée. Elle signe le contrat de travail ci-dessous.

S.A. FUN-MODE 3 Rue de la Mer 33000 BORDEAUX	Bordeaux le 16/08/97
CONTRAT DE TRAVAIL	
Melle DURAND Anaïs Né(e) le : 22 mai 1978 à BORDEAUX Adresse : 2 rue Jean Jaurés - 33270 EYSINES Immatriculée à la Sécurité Sociale sous le N° : 2 78 05 33 063 322	
Est engagé(e) à compter du 1er Septembre 1997 et pour une durée indéterminée. Emploi : <i>Employée de bureau</i> Lieu de travail : <i>Bordeaux</i> Salaire mensuel : 6249 F pour un horaire de 39 heures/semaine Bénéfice de 2,5 jours de congés payés par mois de travail. Le présent engagement ne deviendra définitif qu'à l'expiration d'une période d'essai fixée à 1 mois .	
En exécution des dispositions prévues dans le règlement intérieur, le présent engagement pourra être résilié à tout moment sans préavis ni indemnité, par les deux parties, au cours de la période d'essai et moyennant un préavis de 1 mois en dehors de celle-ci.	
Melle DURAND Anaïs s'engage à respecter les clauses du règlement intérieur de l'entreprise.	
Fait en double exemplaire	
L'intéressé, 	A Bordeaux le 16/08/97 Le directeur 

1.3.1. Définir le type de contrat signé par Anaïs.

1 pt

GROUPEMENT INTERACADEMIQUE		SESSION 2000	
C.A.P. Secteur B - 14 JUIN - B.E.P.		Epreuve : Vie sociale et Professionnelle	
Coefficient	{ C.A.P. : 1 B.E.P. :	Durée { C.A.P. 1 H B.E.P. :	Page 2/6

1.3.2. Citer pour l'employeur et le salarié 2 droits et obligations qu'entraîne un contrat de travail.

2 pts

Employeur : -

-

Employé : -

-

1.3.3. Anaïs doit effectuer une période d'essai.

0,5 pt

1.3.3.1. Préciser sa durée.....

1.3.3.2. Cocher la bonne réponse concernant la période d'essai :

0,5 pt

() elle se situe avant la signature du contrat

() elle se situe après la signature du contrat

() elle nécessite un préavis pour être rompue.

1.3.4. Indiquer à qui Anaïs peut s'adresser si son employeur ne respecte pas le contrat de travail.

1 pt

.....

2 - Anaïs et son ami Loïc envisagent de vivre ensemble. Ils hésitent pour le choix de la méthode de contraception à utiliser.

2.1. Citer un organisme public qui peut les conseiller pour faire ce choix :

.....

1 pt

GRUPEMENT INTERACADEMIQUE

SESSION 200 0

C.A.P. Secteur B - 14 JUIN -
~~**B.E.P.**~~

Epreuve :
Vie Sociale et Professionnelle

Coefficient { C.A.P. : 1
B.E.P. :

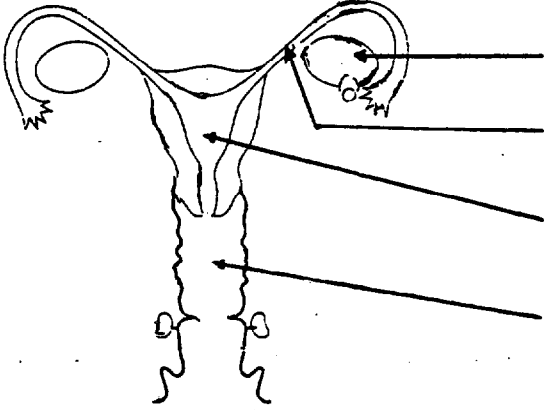
Durée { C.A.P. 1 H
B.E.P.

Page 3/6

2.2.1. Pour effectuer ce choix, ils étudient le schéma de l'appareil génital féminin.

4 pts

Compléter le tableau ci-dessous :

<p>Appareil génital féminin</p> 	Nom de l'organe	Fonction de l'organe

La pilule associée au préservatif est la protection la plus efficace

À la veille de l'été, propice aux amours estivales, mieux vaut ne pas dédaigner la contraception. Malgré les progrès réalisés depuis trente ans dans ce domaine, sa maîtrise reste imparfaite. C'est le constat que fait Michel Mintz, chirurgien-gynécologue.

Quelle est la méthode contraceptive la plus adaptée aux adolescentes ?

MICHEL MINTZ : La pilule est la méthode la plus efficace pour éviter les grossesses indésirées. L'arrivée des mini-pilules a apporté un remarquable confort. Les réelles contre-indications de ce mode de contraception sont devenues très rares. De plus, la surveillance clinique et biologique est extrêmement simple. Mais elle ne protège pas contre les maladies sexuellement transmissibles (MST), dont le sida. D'où l'intérêt d'associer le préservatif à la pilule. Cette double protection est d'usage aux Pays-Bas qui ont le taux le plus faible d'IVG (Interruption volontaire de grossesse) au monde chez les adolescentes.

Les autres méthodes sont peu fiables. Il est indispensable d'informer les adolescentes sur leur vie sexuelle en abordant le problème de la contraception et des MST. Il est important de leur dire qu'elles peuvent être enceintes à n'importe quel moment du cycle, même pendant leurs règles. Elles peuvent également être enceintes même s'il n'y a pas eu pénétration, ou encore dès le premier rapport.

*La Revue des Parents
Mai 99*

GRUPEMENT INTERACADEMIQUE

SESSION 2000

C.A.P. Secteur B - 14 JUIN -
B.E.P.

Epreuve :

Vie Sociale et Professionnelle

Coefficient { **C.A.P.** : 1
B.E.P. :

Durée { **C.A.P.** 1 H
B.E.P. :

Page 4/6

2.2.2. En vous aidant de cet article, compléter le tableau ci-dessous pour aider Anaïs et Loïc dans leur choix (2 réponses/case).

2 pts

	AVANTAGES	INCONVENIENTS
PILULE
PRESERVATIF

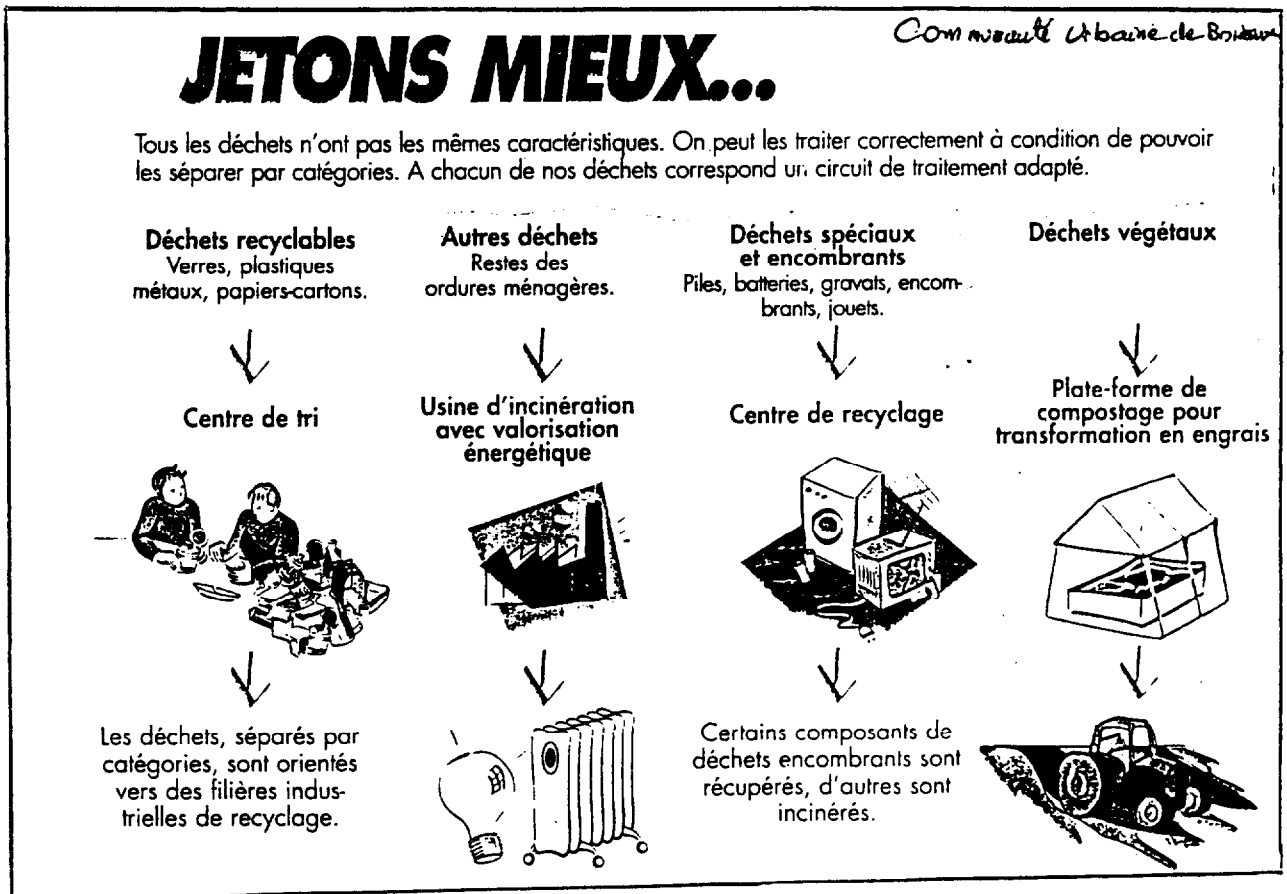
2.2.3. Citer une autre méthode contraceptive :

0,5 pt

3 - Anaïs et Loïc louent un appartement dans une commune qui pratique le tri des déchets par le biais de 2 poubelles :

- * la "verte" pour les déchets recyclables autre que le verre,
- * la "marron" pour les autres déchets.

Ce document explique la nécessité du tri.



GROUPEMENT INTERACADEMIQUE	SESSION 2000
C.A.P. Secteur B - 14 JUIN - B.E.P.	Epreuve : Vie Sociale et Professionnelle
Coefficient { C.A.P. : 1 B.E.P. : 1	Durée { C.A.P. 1 H B.E.P. 1 H 30 } Page 5/6

3.1. Voici le contenu de leur poubelle :

bouteille plastique d'eau - canette aluminium de soda - épluchure de pomme -
feuilles flétries de salade - dépliants publicitaires - boîte vide de maïs -
déchets des assiettes du dîner - boîte vide de chaussures.

2 pts

Répartir ces ordures dans l'une ou l'autre des poubelles.

POUBELLE "VERTE"	POUBELLE "MARRON"

3.2. Anaïs se demande ce que deviennent ensuite les déchets recyclables.

Expliquer en prenant l'exemple du verre récupéré dans les bornes à verre et préciser l'avantage du recyclage.

1 pt

.....
.....
.....

3.3. Mais ils sont bien embarrassés par l'emballage (bois, polystyrène) de la cuisinière qu'ils viennent d'acheter.

Citer le lieu autorisé où ils peuvent apporter cet emballage.

1 pt

GROUPEMENT INTERACADEMIQUE		SESSION 200 ₀	
C.A.P. Secteur B - 14 JUIN - B.E.P.		Epreuve : Vie Sociale et Professionnelle	
Coefficient { C.A.P. : 1 B.E.P. :		Durée { C.A.P. ^{1 H} B.E.P.	Page 6/6

SITUATION

Anaïs recherche un emploi et elle se rend à l'ANPE pour consulter les annonces.
Elle envisage d'aller vivre avec son ami Loïc.

A partir de cette situation et de vos connaissances, répondre directement sur le sujet.

(1 point sera enlevé pour non respect des consignes)

1 - Anaïs trouve la petite annonce suivante sur les panneaux de l'ANPE.

OFFRE N° 335286
ETS 3 A 4 EMPLOYES SECT. COMM. DE GROS DE TEXTILES
RECHERCHE POUR UN CDI EEMPL.BUR. - LIEU 33
HORAIRES 39 H 00 HEBDO - SAL. MENSUEL : 6249 F.

1.1. Décoder la petite annonce ci-dessus et l'écrire en toutes lettres.

2,5 pts

.....
.....
.....



1.2. Nommer le document qu'elle devra joindre à sa lettre de candidature (pas de sigle non traduit)

1 pt

.....

GROUPEMENT INTERACADEMIQUE		SESSION 2000	
C.A.P. Secteur B - 14 JUIN - B.E.P.		Epreuve : Vie Sociale et Professionnelle	
Coefficient { C.A.P. : 1 B.E.P. :		Durée { C.A.P. 1 H B.E.P. :	Page 1/6

1.3. Anaïs a été embauchée. Elle signe le contrat de travail ci-dessous.

S.A. FUN-MODE 3 Rue de la Mer 33000 BORDEAUX	Bordeaux le 16/08/97
CONTRAT DE TRAVAIL	
Melle DURAND Anaïs	
Né(e) le : 22 mai 1978	à BORDEAUX
Adresse : 2 rue Jean Jaurès - 33270 EYSINES	
Immatriculée à la Sécurité Sociale sous le N° : 2 78 05 33 063 322	
Est engagé(e) à compter du 1er Septembre 1997 et pour une durée indéterminée.	
Emploi : <i>Employée de bureau</i>	Lieu de travail : <i>Bordeaux</i>
Salaire mensuel : 6249 F pour un horaire de 39 heures/semaine	
Bénéfice de 2,5 jours de congés payés par mois de travail.	
Le présent engagement ne deviendra définitif qu'à l'expiration d'une période d'essai fixée à 1 mois .	
En exécution des dispositions prévues dans le règlement intérieur, le présent engagement pourra être résilié à tout moment sans préavis ni indemnité, par les deux parties, au cours de la période d'essai et moyennant un préavis de 1 mois en dehors de celle-ci.	
Melle DURAND Anaïs s'engage à respecter les clauses du règlement intérieur de l'entreprise.	
Fait en double exemplaire	
L'intéressé,	A Bordeaux le 16/08/97 Le directeur
	

1.3.1. Définir le type de contrat signé par Anaïs.

1 pt

GROUPEMENT INTERACADEMIQUE		SESSION 2000	
C.A.P. Secteur B - 14 JUIN - B.E.P.		Epreuve : Vie sociale et Professionnelle	
Coefficient	{ C.A.P. : 1 B.E.P. :	Durée { C.A.P. 1 H B.E.P. :	Page 2/6

1.3.2. Citer pour l'employeur et le salarié 2 droits et obligations qu'entraîne un contrat de travail.

2 pts

Employeur : -

-

Employé : -

-

1.3.3. Anaïs doit effectuer une période d'essai.

1.3.3.1. Préciser sa durée.....

0,5 pt

1.3.3.2. Cocher la bonne réponse concernant la période d'essai :

() elle se situe avant la signature du contrat

() elle se situe après la signature du contrat

() elle nécessite un préavis pour être rompue.

0,5 pt

1.3.4. Indiquer à qui Anaïs peut s'adresser si son employeur ne respecte pas le contrat de travail.

1 pt

.....

2 - Anaïs et son ami Loïc envisagent de vivre ensemble. Ils hésitent pour le choix de la méthode de contraception à utiliser.

2.1. Citer un organisme public qui peut les conseiller pour faire ce choix :

.....

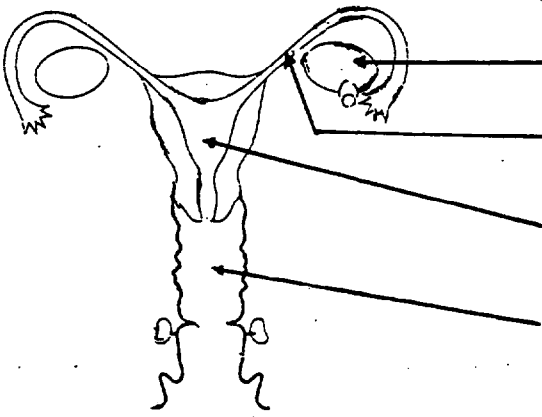
1 pt

GROUPEMENT INTERACADEMIQUE		SESSION 200 0	
C.A.P. Secteur B - 14 JUIN - B.E.P.		Epreuve : Vie Sociale et Professionnelle	
Coefficient { C.A.P. : 1 B.E.P. : }		Durée { C.A.P. 1 H B.E.P. }	Page 3/6

4 pts

2.2.1. Pour effectuer ce choix, ils étudient le schéma de l'appareil génital féminin.

Compléter le tableau ci-dessous :

Appareil génital féminin	Nom de l'organe	Fonction de l'organe
		

La pilule associée au préservatif est la protection la plus efficace

À la veille de l'été, propice aux amours estivales, mieux vaut ne pas dédaigner la contraception. Malgré les progrès réalisés depuis trente ans dans ce domaine, sa maîtrise reste imparfaite. C'est le constat que fait Michel Mintz, chirurgien-gynécologue.

Quelle est la méthode contraceptive la plus adaptée aux adolescentes ?

MICHEL MINTZ : La pilule est la méthode la plus efficace pour éviter les grossesses indésirées. L'arrivée des mini-pilules a apporté un remarquable confort. Les réelles contre-indications de ce mode de contraception sont devenues très rares. De plus, la surveillance clinique et biologique est extrêmement simple. Mais elle ne protège pas contre les maladies sexuellement transmissibles (MST), dont le sida. D'où l'intérêt d'associer le préservatif à la pilule. Cette double protection est d'usage aux Pays-Bas qui ont le taux le plus faible d'IVG (Interruption volontaire de grossesse) au monde chez les adolescentes.

Les autres méthodes sont peu fiables. Il est indispensable d'informer les adolescentes sur leur vie sexuelle en abordant le problème de la contraception et des MST. Il est important de leur dire qu'elles peuvent être enceintes à n'importe quel moment du cycle, même pendant leurs règles. Elles peuvent également être enceintes même s'il n'y a pas eu pénétration, ou encore dès le premier rapport.

*La Revue des Parents
Mai 93*

GRUPEMENT INTERACADEMIQUE

SESSION 2000

C.A.P. Secteur B - 14 JUIN -
B.E.P.

Epreuve :
Vie Sociale et Professionnelle

Coefficient { C.A.P. : 1
B.E.P. :

Durée { C.A.P. 1 H
B.E.P.

Page 4/6

2.2.2. En vous aidant de cet article, compléter le tableau ci-dessous pour aider Anaïs et Loïc dans leur choix (2 réponses/case).

2 pts

	AVANTAGES	INCONVENIENTS
PILULE
PRESERVATIF

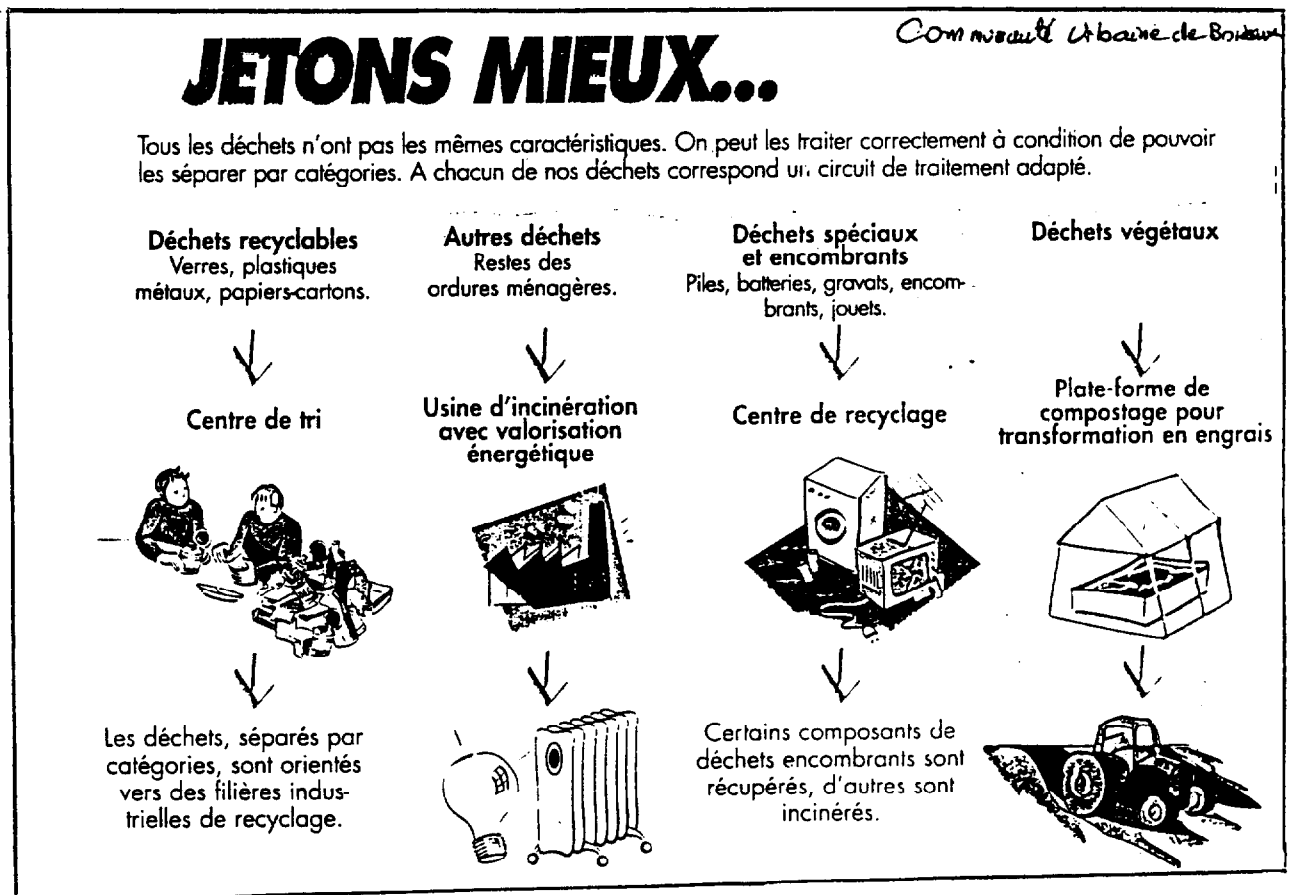
2.2.3. Citer une autre méthode contraceptive :

0,5 pt

3 - Anaïs et Loïc louent un appartement dans une commune qui pratique le tri des déchets par le biais de 2 poubelles :

- * la "verte" pour les déchets recyclables autre que le verre,
- * la "marron" pour les autres déchets.

Ce document explique la nécessité du tri.



GROUPEMENT INTERACADEMIQUE	SESSION 2000	
C.A.P. Secteur B - 14 JUIN - B.E.P.	Epreuve : Vie Sociale et Professionnelle	
Coefficient { C.A.P. : 1 B.E.P. : 1	Durée { C.A.P. 1 H B.E.P. 1 H	Page 5/6

3.1. Voici le contenu de leur poubelle :

bouteille plastique d'eau - canette aluminium de soda - épluchure de pomme -
 feuilles flétries de salade - dépliants publicitaires - boîte vide de maïs -
 déchets des assiettes du dîner - boîte vide de chaussures.

2 pts Répartir ces ordures dans l'une ou l'autre des poubelles.

POUBELLE "VERTE"	POUBELLE "MARRON"

3.2. Anaïs se demande ce que deviennent ensuite les déchets recyclables.

Expliquer en prenant l'exemple du verre récupéré dans les bornes à verre et préciser l'avantage du recyclage.

1 pt

3.3. Mais ils sont bien embarrassés par l'emballage (bois, polystyrène) de la cuisinière qu'ils viennent d'acheter.

1 pt Citer le lieu autorisé où ils peuvent apporter cet emballage.

GROUPEMENT INTERACADEMIQUE		SESSION 2000	
C.A.P. Secteur B - 14 JUIN - B.E.P.		Epreuve : Vie Sociale et Professionnelle	
Coefficient { C.A.P. : 1 B.E.P. :		Durée { C.A.P. ¹ H B.E.P.	Page 6/6