

SITUATION

Pierre DURAND vient d'obtenir son CAP. Il est à la recherche d'un emploi.

A midi, il déjeune à la cafétéria d'une grande surface et en profite pour faire ses courses.

A partir de cette situation et de vos connaissances, répondre directement sur le sujet.

(1 point sera enlevé pour non respect des consignes).

1 -

1.1. Dans la liste ci-dessous, cocher les organismes pouvant l'aider à trouver un emploi, et donner la signification des sigles CAF et ANPE.

2 pts

ORGANISME	<input checked="" type="checkbox"/>	SIGNIFICATION
M.L.	<input type="checkbox"/>	Mission locale
C.A.F.	<input type="checkbox"/>	
A.N.P.E.	<input type="checkbox"/>	

1.2. Il consulte les offres d'emploi sur un journal.

1.2.1. Décoder l'offre suivante en la réécrivant en toutes lettres.

3 pts

Rech. J.H. ouvrier sérieux pour poste
de travail en 3/8
C.D.D. 6 mois
Env. C.V.
France Bois B.P. 30
33194 Bordeaux Cedex.

GRUPEMENT INTERACADEMIQUE

SESSION 2000

C.A.P. Secteur A - 15 JUIN -

~~B.E.P.~~ alimentation

Epreuve :

Vie Sociale et Professionnelle

Coefficient { C.A.P. : 1
 ~~B.E.P.~~ :

Durée { C.A.P. 1 H
 ~~B.E.P.~~

Page

1/5

1.2.2. Expliquer l'expression travail en 3/8.

1.3. Il a pris contact avec le chef d'entreprise pour l'emploi paru dans l'annonce ci-dessus et il est convoqué pour l'entretien d'embauche. Citer quatre conseils pour réussir un entretien d'embauche.

2 - Avant de se rendre à l'entretien, il déjeune dans une cafétéria du centre ville qui propose les préparations suivantes :

<u>ENTREE</u>	<u>PLAT PRINCIPAL</u>	<u>ACCOMPAGNEMENT</u>	<u>DESSERT</u>
<ul style="list-style-type: none"> . Pâté de campagne . Taboulé (semoule) . Carottes râpées . Jambon 	<ul style="list-style-type: none"> . Escalope de veau . Côte de porc . Truite 	<ul style="list-style-type: none"> . Pommes de terre vapeur . Haricots verts . Pâtes . Riz 	<ul style="list-style-type: none"> . Yaourt . Gâteau au chocolat . Pomme . Fromage

2.1. Composer un menu équilibré et cocher d'une croix le composant alimentaire principal de chaque plat choisi.

4 pts

	Proposition de menu équilibré	Glucides	Lipides	Protides	Calcium	Vitamines Fibres
Entrée						
Plat						
Accompagnement						
Dessert						

GROUPEMENT INTERACADEMIQUE

SESSION 200 0

C.A.P. Secteur A - 15 JUIN -

~~**B.E.P.**~~

Epreuve :

Vie Sociale et Professionnelle

Coefficient { **C.A.P.** : 1
~~**B.E.P.**~~ :

Durée { **C.A.P.** 1 H
~~**B.E.P.**~~

Page

2/5

2.2.

DOC 1

Facteurs de risque

Les maladies cardio-vasculaires constituent dans les pays occidentaux la première cause de mortalité, bien avant le cancer. Un des facteurs de risque est la surconsommation de lipides d'origine animale. Certaines personnes font le choix de modifier leur comportement alimentaire. Elles réduisent leur consommation de matières grasses. Elles ne consomment plus certains produits tels que le beurre ou la crème fraîche, ou achètent des « produits allégés ».

Lire le document ci-dessus.

2.2.1. Relever l'erreur alimentaire la plus fréquente.

1 PT

2.2.2. Préciser comment ont réagi les industriels.

1 pt

2.2.3. Citer l'organe principal atteint dans une maladie cardio-vasculaire.


0,5 pt

GROUPEMENT INTERACADEMIQUE		SESSION 2000	
C.A.P. Secteur A - 15 JUIN - B.E.P.		Epreuve : Vie Sociale et Professionnelle	
Coefficient { C.A.P. : 1 B.E.P. :		Durée { C.A.P. 1 H B.E.P. :	Page 3/5

3.1. Retrouver sur l'étiquette ci-contre les 5 mentions obligatoires d'un produit alimentaire pré-emballé.


2,5 pts

- 1 - - - - -
- 2 - - - - -
- 3 - - - - -
- 4 - - - - -
- 5 - - - - -



Les Saladières
PARISIENNE AU THON

SALADE AU THON



Saupiquet

SALPIQUET,
17, Bd Gaston Doumergue
87 50201
44202 MANTES CEDEX 02



Ingrédients: Thon 20%, eau, pommes de terre, carottes, champignons, huile végétale, haricots verts, moutarde, vinaigre, sucre, sel, arômes naturels, persil, amidons modifiés, épaississants: farine de guar et gomme xanthane.

POIDS NET TOTAL:
260 g

A consommer de préférence avant la date figurant sur la boîte.

Valeurs nutritionnelles moyennes pour 100 g de produit			
Protéines	Gléucides	Lipides	Valeur Energétique
6,5 g	5,6 g	8,7 g	127 Kcal 528 kJ

Les Saladières contribuent à une alimentation équilibrée

N° VERT 08 00 06 06 06 3615 SAUPIQUET

A - - - - -

GROUPEMENT INTERACADEMIQUE	SESSION 2000
C.A.P. Secteur A - 15 JUIN - B.E.P.	Epreuve : Vie Sociale et Professionnelle
Coefficient { C.A.P. : 1 B.E.P. :	Durée { C.A.P. 1 H B.E.P.
	Page 4/5

3.2. Choisir la signification du logo A en cochant la bonne réponse :

1 pt

Ce produit sera obligatoirement recyclé.

L'entreprise verse une participation financière pour prendre en charge la récupération et la valorisation de ces déchets.

Incite le consommateur à apporter son emballage dans un point de collecte.

Ce produit respecte l'environnement.

3.3. Les courses de Pierre s'élèvent à 937,91 F. Il paie par chèque, ce jour, à l'ordre de la SOREP à Bordeaux.
Rédiger le chèque ci-dessous.

2 pts

Crédit Mutuel
SUD - OUEST

Payez contre ce chèque en francs non endossable
sauf au profit d'un établissement bancaire ou assimilé

Somme en toutes lettres

en FRANCS
exclusivement

à l'ordre de

Payable en France
Compensable à : BORDEAUX (33)
CCM BARRIERE DU MEDOC
Tél : 05 56 02 98 77
N de chèque : 8539404

M: DURAND Piene:

RUE DU Lys.

33520 BRUGES

15589 33555 06182979140 78 [RUB]

chèque n°

FRF

A

LE

(02)

⑈8539404⑈0330155890084055518297980⑈

GROUPEMENT INTERACADEMIQUE		SESSION 2000	
C.A.P. Secteur A - 15 JUIN - B.E.P.		Epreuve : Vie Sociale et Professionnelle	
Coefficient { C.A.P. : 1 B.E.P. :		Durée { C.A.P. 1 H B.E.P. :	Page 5/5