

<b>ACADÉMIE DE POITIERS</b> <b>Session 2000</b>	Feuille : 1/5	N° d'anonymat
<b>EXAMEN</b> : CAP Vente Relation Clientèle (dominantes a et b)		
Epreuve : EP3 - Juridique et Economique		
Durée : 30 min	Coef : 2	
NOM : ..... Prénom : .....		

✂

<b>EXAMEN</b> : CAP Vente Relation Clientèle (dominantes a et b)	N° d'anonymat
Epreuve : EP3 - Juridique et Economique	

**Tableau de compétences**

CODE CAPACITE	TRAVAUX	NOTES
	<b><u>A - INITIATION ECONOMIQUE</u></b>	<b>CAP</b>
	<b>1 - La formation d'un prix</b>	<b>/ 10</b>
<b>b</b>	Préciser les éléments qui permettent la fixation du prix. Donner deux raisons qui expliquent le déséquilibre.	/ 4
<b>a</b>		/ 6
	<b>2 - Le chômage</b>	<b>/ 10</b>
<b>a</b>	Caractériser l'évolution du marché de l'emploi. Citer deux principales causes du chômage.	/ 4
<b>b</b>		/ 6
	<b><u>B - INITIATION JURIDIQUE</u></b>	
	<b>1 - Les collectivités territoriales : la Région</b>	<b>/ 10</b>
<b>b</b>	Préciser l'organe chargé de l'administration de la Région Préciser son rôle principal. Préciser les priorités de la Région	/ 3
<b>a</b>		/ 3
<b>a</b>		/ 4
	<b>2 - Le contrat de travail</b>	<b>/ 10</b>
<b>b</b>	Donner la signification du sigle "CDD" et préciser la particularité de ce contrat. Identifier le secteur utilisant le plus de CDD.	/ 7
<b>a</b>		/ 3
		<b>/ 40</b>

*Rédigez vos réponses sur la copie*

NE RIEN INSCRIRE DANS CETTE PARTIE

✂

NE RIEN INSCRIRE DANS CETTE PARTIE

Feuille 2/5

## A - INITIATION ECONOMIQUE

Document 1

### PORC : LE KILO PLONGE DE 27 CENTIMES

A 6,55 F, le cours du porc a encore baissé de 27 centimes du kilo, au marché de Plérin (Côtes-d'Armor) jeudi. En trois semaines, il aura perdu 1,26 F.

#### La volaille revient en force

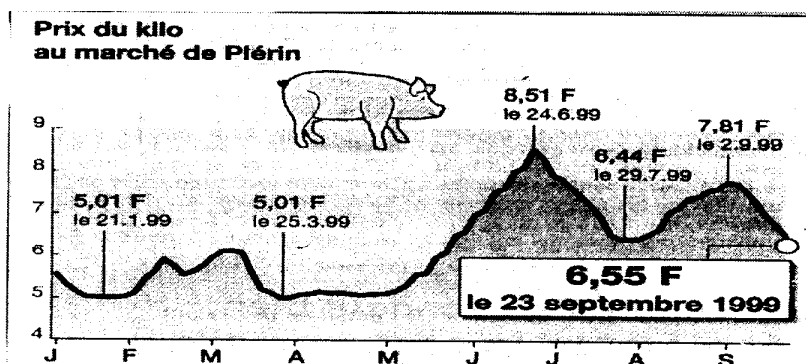
... L'automne n'est jamais favorable à ce marché. L'effet dioxine s'atténuant, la volaille revient en force dans les rayons concurrencer le porc. "Et même, ajoute avec humour un

autre habitué du marché, quand la chasse est ouverte, on mange moins de cochon et plus de gibier !"

#### Toujours la surproduction

La surproduction demeure cependant la cause profonde de cette crise qui dure depuis près d'un an et demi.

Même si l'offre tend à se réduire (la production a diminué de 16 % en Grande-Bretagne), elle n'en demeure pas moins excédentaire...



Ouest-France du 24/09/99

### 1 - La formation d'un prix

REPONDRE SUR LA COPIE

A partir du document 1 et de vos connaissances :

- 1) Citez les trois éléments qui peuvent être pris en compte pour déterminer un prix de vente.
- 2) Donnez deux raisons pour lesquelles le marché du porc est en déséquilibre.

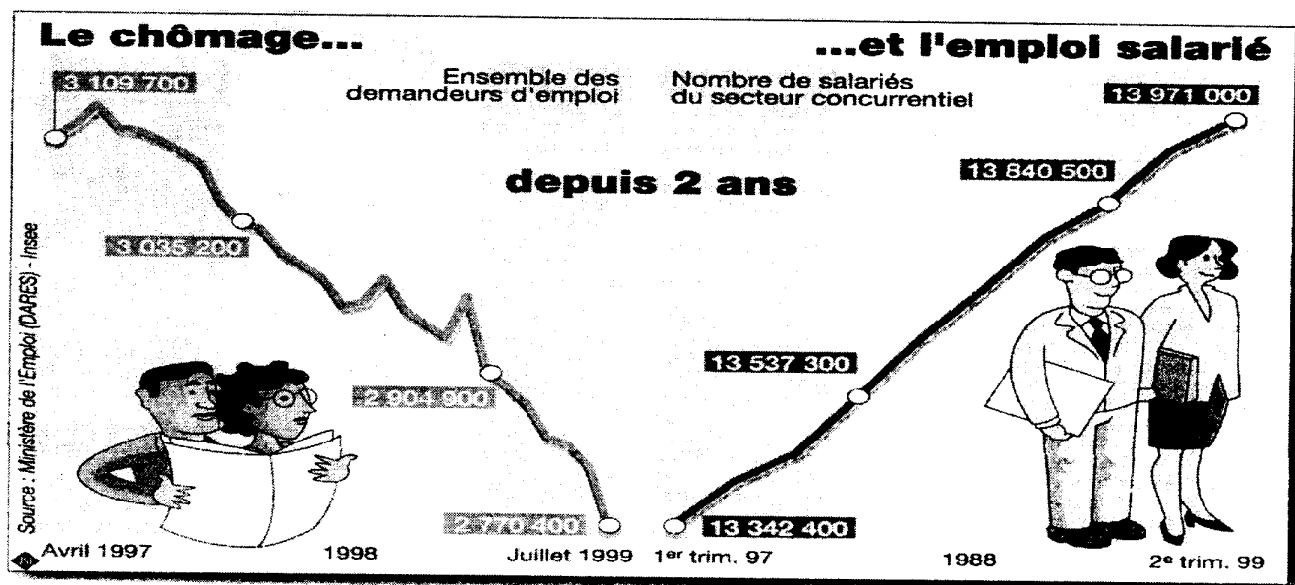
NE RIEN INSCRIRE DANS CETTE PARTIE



NE RIEN INSCRIRE DANS CETTE PARTIE

Feuille 3/5

Document 2



Ouest-France 01/09/99

## 2 - Le Chômage

REPONDRE SUR LA COPIE

A partir du *document 2* et de vos connaissances :

- 1) Formulez une appréciation sur la situation du marché de l'emploi en France au cours de ces deux dernières années.
- 2) Précisez deux causes principales du chômage.

NE RIEN INSCRIRE DANS CETTE PARTIE

NE RIEN INSCRIRE DANS CETTE PARTIE

Feuille 4/5

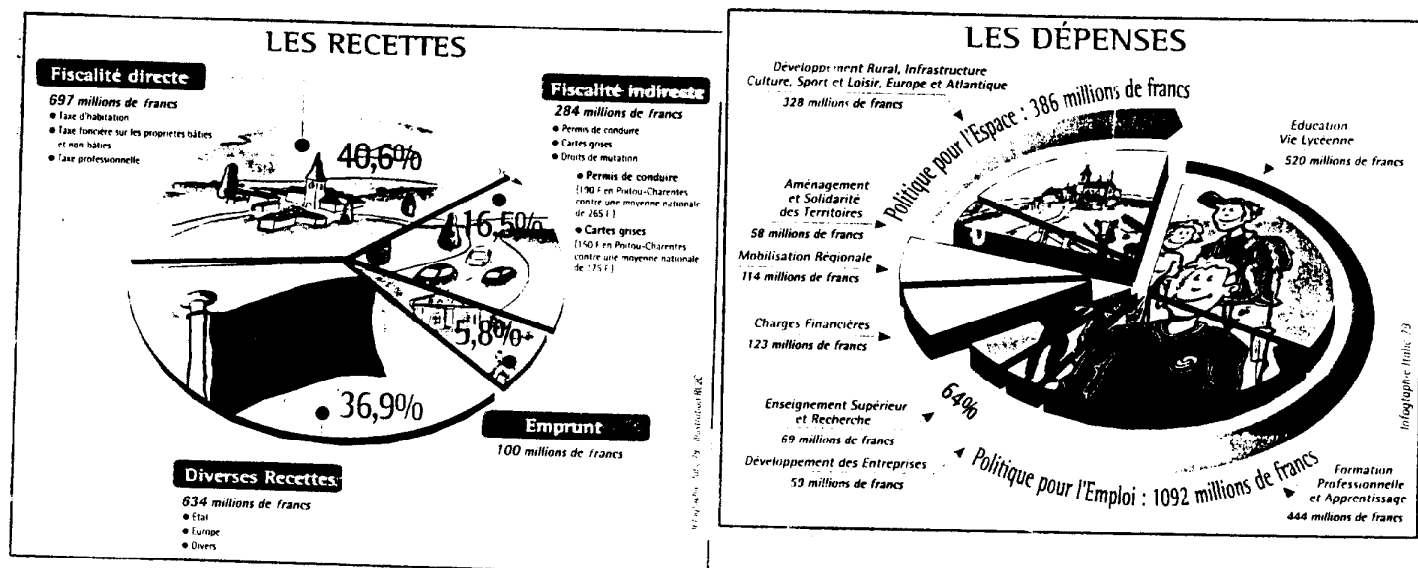
## B - INITIATION JURIDIQUE

### 1 - Les collectivités territoriales : La Région

Document 3

#### Le budget de la Région

Le vote du budget est l'acte le plus important du Conseil régional. Les élus votent, chaque année en décembre, les dépenses et les recettes pour l'année à venir. Cette décision est précédée d'un débat sur les grandes lignes d'action de la collectivité (discussions, critiques, approbations...). A souligner, Poitou-Charentes est la région de France qui se désendette le plus rapidement.



Pages d'information du Conseil Régional,  
Poitou-Charentes, 1998.

REPONDRE SUR LA COPIE

A partir du *document 3* et de vos connaissances :

1) Quel est l'organe chargé de l'administration de la Région ?

➤ Quel est son rôle principal ?

2) En matière de dépenses, quelles sont les deux priorités essentielles de la Région ?

NE RIEN INSCRIRE DANS CETTE PARTIE



NE RIEN INSCRIRE DANS CETTE PARTIE

Feuille 5/5

## 2 - Le contrat de travail

Document 4

### ***Le commerce, premier utilisateur de CDD***

*Nombre de salariés en CDD*

<b>COMMERCE</b>	<b>148 138</b>
<b>INDUSTRIES ALIMENTAIRES</b>	<b>36 563</b>
<b>INDUSTRIES BIENS DE CONSOMMATION</b>	<b>42 592</b>
<b>TRANSPORTS</b>	<b>51 949</b>
<b>CONSTRUCTION</b>	<b>51 278</b>
<b>AGRICULTURE, SYLVICULTURE ET PÊCHE</b>	<b>40 947</b>

*Source : Insee Enquête emploi de janvier 1999*

LSA 23/09/99

**REONDRE SUR LA COPIE**

**A partir du *document 4* et de vos connaissances :**

1) CDD : Remplacez le sigle par l'expression qui convient et en donner la définition.

➤ Précisez la particularité d'un tel contrat.

2) Quel est le secteur qui utilise le plus de CDD ?