

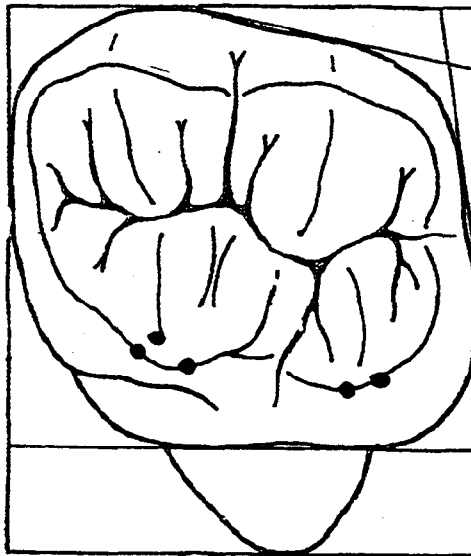
## FACE OCCLUSALE

### Question I (7,5 Points) :

Dessiner la face occlusale de la 26. Indiquer ensuite, avec un crayon bleu, les points d'occlusion (*avec les dents antagonistes*) de ses cuspides d'appui.

- Propreté et qualité des tracés..... 1,5 Points
- Respect des proportions..... 2 Points
- Morphologie..... 2 Points
- Point d'occlusion..... 2 Points

Dessin à rendre au crayon à encre noir



<b>GROUPEMENT INTERACADEMIQUE II CORRIGÉ</b>		<i>Session Juin 2000</i>	
<i>EXAMEN</i>	<b>CAP Prothésiste Dentaire</b>	<i>Coef: 4</i>	<i>Durée : 4 h 00</i>
<i>EPREUVE</i>	<b>EP1 - Partie Dessin</b>		<b>Feuille : 1/3</b>

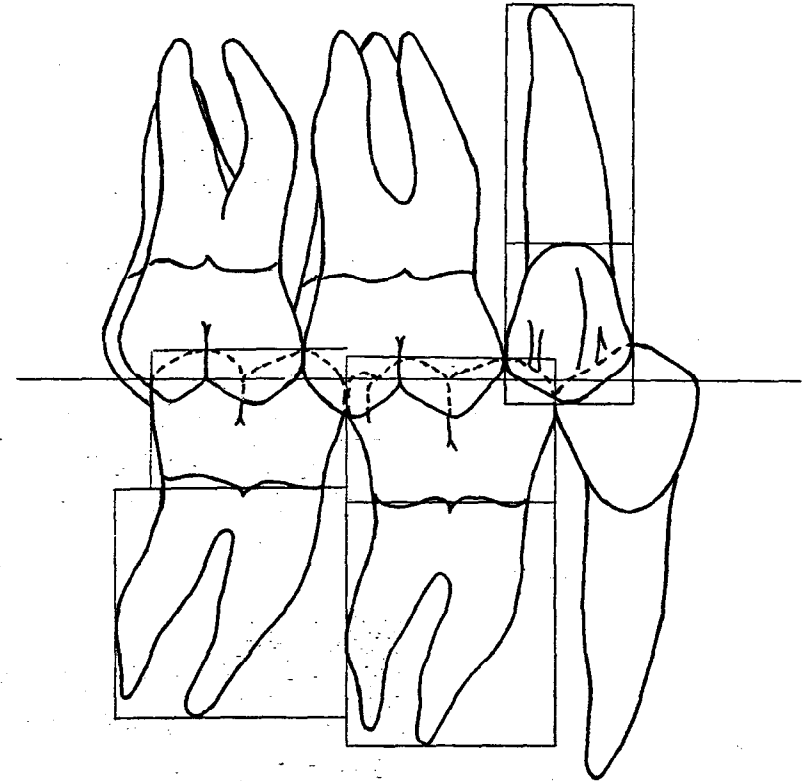
**Question II (11,5 Points) :**

**ENGRENEMENT :**

A l'aide des cadres, dessinez les dents suivantes : 46-47-15 en vue vestibulaire.

Dessin à rendre au crayon à encre noir

- Propreté et qualité des tracés..... 2,5 Points
- Respect des proportions..... 3 Points
- Engrenement..... 3 Points
- Morphologie..... 3 Points



<b>GROUPEMENT INTERACADEMIQUE II CORRIGÉ</b> <i>Session Juin 2000</i>			
EXAMEN	<b>CAP Prothésiste Dentaire</b>	Coef: 4	Durée: 4 h 00
EPREUVE	<b>EP1 - Partie Dessin</b>		<b>Feuille : 2/3</b>

**Question III (14 Points) :**

Sur chaque dessin, vous devez réaliser un crochet différent - 1 crochet simple et 1 crochet Roach, sur la 45 en tenant compte de la ligne guide. Cette ligne sera représenté en pointillé.

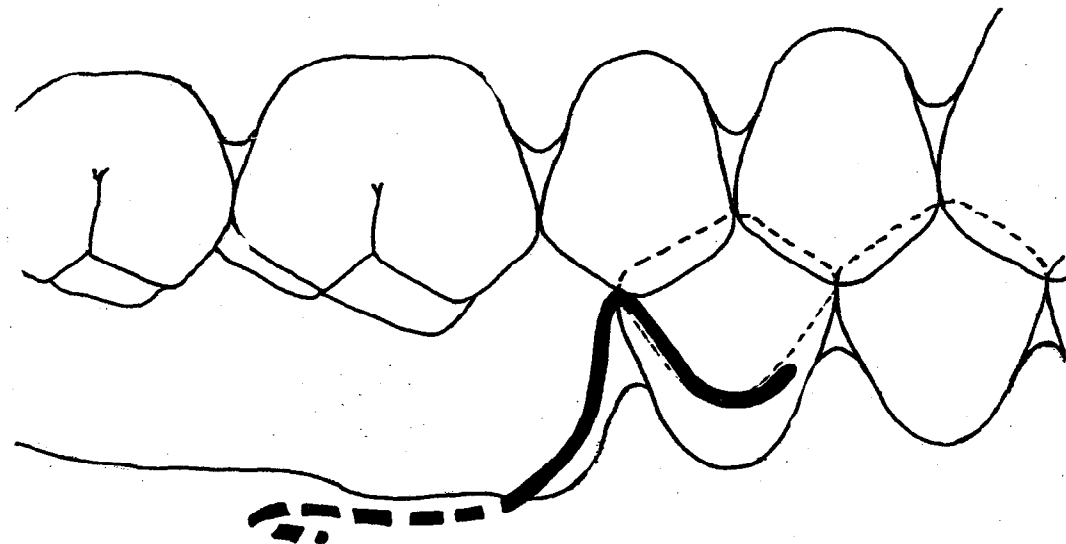
Dessin à rendre au crayon à encre noir

- Forme/aspect général du crochet 2 Points
- Respect de la ligne guide 2 Points
- Respect de la longueur de la queue 1,5 Points
- Propreté de la réalisation 1,5 Points

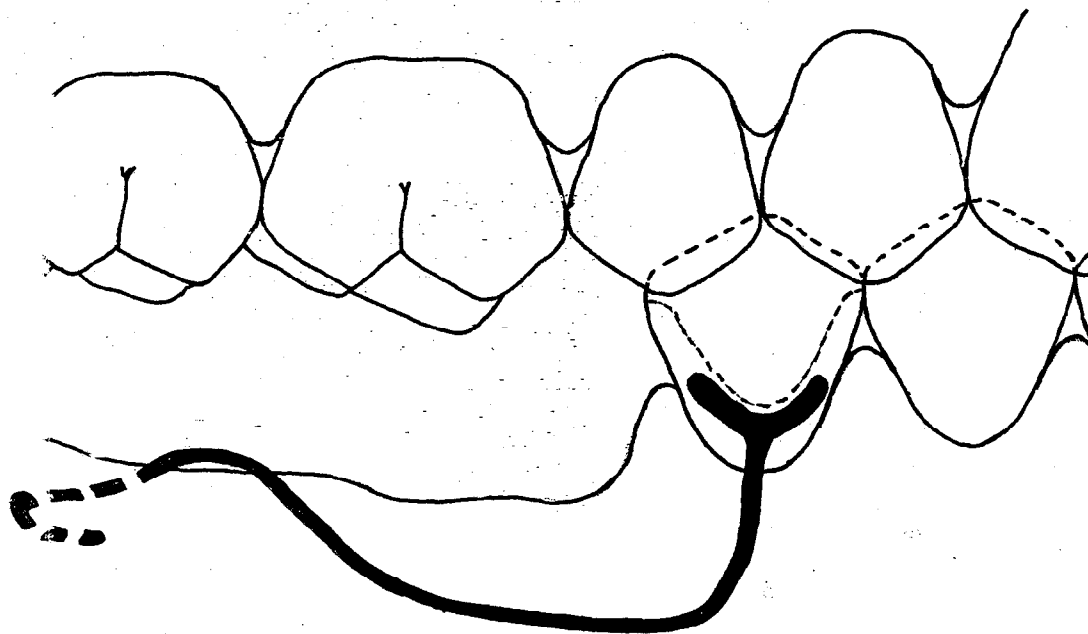
Total

DESSIN A	DESSIN B
/07	/07
24	

**Dessin A :**



**Dessin B :**



**GROUPEMENT INTERACADEMIQUE II**      **CORRIGÉ**      *Session Juin 2000*

EXAMEN

**CAP Prothésiste Dentaire**

Coef : 4

Durée : 4 h 00

EPREUVE

**EP1 - Partie Dessin**

**Feuille : 3/3**