


FACE OCCLUSALE

Question I (7,5 Points) :

Dessiner la face occlusale de la 26. Indiquer ensuite, avec un crayon bleu, les points d'occlusion (*avec les dents antagonistes*) de ses cuspides d'appui.

- Propreté et qualité des tracés..... 1,5 Points
- Respect des proportions..... 2 Points
- Morphologie..... 2 Points
- Point d'occlusion..... 2 Points

Dessin à rendre au crayon à encre noir



GROUPEMENT INTERACADEMIQUE II			<i>Session Juin 2000</i>
<i>EXAMEN</i>	CAP Prothésiste Dentaire	<i>Coef : 4</i>	<i>Durée : 4 h 00</i>
<i>EPREUVE</i>	EP1 - Partie Dessin		Feuille : 1/3

DESSIN MORPHOLOGIQUE

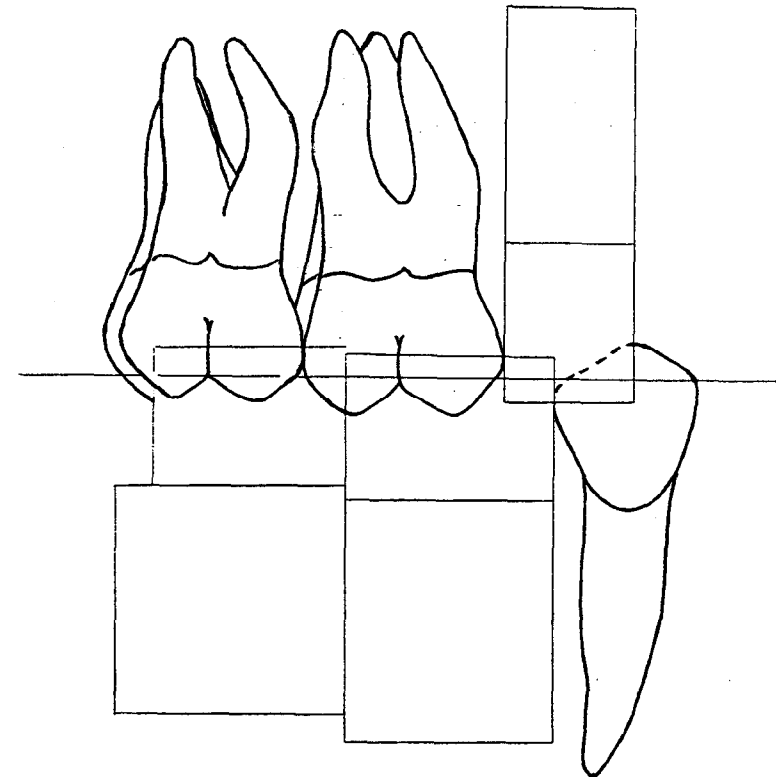
Question II (11,5 Points) :

ENGRENEMENT :

A l'aide des cadres, dessinez les dents suivantes : 46-47-15 en vue vestibulaire.

Dessin à rendre au crayon à encre noir

- Propreté et qualité des tracés..... 2,5 Points
- Respect des proportions..... 3 Points
- Engrenement..... 3 Points
- Morphologie..... 3 Points



GROUPEMENT INTERACADEMIQUE II			<i>Session Juin 2000</i>
<i>EXAMEN</i>	CAP Prothésiste Dentaire	<i>Coef : 4</i>	<i>Durée : 4 h 00</i>
<i>EPREUVE</i>	EP1 - Partie Dessin	Feuille : 2/3	

Question III (14 Points) :

Sur chaque dessin, vous devez réaliser un crochet différent - 1 crochet simple et 1 crochet Roach, sur la 45 en tenant compte de la ligne guide.

Vous devrez indiquer cette ligne guide en pointillé, et ensuite dessiner les crochets.

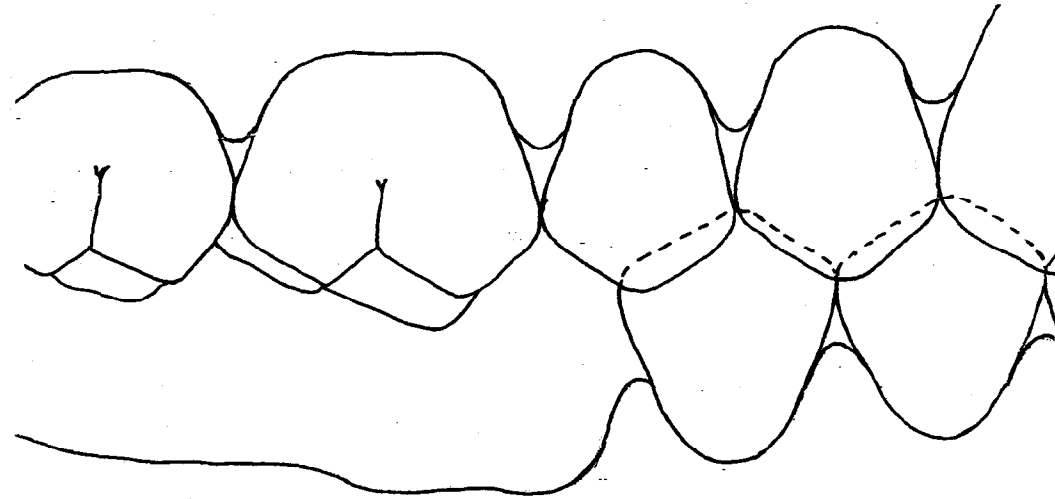
Le dessin est à rendre au crayon encre noir.

- Forme/aspect général du crochet 2 Points
- Respect de la ligne guide 2 Points
- Respect de la longueur de la queue 1,5 Points
- Propreté de la réalisation 1,5 Points

DESSIN A	DESSIN B
/07	/07
24	

Total

Dessin A :



Dessin B :

