

DANS CE CADRE	Academie :	Session :	Modele E.N.
	Examen :	Série :	
	Spécialité/option :	Repère de l'épreuve :	
	Epreuve/sous épreuve :		
	NOM		
(en majuscule, suivi s'il y a lieu, du nom d'épouse)			
Prénoms :	n° du candidat		
Né(e) le :			
(le numéro est celui qui figure sur la convocation ou liste d'appel)			
NE RIEN ECRIRE			

BEP HOTELLERIE - RESTAURATION
CAP CUISINE
CAP HEBERGEMENT
CAP RESTAURANT

Epreuve EP3 : Connaissance de l'Entreprise et de son Environnement Economique
Juridique et Social


	CAP	Points	BEP	Points
<u>1^{ère} PARTIE</u> : Droit du travail	11 pts		11 pts	
<u>2^{ème} PARTIE</u> : Institutions publiques	8 pts		8 pts	
<u>3^{ème} PARTIE</u> : Economie	5 pts		9 pts	
<u>4^{ème} PARTIE</u> : Gestion commerciale	16 pts		8 pts	
<u>5^{ème} PARTIE</u> : Informatique	—		4 pts	
	/ 40		/ 40	

BEP HOTELLERIE – RESTAURATION			
CAP CUISINE / HEBERGEMENT / RESTAURANT			
SUJET n° 2	EPREUVE EP3 :	Durée	BEP : 1 heure
	Connaissance de l'Entreprise et de son Environnement Economique		CAP : 30 min
SESSION 2001	Juridique et Social	Coef. : 2	Page 1/8

NE RIEN ECRIRE DANS CE CADRE

1^{ère} partie : Droit du travail (BEP/CAP)

- 1- Complétez le bulletin de paye (Annexe paye), en calculant : le total des charges patronales, le salaire net, le net à payer en francs et en Euros.
- 2- Combien coûte le salarié Laurent JUVE à l'entreprise « Aux Fourchettes Gourmandes » ? Justifiez votre réponse.
- 3- Remplissez le chèque à remettre au salarié Laurent JUVE, le 31/10/2000. (Annexe CHQ)

	Banque Nationale de Paris	A rédiger exclusivement en francs français	B.P.F.
Payez contre ce chèque non endossable sauf au profit d'un établissement bancaire ou assimilé :			
.....			
A.....			
PAYABLE QUARTIER LATIN 7 RUE SOUFFLOT 75006 PARIS 01 802 35 50 26 encaissable à PARIS 8870350 chèque n°	Agence n° 00969	compte n° 02257368 00969 02288573	A..... le
Aux Fourchettes Gourmandes 15, rue de Panama 75018 Paris			
■ 6870350 ■ 000000004001 ▲ 096902257368 ◆			

BEP HOTELLERIE – RESTAURATION CAP CUISINE / HEBERGEMENT / RESTAURANT			
SUJET n° 2	EPREUVE EP3 : Connaissance de l'Entreprise et de son Environnement Economique Juridique et Social	Durée	BEP : 1 heure CAP : 30 min
SESSION 2001		Coef. : 2	Page 2/8

NE RIEN ECRIRE DANS CE CADRE

Annexe Paye

Aux Fourchettes Gourmandes
15, rue de Panama
75018 Paris
SIRET : 54214300600011
APE : 551 C
URSSAF : 757 800225772001011

BULLETIN DE PAIE

Paie du 01/10/2000 au 31/10/2000
Nombre d'heures travaillées 225,33

Monsieur Laurent JUVÉ
3, rue de Suez
75018 PARIS

N° S.S. : 1 81 01 99 351 819 / 82
EMPLOI : Aide Cuisinier
CATEGORIE : Ouvrier qualifié
DATE D'ENTREE : 01/03/1998

Convention collective : Cafés-Hôtels-Restaurants.

Désignation	Base	Charges salariales		Charges patronales	
		Taux	Montant	Taux	Montant
Salaire de base	225,33	42,00	9 463,86		
Indemnité de nourriture	23,00	18,46	424,58		
SALAIRE BRUT			9 888,44		
C.S.G. + R.D.S. (Non déductible)	9 394,02	2,90 %	272,43		
C.S.G. (Déductible)	9 394,02	5,10 %	479,09		
URSSAF - Ass. Maladie - Tot.	9 888,44	0,75 %	74,16	12,80 %	1 265,72
URSSAF - Ass. Vieillesse Plaf..	9 888,44	6,55 %	647,69	8,20 %	810,85
URSSAF - Ass. Vieillesse déplaf.	9 888,44			1,60 %	158,22
URSSAF - Ass. Veuvage déplaf.	9 888,44	0,10 %	9,89		
Accident du travail	9 888,44			1,20 %	118,66
Allocations Familiales	9 888,44			5,40 %	533,98
FNAL - Plafonnée	9 888,44			0,10 %	9,89
ASSEDIC-GARP - Tranche A	9 888,44	3,01 %	297,64	5,13 %	507,28
ASSEDIC-GARP - tranche B		3,60 %		5,26 %	
F.N.G.S.	9 888,44			0,20 %	19,78
Retr.Compl.-INIRS	9 888,44	3,00 %	296,65	4,50 %	444,98

Charges sociales **2 077,56**

Salaire Net			
Indemnité de transport	285,00	50,00 %	142,50
Net à payer			

En EURO

Salaire Imposable 8 083,31

Pour information : 1 Euro = 6,55957 Francs

Cumul Salaire Brut de l'année	98 884,40	Cumul Salaire Imposable de l'année	80 833,10
Cumul Charges Salariales de l'année	20 775,61	Cumul Charges patronales de l'année	38 693,47
Cumul Heures travaillées	2 253,30	Cumul Jours Congés payés	12,50

Pour faire valoir vos droits, conservez ce bulletin sans limitation de durée.

BEP HOTELLERIE - RESTAURATION CAP CUISINE / HEBERGEMENT / RESTAURANT

SUJET n° 2	EPREUVE EP3 :	Durée	BEP : 1 heure
	Connaissance de l'Entreprise et de son Environnement Economique		CAP : 30 min
SESSION 2001	Juridique et Social	Coef. : 2	Page 3/8

NE RIEN ECRIRE DANS CE CADRE

2^{ème} partie : Institutions Publiques

Politique

Ouest-France
Mardi 26 septembre 2000

Les chiffres globaux du scrutin

Les résultats définitifs du référendum sur le quinquennat n'ont pas modifié les résultats provisoires diffusés tout au long de la soirée de dimanche. Sept électeurs sur dix ont boudé la question posée. Et 7,3 sur dix de ceux qui ont voté ont approuvé la réduction à cinq ans du mandat présidentiel. La nouvelle disposition constitutionnelle sera promulguée dans les quinze jours et entrera en vigueur lors de la prochaine élection présidentielle, prévue au printemps 2002.

Les deux données fortes du scrutin de dimanche – l'abstention et le oui – sont constatées sur l'ensemble du territoire. A quelques nuances près toutefois.

Les résultats du référendum			
Totalisation du ministère de l'Intérieur – résultats provisoires			
Inscrits	39 943 338		
Votants	12 058 570		France entière
Exprimés	10 118 672		
Abstention	70,81 %		
Blancs ou nuls	4,86 %	des inscrits	16,1 % des votants
OUI	7 407 993 VOIX		73,21 %
NON	2 710 682 VOIX		26,79 %

En vous aidant du texte et de vos connaissances, répondez aux questions ci-après :

1. Quelle est la durée actuelle du mandat du Président de la République ?

2. Quelle était la question posée lors du référendum du 24 septembre 2000 ?

BEP HOTELLERIE – RESTAURATION			
CAP CUISINE / HEBERGEMENT / RESTAURANT			
SUJET n° 2	EPREUVE EP3 :	Durée	BEP : 1 heure
SESSION 2001	Connaissance de l'Entreprise et de son Environnement Economique	Coef. : 2	CAP : 30 min
	Juridique et Social		Page 4/8

NE RIEN ECRIRE DANS CE CADRE

3. Retrouvez le résultat en pourcentage de ce référendum.

4. Quelle sera la conséquence du vote de ce référendum ?

5. Que veut dire le mot « abstention » ?

6. Citez quatre pouvoirs attribués au Président de la République : **(BEP UNIQUEMENT)**

BEP HOTELLERIE – RESTAURATION			
CAP CUISINE / HEBERGEMENT / RESTAURANT			
SUJET n° 2	EPREUVE EP3 :	Durée	BEP : 1 heure
	Connaissance de l'Entreprise et de son Environnement Economique		CAP : 30 min
SESSION 2001	Juridique et Social	Coef. : 2	Page 5/8

NE RIEN ECRIRE DANS CE CADRE

3^{ème} partie : Économie (BEP/CAP)

Extrait de La découverte « l'Etat de la France 1999-2000 » de C. Tuchsirer

“ De nouveaux emplois pour les jeunes.

Adopté à l'automne 1997, le programme nouveaux services – nouveaux emplois dédié aux jeunes de moins de 26 ans, vise par la création d'ici l'an 2000, de 350 000 emplois dans le secteur public et associatif, à faire reculer le chômage des jeunes par une meilleure prise en compte des besoins sociaux non satisfaits ... 73 % des jeunes embauchés étaient antérieurement à la recherche d'un emploi et 10 % d'entre eux étaient au chômage depuis plus d'un an ... ”

1. Quelle est la condition énoncée dans le texte pour bénéficier d'un emploi jeune ?

2. Quel est l'objectif de ce programme ?

3. Définition d'un chômeur :

4. Quel est l'intérêt de ces contrats pour les jeunes, et pour le secteur public et associatif ?
(BEP UNIQUEMENT)

5. Expliquez pourquoi les jeunes sont touchés en grand nombre par le chômage :
(BEP UNIQUEMENT)

**BEP HOTELLERIE – RESTAURATION
CAP CUISINE / HEBERGEMENT / RESTAURANT**

SUJET n° 2	EPREUVE EP3 : Connaissance de l'Entreprise et de son Environnement Economique Juridique et Social	Durée	BEP : 1 heure CAP : 30 min
SESSION 2001		Coef. : 2	Page 6/8

NE RIEN ECRIRE DANS CE CADRE

4^{ème} partie : Gestion Commerciale

LA FICHE DE STOCKS (BEP/CAP)

Complétez la fiche de stock suivante selon la méthode du Coût Moyen Unitaire Pondéré après chaque entrée.

		ENTRÉES			SORTIES			STOCKS		
Date	Nature	Q	P U	Total	Q	P U	Total	Q	P U	Total
1/02	SI	100	110.00	11 000.00				100	110.00	11 000.00
2/02	BE 1	200	90.00	18 000.00				300	96.67	29 000.00
7/02	BS 5				100	96.67	9 667.00	200	96.67	19 334.00
15/02	BE 4	50	80.00	4 000.00				250	93.34	23 334.00
16/02	BS 6				75	93.34	7 000.50	175		
17/02	BE 9	120	130.00	15 600.00				295		
20/02	BS 8				200			95		
25/02	BS 9				50			45		
28/02	BE 12	50	140.00	7 000.00				95		

JUSTIFICATION DES CALCULS DU CMUP :

....

....

BEP HOTELLERIE – RESTAURATION CAP CUISINE / HEBERGEMENT / RESTAURANT

SUJET n° 2	EPREUVE EP3 : Connaissance de l'Entreprise et de son Environnement Economique Juridique et Social	Durée	BEP : 1 heure CAP : 30 min
SESSION 2001		Coef. : 2	Page 7/8

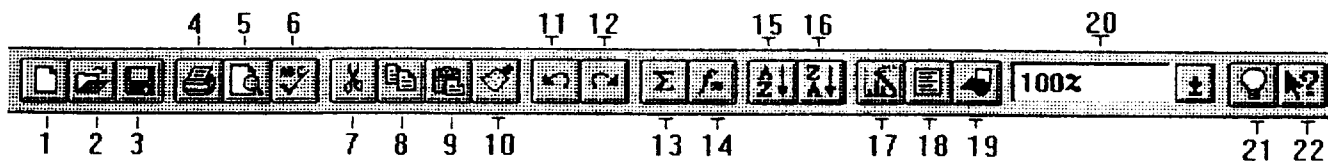
NE RIEN ECRIRE DANS CE CADRE

5^{ème} partie : Informatique (BEP UNIQUEMENT)

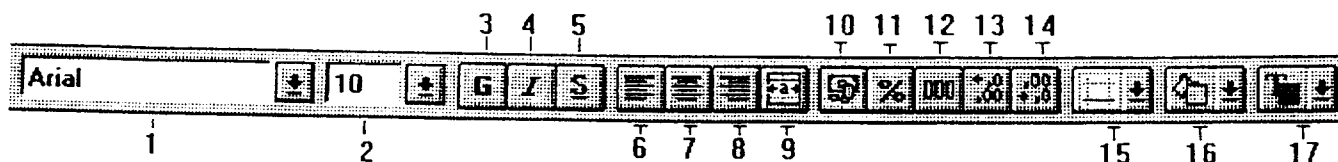
SOMME		X	✓	=	=SOMME(B4:B6)		
	A	B	C	D	E	F	G
1					Les Comptoirs		
2					Synthèse des ventes		
3		Janv	Févr	Mars	Avr	Mai	Juin
4	Eric Clouzot	20 553	28 036	35 550	43 043	50 542	58 040
5	Paul Willot	9 189	10 230	9 980	10 599	11 000	11 402
6	Martine Sabatier	23 788	37 294	39 458	49 183	57 018	64 853
7		=SOMME(B4:B6)					

1. Quel type de logiciel permet de réaliser ce travail ?

2. Notez la formule qui permettrait à ce logiciel de calculer le total du mois de janvier.



3. Notez le N° de la commande permettant d'imprimer le document : _____



4. Notez le N° de la commande permettant d'écrire en caractère gras : _____

5. Notez le N° de la commande permettant de centrer sur plusieurs colonnes : _____

BEP HOTELLERIE – RESTAURATION			
CAP CUISINE / HEBERGEMENT / RESTAURANT			
SUJET n° 2	EPREUVE EP3 :	Durée	BEP : 1 heure
SESSION 2001	Connaissance de l'Entreprise et de son Environnement Economique Juridique et Social	Coef. : 2	CAP : 30 min Page 8/8