

GROUPEMENT INTERACADEMIQUE IV - SESSION 2001**C.A.P. : METIERS DE LA PIERRE**

50.23206

**EPREUVE : EP2 REALISATION ET
MISE EN OEUVRE****DUREE :
30 H 00****COEFFICIENT :
10**

Cette chemise comporte 7 pages numérotées de 1/7 à 7/7,
dont 2 pages à rendre avec la copie (6/7 et 7/7).
Assurez-vous que cet exemplaire est complet.
S'il est incomplet, demandez un autre exemplaire au chef de salle.

CHEMISE – SUJET***L'USAGE DE LA CALCULATRICE EST AUTORISE***

GROUPEMENT INTERACADEMIQUE IV - SESSION 2001

C.A.P. : METIERS DE LA PIERRE

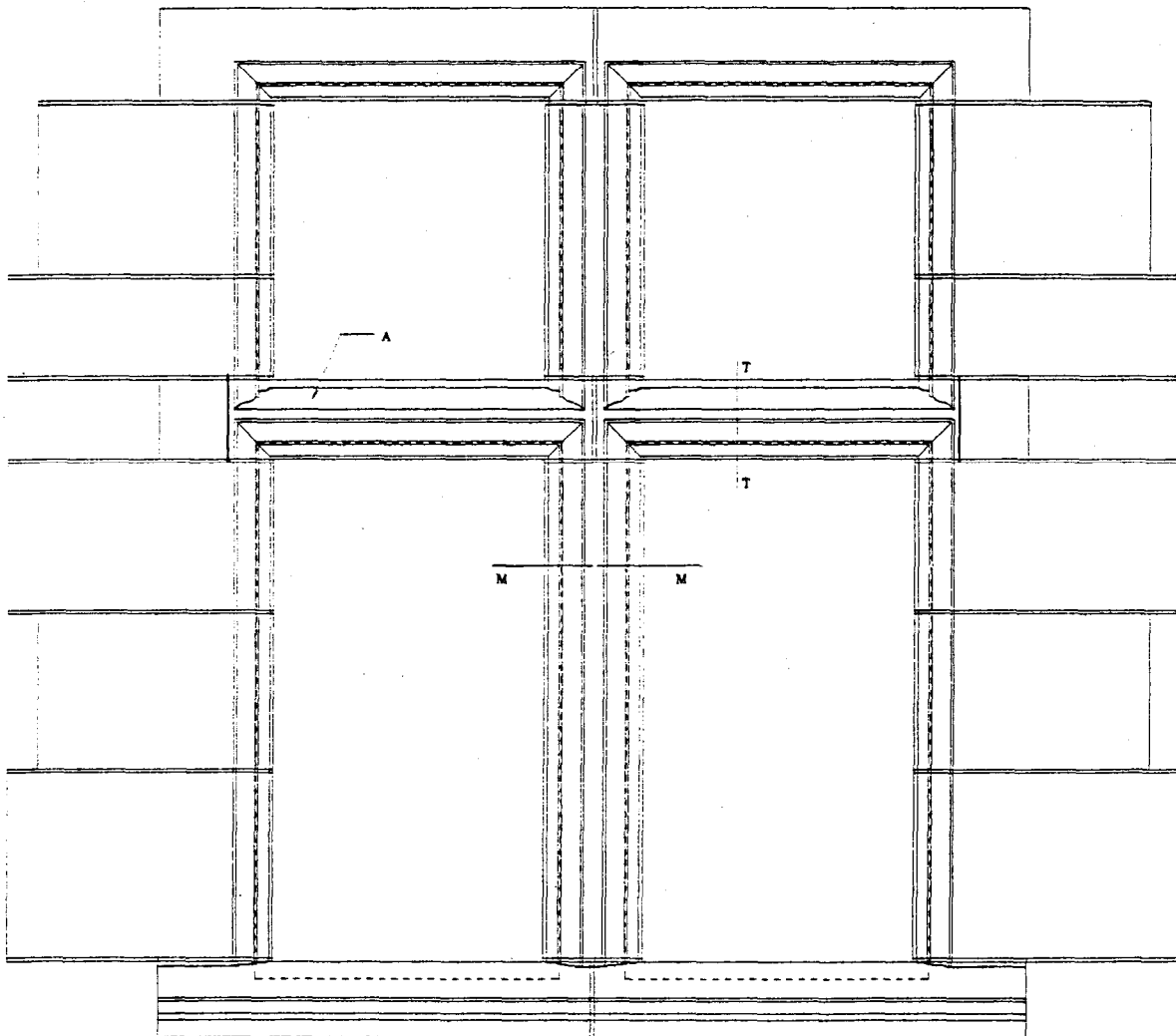
So. 23206

**EPREUVE : EP2 REALISATION ET
MISE EN ŒUVRE**

**DUREE :
30 heures**

**COEFFICIENT :
10**

SUJET



GROUPEMENT INTERACADEMIQUE IV - SESSION 2001**C.A.P. : METIERS DE LA PIERRE**

S. 2306

**EPREUVE : EP2 REALISATION ET
MISE EN OEUVRE****DUREE :
30 H 00****COEFFICIENT :
10****SUJET**

Temps alloué : Questions 1 et 2 2 heures
Question 3 28 heures

ON DEMANDE :

- 1 Le mode opératoire de la pierre repérée A en pierre d'Estailades (voir document page 1/7).

EVALUATION	TOTAL	/ 20
-------------------	--------------	-------------

- 2 De tracer et découper les différents panneaux nécessaires à la taille de la pierre repérée A.

EVALUATION	TOTAL	/ 20
-------------------	--------------	-------------

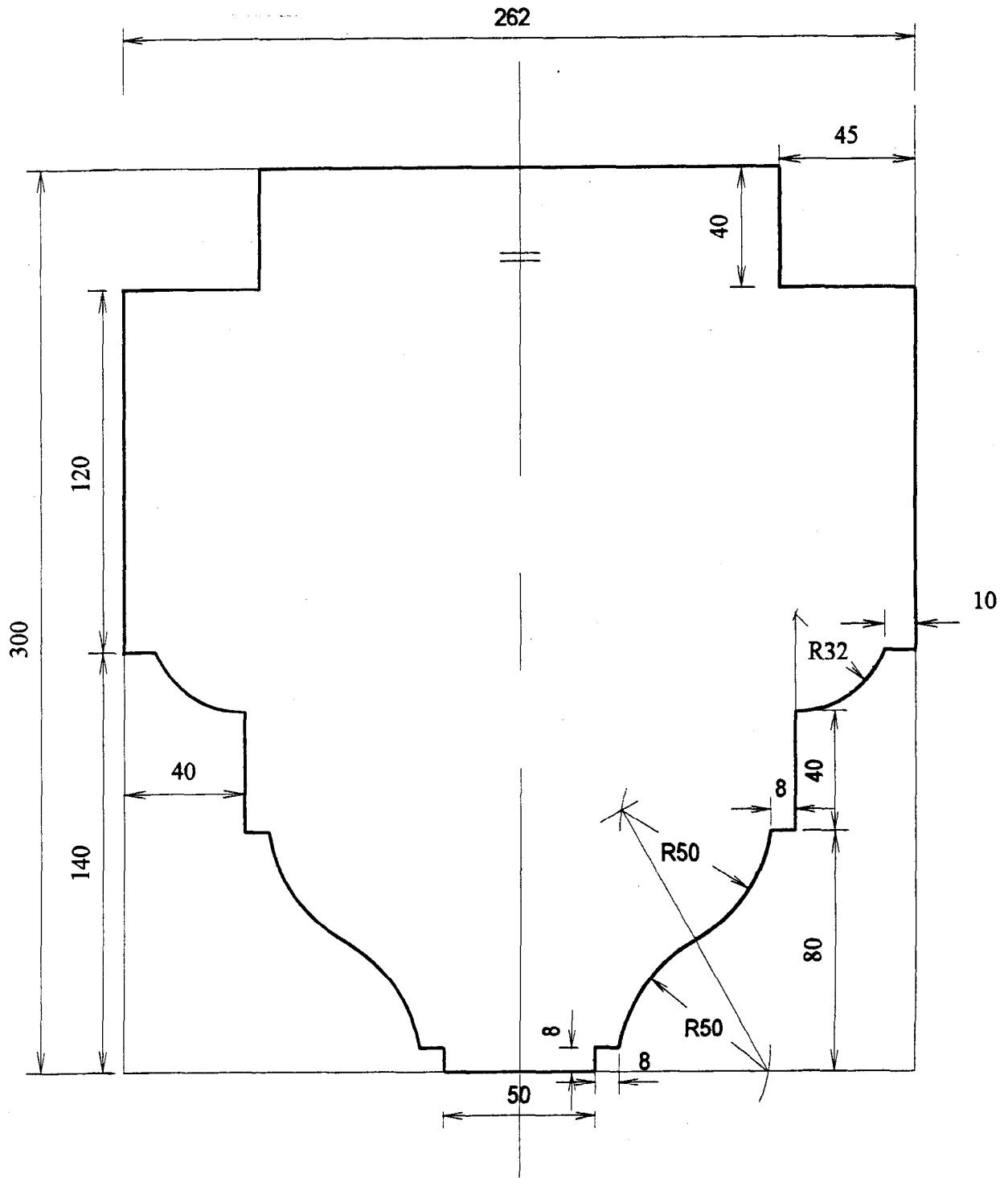
- 3 La taille de la pierre repérée A (*taille égrisée, les joints piqués*).

Présentation générale	20 pts
Respect des cotations	30 pts
Dressages des surfaces	15 pts
Equerrage de la pièce	15 pts
Respect des moulures	30 pts
Exactitudes des pénétrations	35 pts
Respect des arêtes	15 pts

EVALUATION	TOTAL	/ 160
-------------------	--------------	--------------

IMPORTANT : Tous les panneaux nécessaires à la taille devront être laissés à la disposition du jury.

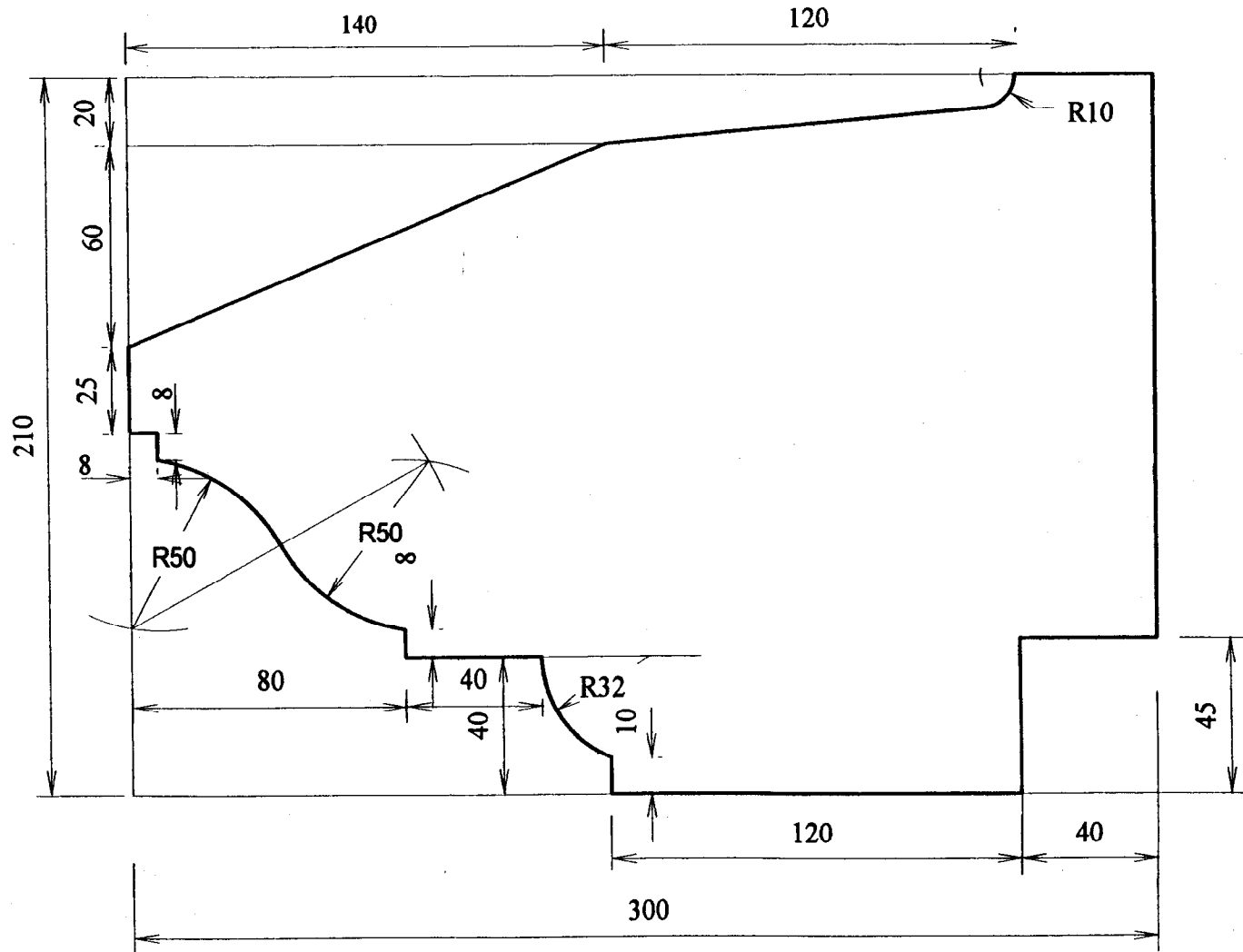
PROFIL MM



ech : 1/2

3/7

PROFIL TT



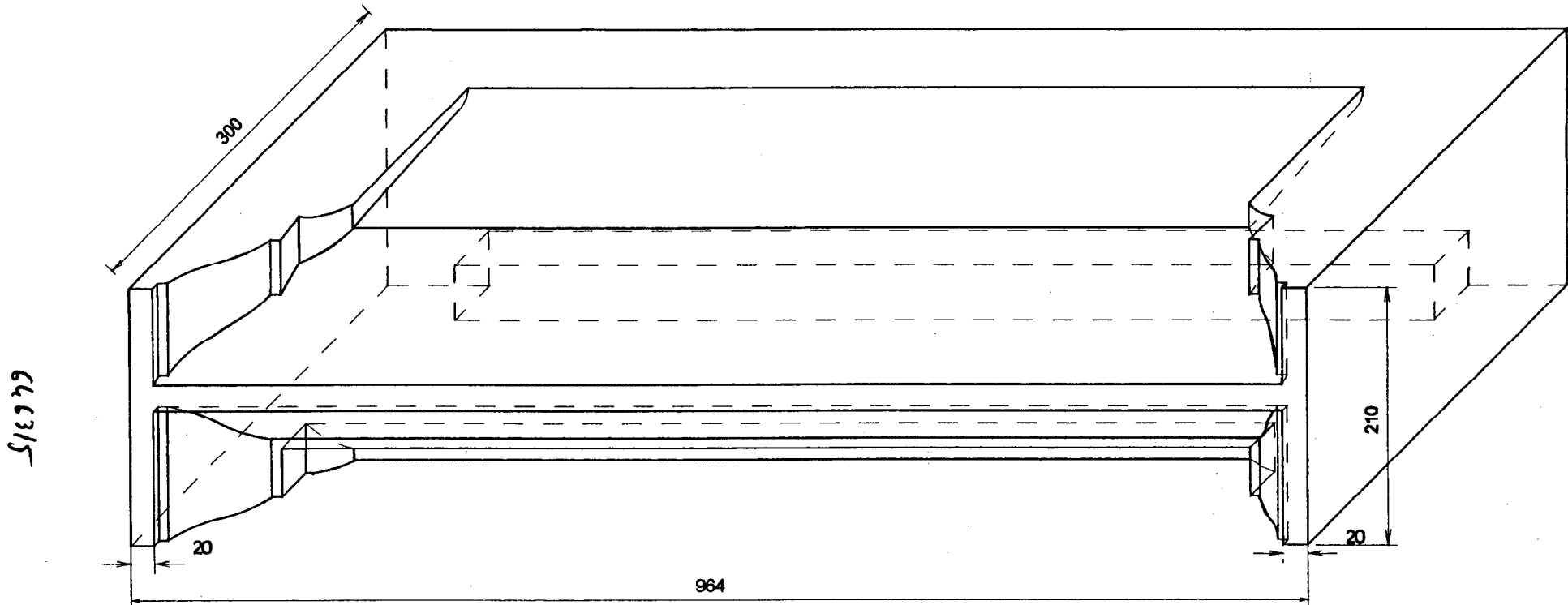
512915

ech : 1/2

PHASES	MODE OPERATOIRE	CROQUIS

NOM Prénom

SUJET



Désignation de l'ensemble:

Désignation de l'élément:

SUJET

PHASES	MODE OPERATOIRE	CROQUIS

NOM Prénom