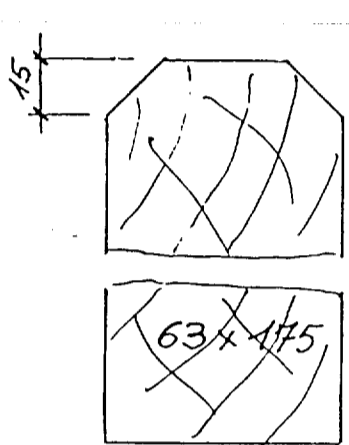
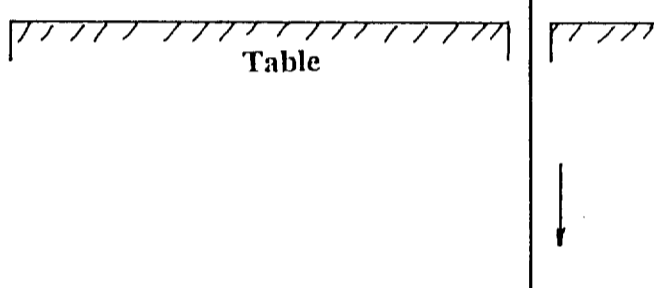
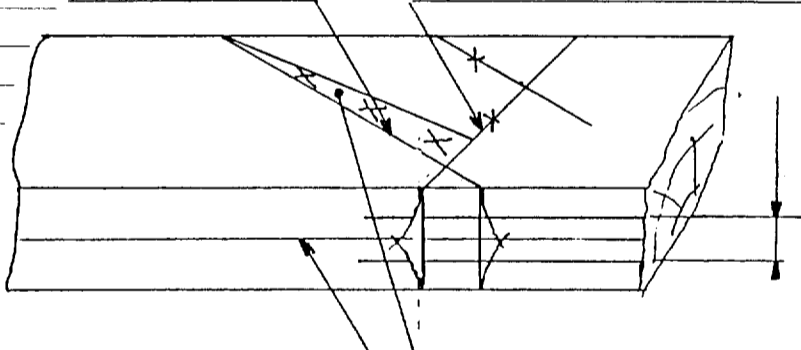


ON DONNE	ON DEMANDE	ON EXIGE	REPOSES	NOTES
<p>L'escalier du sous sol au rez de chaussée</p>	<p>De déterminer la hauteur d'une marche de l'escalier du sous sol</p>	<p>Réponse exacte</p>		<p>/ 1</p>
<p>Panne faîtière</p> 	<p>Croquis d'usinage de délardement du faîtage, en phase de réalisation à effectuer à la scie à ruban ,avec guide et cale de dévers</p>	<p>Croquis à l'échelle 1/2 indiquant clairement :                      La lame de scie                      Le guide recevant la cale à dévers                      La cale à dévers</p>		<p>/ 3</p>
<p>Le dessin d'un tenon tracé avec les points de piques</p>	<p>1°) Sur le schéma de traçage d'un arbalétrier ,donner les appellations repérées par les flèches</p>	<p>Les noms sont corrects</p>		<p>/ 5</p>
	<p>2°) Expliquer pourquoi sur le champ de la pièce, il existe deux traits de rembarrement de piques</p>	<p>Une explication claire</p>	<p>Les deux traits sur le champ de la pièce correspondent à :</p> <p>1 _____ / 1</p> <p>1 _____ / 1</p>	
<b>TOTAL</b>				<b>/ 20</b>