

HYGIENE PROFESSIONNELLE (3 points)

1. Pour décorer le hall d'une garderie d'enfants, on vous commande une composition de plantes en bac. Rayez de cette liste les plantes qui ne conviennent pas. Justifiez votre réponse.

- | | |
|--|--|
| Asparagus
Aspidistra
Asplenium
Cactées
Chamaedora
Codiaeum
Cyclamen
Cyperus
Diffenbachia
Dracanea | Ficus
Hedera
Hoya carnososa
Philodendron
Phoenix
Poinsettia
Saint paulia
Schefflera
Solanum
Yucca |
|--|--|

Justifications : _____

2. a) Vous êtes fleuriste. Quel est le vaccin indispensable à ce métier ?

b) Quel est le principe du vaccin ?

c) Vous vous blessez avec un sécateur ; le médecin constate que vous n'êtes pas à jour dans vos vaccinations. Que va-t-il faire pour vous protéger immédiatement ?

GROUPEMENT INTERACADEMIQUE II		Session 2001
Durée : 3 h 00	Page 1/5	EP4 - Technologie
S U J E T		CAP FLEURISTE

Nom : Prénom : N° d'insc :

TECHNIQUE PROFESSIONNELLE (8 points)

1. Citez au moins six différentes pièces proposées pour un deuil

2. a) A quoi sert une chambre climatique ?

b) Quel est son entretien ?


3. Citez cinq différents feuillages calmes

4. a) Qu'est-ce que le verdurage ?

b) Quels sont les feuillages utilisés pour le verdurage ?

5. A quoi sert un drainage ?

6. Citez au minimum quatre feuillages décoratifs.



BOTANIQUE (5 points)

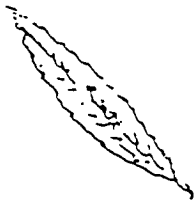
1. Pour se nourrir, la plante absorbe différentes substances minérales qui sont classées en deux catégories. Citez trois exemples pour chacune de ces catégories.

- éléments principaux : _____

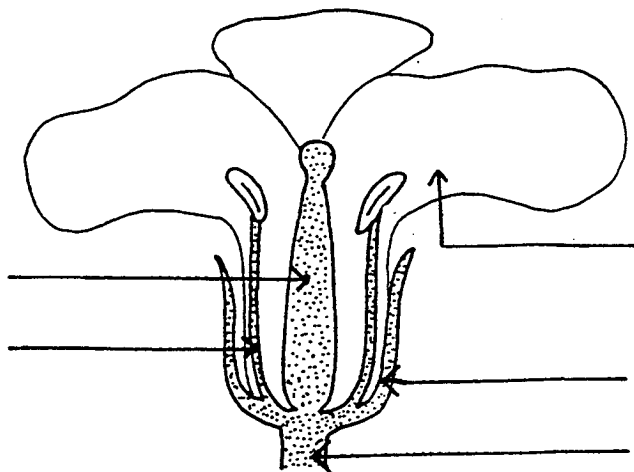
- éléments secondaires : _____

2. Indiquez sous chaque feuille la forme du limbe.





3. a) Complétez le schéma de cette fleur en indiquant le nom des parties fléchées.











b) La fleur permet la reproduction sexuée des végétaux. Pour ceci, la pollinisation doit avoir lieu. Citez trois types d'agents pollinisateurs.

TECHNOLOGIE PROFESSIONNELLE (4 points)

Reconnaissance des végétaux : complétez l'annexe 1 (page 5/5)

RECONNAISSANCE DES VEGETAUX (4 pts)

Plante	1	2	3	4
				
Nom commun				
Genre				
Famille				

Plante	5	6	7	8
				
Nom commun				
Genre				
Famille				