

Le candidat doit inscrire
ci - dessous son numéro de table

C.A.P. : .SECTEUR TERTIAIRE

Dominante :

Code spécialité :

Épreuve : **Vie Sociale et Professionnelle**

Durée : 1 h 00

Centre d'écrit

Session : 2001.

NOM et Prénoms :

(en majuscules, suivi s'il y a lieu du nom d'épouse)

Date et lieu de naissance :

Griffe du correcteur

C.A.P. : SECTEUR TERTIAIRE

Dominante :

Épreuve : **Vie Sociale et Professionnelle**

Session : 2001

N° de sujet 01 - 34 .

Folio 1 / 7

SUJET

(l'usage de la calculatrice n'est pas autorisé)

1 - DOMAINE ENTREPRISE ET VIE PROFESSIONNELLE / 4 points

M. Geoffrey DUPONT vient d'obtenir son CAP.

Il envisage de rechercher son premier emploi, et son premier logement.

Il existe plusieurs structures permettant d'informer les demandeurs d'emploi.

1 - 1 Citer trois organismes d'information et d'aide à la recherche d'un emploi.

-
-
-

1 - 2 Répondre à une offre d'emploi : étudier l'offre ci-dessous, puis répondre aux questions.

FV 2209C9
Salon, recherche coiffeur(se), C.A.P. exigé. Jeune, dynamique, bonne présentation. Envoyer CV, lettre de motivation et photo à Mme Marc, 2 rue du Nord à Lille -59000-

1 - 2 - 1 Quel est le poste proposé ?

-

1 - 2 - 2 Quel est le niveau d'études requis ?

-

1 - 2 - 3 Quelles sont les qualités souhaitées ?

-

Ne rien écrire

dans la partie barrée

01-34 Folio 2 / 7

1 - 3 Préciser la nature des contrats dans les cas suivants :

Utiliser les types de contrats ci-dessous :

- à durée déterminée
- de travail intérimaire
- à durée indéterminée
- de travail à temps partiel

a) embauche d'une vendeuse 30 heures par semaine :

Contrat

b) recrutement d'une esthéticienne, pour une durée de 4 mois en remplacement d'un salariée en congé maternité :

Contrat

c) embauche d'un fleuriste suite à l'ouverture d'un magasin :

Contrat

d) emploi d'un(e) coiffeur(se) placé(e) en mission par une société d'intérim

Contrat

2 - DOMAINE CONSOMMATION / 4 Points

Suite à la création d'un salon de coiffure, Geoffrey a été embauché en C.D.I., son lieu de travail étant situé à une centaine de kilomètres du domicile de ses parents, il recherche un logement. En consultant les petites annonces, il en repère une qui pourrait l'intéresser.

.....

Bel F2, dans imm. calme, 1 ch.,
Balcon, nbx rqs.
Loyer 2000 F
Tél. : 03.20.52.58.70

.....

2 - 1 Indiquer sur les pointillés de l'annonce ci-dessus, la signification des abréviations soulignées.

2 - 2 La location d'un appartement entraîne un certain nombre de dépenses. Placer dans le tableau ci-dessous les dépenses suivantes :

- réfrigérateur
- assurance habitation
- loisirs
- meubles
- alimentation
- télévision
- EDF
- loyer
- transport occasionnel (bus)
- facture de téléphone

Dépenses courantes	Charges fixes	Dépenses d'équipement et de renouvellement

Ne rien écrire

dans la partie barrée



01-34 Folio 3 / 7

2 - 3 Citer deux lieux d'achat pour un réfrigérateur

.....

2 - 4 Il commande un réfrigérateur dans un catalogue de vente par correspondance. REMPLIR le bon de commande en fonction des éléments suivants :

Référence de l'article : **4292816** ; prix unitaire : **2 500 F**
 Règlement par chèque bancaire ; **Geoffrey DUPONT** désire recevoir l'article chez lui (17 rue des Arts 59000 LILLE). Il n'a pas encore le téléphone.

<p>ADRESSE DE LIVRAISON (COCHER UN)</p> <p><input type="checkbox"/> au Rendez-Vous Catalogue ou <input type="checkbox"/> au Relais Colis de</p> <hr/> <p><input type="checkbox"/> à l'adresse ci-contre <input type="checkbox"/> à l'adresse ci-dessous pour cette commande</p> <p>NOM _____ PRENOM _____ ADRESSE _____ _____ CODE POSTAL _____ COMMUNE _____</p>	<p>A REMPLIR EN LETTRES CAPITALES</p> <p>Nom _____ Adresse _____ Code postal [] [] [] [] Ville _____ Tél [] [] [] [] [] [] [] [] [] []</p> <p style="text-align: center;">Vos cadeaux de bienvenue :</p> <div style="display: flex; justify-content: space-around;"> <div style="text-align: center;">  <p>L'ENSEMBLE DE 3 BAGAGES gratuit dans votre colis <small>(pour 200F au plus d'achats facturés)</small></p> </div> <div style="text-align: center;">  <p>LE CATALOGUE AUTOMNE-HIVER 2000/01</p> </div> </div>
---	--

EXEMPLE : LOT DE 3-T-SHIRTS	0, 1, 6 3, 4, 5, 8	38/40	2,	9 0, 0 0	1 8 0, 0 0
DESIGNATION DES ARTICLES	REFERENCE	CODE OU TAILLE	QUANTITE	PRIX DE L'UNITE	MONTANT

<p>Je commande, je reçois mes cadeaux : L'ensemble de bagages* + le catalogue Automne-Hiver 2000/01</p>		<p>GRATUITS</p>
<p style="text-align: center;">VOTRE MODE DE PAIEMENT AU CHOIX</p>		<p>MONTANT DE LA COMMANDE</p> <p>PARTICIPATION FORFAITAIRE AU PRIS DE TRAIPEMENT DE LA COMMANDE</p> <p>+ 3 4, 9 0</p> <hr/> <p>TOTAL</p>
<p>A LA COMMANDE</p> <p><input type="checkbox"/> MANDAT-LETTRE <input type="checkbox"/> CHEQUE POSTAL <input type="checkbox"/> CHEQUE BANCAIRE <input type="checkbox"/> AVOIR OU CHEQUE REDONTE</p>	<p>AVEC VOTRE CARTE DE PAIEMENT (ÉVITEZ PAS D'INSCRIRE SON N° ET DE SIGNER)</p> <p>1 <input type="checkbox"/> CARTE KANGOUROU 2 <input type="checkbox"/> <u>0 0</u> _____</p> <p>3 <input type="checkbox"/> CARTE BANCAIRE ou CARTES PRIORITY, FRAC et CypRus</p> <p>DATE D'ÉPIREATION DE VOTRE CARTE BANCAIRE _____</p> <p>A LA LIVRAISON A DOMICILE <input type="checkbox"/> CONTRE REMBOURSEMENT (AVEC FRAIS SELON TAXES EN VIGUEUR)</p>	<p>SIGNATURE _____</p>

Ne rien écrire


dans la partie barrée

01-34 Folio 4 / 7

3 - DOMAINE SANTÉ / 8 Points

Lors du déménagement, Geoffrey est amené à soulever des charges lourdes.

3 - 1 Entourer la bonne position du dos sur le schéma ci-dessous :



3 - 2 Associer à chaque schéma le numéro de la phrase correspondante.


DOCUMENT 1

SOULEVER ET TRANSPORTER UNE CHARGE LOURDE : LES 10 POINTS CAPITAUX

- ❶ Évaluer le poids et le volume de la charge
- ❷ Préparer son trajet, débarrasser le lieu d'entrepôt.
- ❸ Revêtir des vêtements appropriés.
- ❹ se rapprocher de la charge.
- ❺ Écarter les pieds, encadrer la charge.
- ❻ Se baisser en pliant les genoux.
- ❼ Retrouver sa cambrure lombaire et la verrouiller.
- ❽ Assurer une bonne prise manuelle
- ❾ Pousser sur les jambes, dos étiré.
- ❿ Porter la charge collée contre soi, bras relâchés.

Source : C.N.P.K. (Comité National de prévention en Kinésithérapie)

DOCUMENT 2



Le candidat doit inscrire
ci - dessous son numéro de table

C.A.P. : .SECTEUR TERTIAIRE

Dominante :

Épreuve : **Vie Sociale et Professionnelle**

Centre d'écrit

NOM et Prénoms :

(en majuscules, suivi s'il y a lieu du nom d'épouse)

Date et lieu de naissance :

Code spécialité :

Durée : **1 h 00**

Session : **2001.**

Griffe du correcteur

C.A.P. : SECTEUR TERTIAIRE

Dominante :

Épreuve : **Vie Sociale et Professionnelle**

Session : 2001

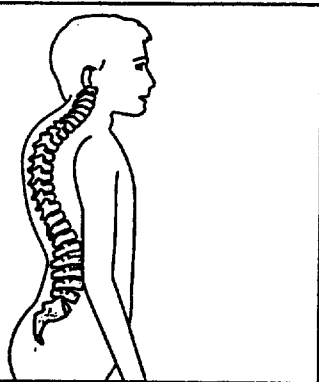
N° de sujet 01 - 34 .

Folio 5 / 7

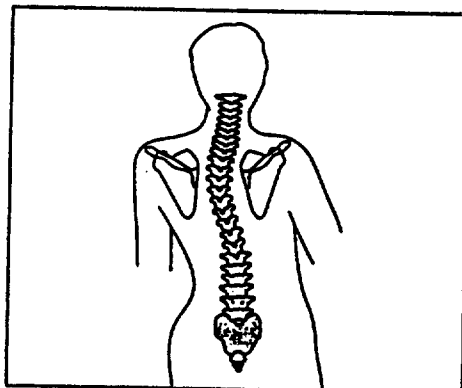
3 - 3 De mauvaises postures peuvent donner lieu à des déformations de la colonne vertébrale.

Inscrire sur les pointillés des schémas la légende qui correspond aux déformations :

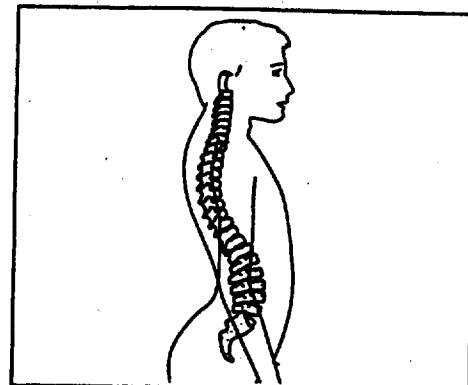
CYPHOSE - LORDOSE - SCOLIOSE



1 -



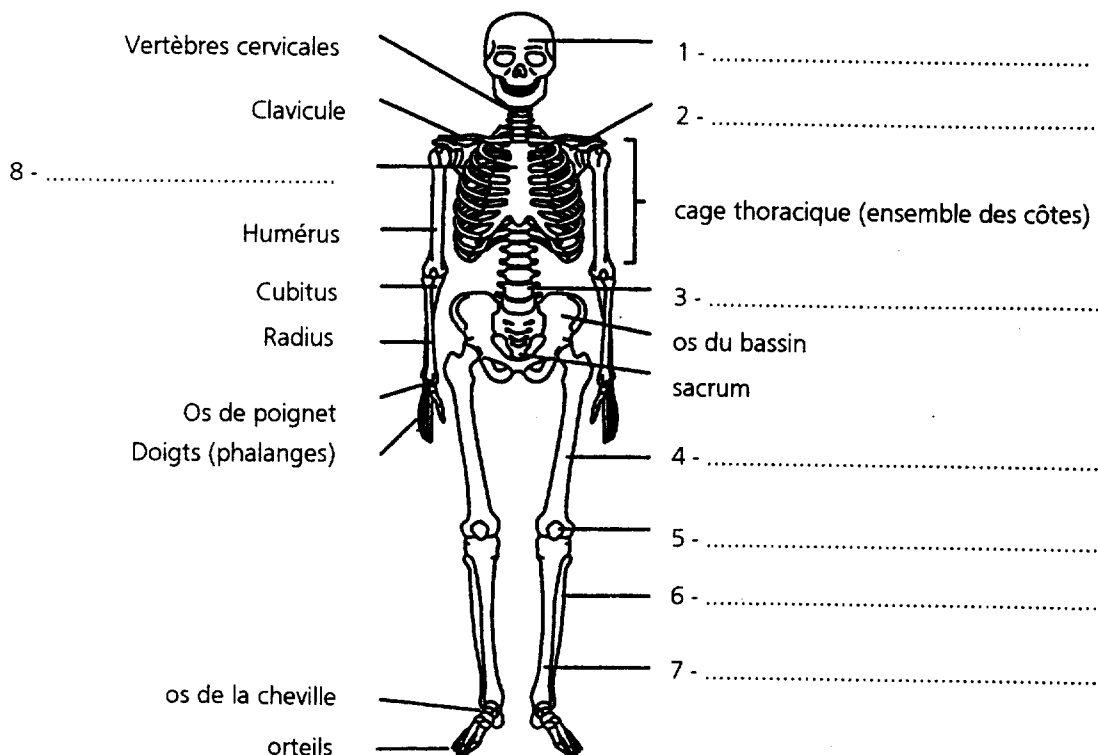
2 -



3 -

3 - 4 Compléter le schéma ci-dessous à l'aide du vocabulaire suivant :

Colonne vertébrale - crâne - fémur - omoplate - péroné - rotule - sternum - tibia



Ne rien écrire

dans la partie barrée

01-34 Folio 6 / 7

3 – 5 L'appareil locomoteur a un rôle important. Compléter le texte ci-dessous à l'aide des mots suivants :

Muscles – os – articulations - locomotion

L'appareil locomoteur est composé de qui s'insèrent sur les de notre squelette et des (genou, cheville, coude, poignet). Ce sont nos muscles, généralement de couleur rouge, qui, en se contractant, actionnent les os et permettent la

3 – 6 Citer un aliment indispensable au bon état du squelette et nommer le constituant alimentaire essentiel pour l'ossification.

Aliment :

Constituant :

3 – 7 Certaines habitudes favorisent un développement harmonieux et maintiennent le squelette en bon état, d'autres lui nuisent. Lire les affirmations du tableau et faire une croix sur la ligne du côté qui convient à chaque proposition.

FAVORABLE	HABITUDES	DÉFAVORABLE
	- dormir à plat sur un matelas ferme	
	- dormir avec un oreiller ergonomique	
	- faire de la natation régulièrement	
	- Pratiquer une activité physique intense	
	- pratiquer le vélo tout terrain (VTT)	
	- exercer une activité en plein air	

Ne rien écrire

dans la partie barrée

01-34 Folio 7 / 7

4 - DOMAINE ENVIRONNEMENT / 4 Points

Une fois installé dans son logement, Geoffrey décide de faire attention à ses dépenses d'énergie.

4 - 1 Proposer 3 solutions pour réduire la consommation d'énergie

-
-
-

4 - 2 Citer 2 sources d'énergie utilisées dans une habitation.

-
-