

NUMERO : _____

NOM : _____

PRENOM : _____

NUMERO : _____

DOSSIER REponses

COMPOSITION DU DOSSIER :

- JURIDIQUE Feuille 2 / 7
- INCENDIE Feuille 3 / 7
- TELESURVEILLANCE Feuille 4 / 7
- LECTURE DE PLAN Feuille 5 / 7
- SECURITE E.R.P. 1 Feuilles 6 / 7 et 7 / 7

ACADEMIE DE POITIERS	EXAMEN : C.A.P. d'Agent de Prévention et de Sécurité	Feuille : 1 / 7
		Durée : 1 h
SESSION : JUN 2001	EPREUVE : E.P.1 analyse de travail et de technologie	Coef. : 4

CAP D'agent de prévention & de sécurité	SESSION Juin 2001	E.P1 Analyse de travail & de technologie	Feuille 2 / 7	N° d'anonymat
---	----------------------	--	------------------	---------------

JURIDIQUE :

Article de journal

Un vigile de^{Lieu}, à^{ville}, a tué, hier matin, un jeune homme de 23 ans d'un coup de pistolet au visage.

J.....^{Prénom}B.....^{nom}, est mort sur le coup. Il était arrivé peu avant en voiture avec quatre autres hommes, dont l'un était armé d'un goulot de bouteille brisée.

Le vigile, qui aurait pris peur, a déclaré que le coup était parti en armant la culasse. Il a été placé en garde à vue.

Sur le plan juridique :

Que pensez vous de la détention du pistolet par le vigile ?

/ 8

/ 5

/ 3

/ 9

A quelle catégorie d'arme appartient le pistolet du gardien ?

Comment classeriez vous le goulot de bouteille brisée ?

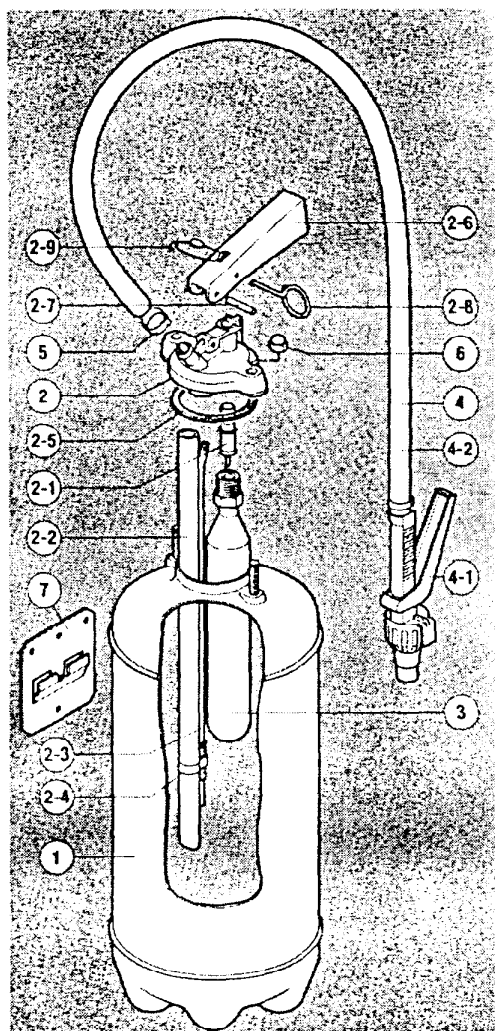
Le vigile était-il en légitime défense ?

CAP D'agent de prévention & de sécurité	SESSION Juin 2001	E.P1 Analyse de travail & de technologie	Feuille 3 / 7	N° d'anonymat _____
--	-----------------------------	---	-------------------------	-------------------------------

INCENDIE :

1 – Six éléments de cet extincteur ne sont pas identifiés dans le tableau ci –dessous

Compléter cette nomenclature.



REPÈRE	CODE	DÉSIGNATION
1	0306600	Corps d'extincteur peint
2	0308005	Robinet monté sans bouteille CO ₂ sans tuyau
2-1	0307790	
2-2	0314271	
2-3	0308710	
2-4	0310900	Collier de serrage tube CO ₂
2-5	0312250	Joint du robinet
2-6	0312990	
2-7	0311810	Goupille cannelée G06
2-8	0311750	
2-9	0306910	
3	0310490	Bouteille CO ₂ 120 g
4	0308200	Soufflette avec tuyau
4-1	0303700	Soufflette avec jet
4-2	0314401	Tuyau ø 13/19 - Longueur 650
5	0310930	Collier de serrage tuyau
6	0311470	Écrou borgne zingué M8
7	0308250	Support mural zingué
8	0220306	Charge poudre ABC 6 kg

/6

2 - Quelles autres appellations utilise-t-on pour l'élément N° 3 ?

a/

b/

/2

3 - Dans le tableau ci-dessous, quelles sont les trois opérations de mise en service de cet extincteur ?

1	2	3

/6

4 - Quel est le symbole graphique de cet extincteur ?

/1


CAP D'agent de prévention & de sécurité	SESSION Juin 2001	E.P1 Analyse de travail & de technologie	Feuille 4 / 7	N° d'anonymat
---	----------------------	--	------------------	---------------

TELESURVEILLANCE :

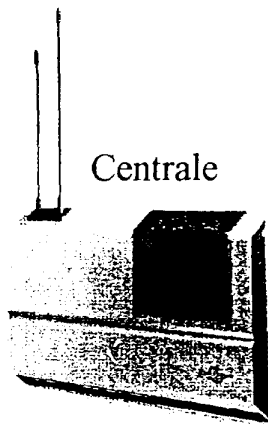
1 – A l'aide de flèches orientées, montrer les liaisons radio (préférentielles) établies entre les différents composants.

SYSTEME DE SURVEILLANCE


Détecteur




Centrale




Dissuasion




Système d'alerte à distance



Télécommande



Télé veille



15

2 - Suite à l'alerte, que fait l'opérateur ?

.....

.....

.....

.....

.....

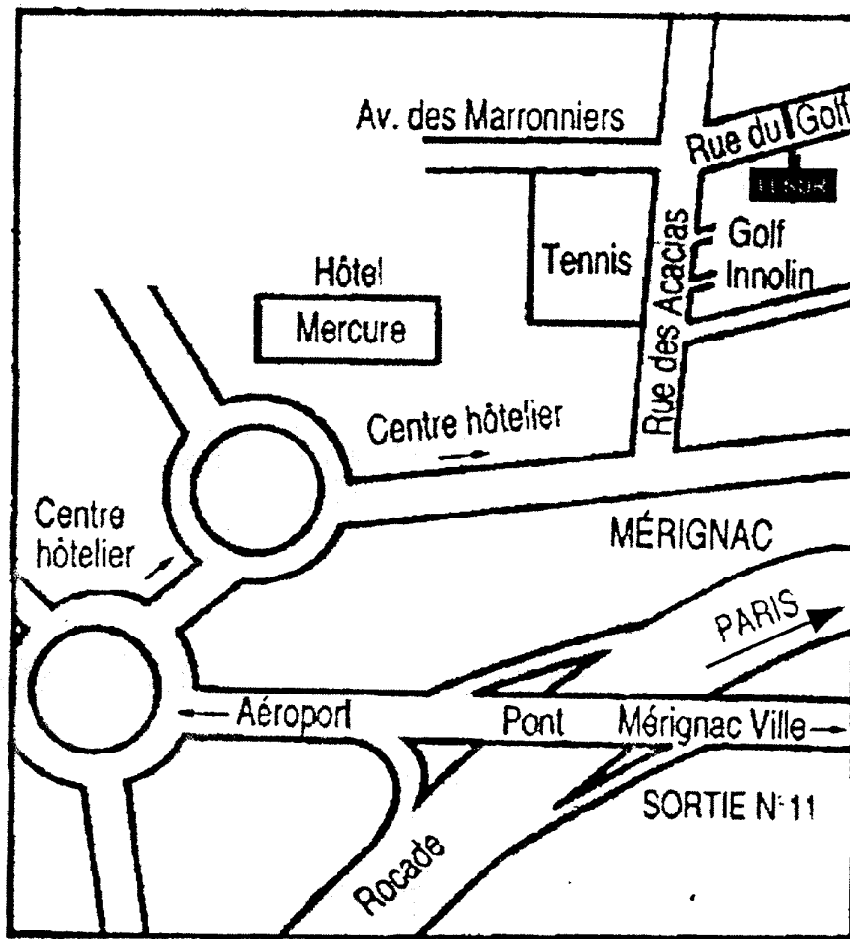
15

CAP D'agent de prévention & de sécurité	SESSION Juin 2001	E.P1 Analyse de travail & de technologie	Feuille 5/7	N° d'anonymat
---	----------------------	--	----------------	---------------

LECTURE DE PLAN :

Agent de prévention et de sécurité dans l'entreprise LESÜR à BORDEAUX vous recevez un appel téléphonique d'un camionneur qui arrive de PARIS par la rocade. Il vous demande de le guider pour arriver à bon port.


A l'aide du plan que vous avez à votre disposition, décrivez avec précision le trajet que vous allez lui donner.



CAP D'agent de prévention & de sécurité	SESSION Juin 2001	E.P1 Analyse de travail & de technologie	Feuille 6 / 7	N° d'anonymat _____
--	-----------------------------	---	-------------------------	-------------------------------

SECURITE INCENDIE (E.R.P. 1)

1 - Etablir les effectifs admis par catégorie



/4

2 - Définir le premier groupe

.....

/2

3 - Définir le deuxième groupe

.....

/2

4 - En fonction de l'activité, donner la lettre du type d'établissement

Salles d'auditions, de conférences, de réunions Salles de spectacles, de projections ou à usage multiple	
Restaurants ou débits de boissons	
Crèches, maternelles, jardins d'enfants, haltes garderies Autres établissements d'enseignement Internats Colonies de vacances	
Etablissements de soins - sans hébergement - avec hébergement	
Gares accessibles au public	
Musées	

/6

CAP D'agent de prévention & de sécurité	SESSION Juin 2001	E.P1 Analyse de travail & de technologie	Feuille 7/7	N° d'anonymat
--	------------------------------------	---	------------------------------	------------------------------

5 - UNITE DE PASSAGE

Chaque dégagement doit avoir une largeur minimale de passage proportionnelle au nombre total de personnes appelées à l'emprunter.

Compléter les largeurs de passage dans les cases blanches, pour les cas suivants.

