

N
E
R
I
E
N
E
C
R
I
R
E
I
C
I

B.E.P. : BOIS ET MATERIAUX ASSOCIES.....

Dominante **CHARPENTE.....** Code : **5123401B.....**

Epreuve : **EP1 ECRIT.....** Session :

Centre d'examen :

Nom et prénom : N° candidat : Table N°

Date et lieu de naissance :

Visa du correcteur :

B.E.P. **BMA.....**

Code : **5123401B**

Note / 20
(arrondi au point entier supérieur)

Dominante **CHARPENTE.....**

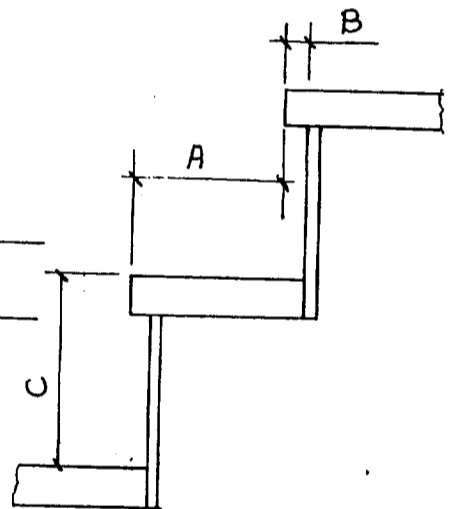
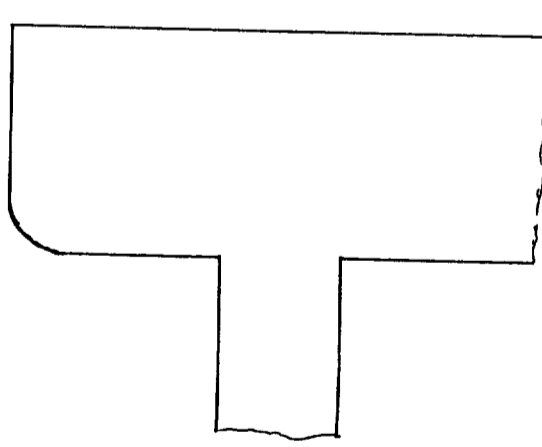
Epreuve : **EP1 ECRIT.....**

Session :

Durée : **4 HEURES**

Coef. : **5.....**

Doc : **DT : 1 / 2**

ON DONNE	ON DEMANDE	ON EXIGE	REPONSES	NOTES
PLANS :				
Documents de 1/7 à 7/7				
L'escalier d'accès à l'étage	Rechercher et indiquer le nombre de contre marches.	Le nombre exact	----- -----	/ 1
	Rechercher et indiquer la valeur d'embranchement	Réponse exacte	-----	/ 1
	Citer les différents noms Composant les détails de l'escalier	Réponses exactes	A : ----- B : ----- C : ----- 	/ 3
Assemblage : Langlette bâtarde de 10x10 mm	Compléter le croquis en figurant l'assemblage marche et contre marche	Le croquis est clair et correct		/ 2
La coupe AA	Rechercher et indiquer la hauteur sous plafond du sous sol	Réponse exacte	-----	/ 1
	Rechercher et indiquer la hauteur à franchir pour aller du sous sol au rez- de- chaussée	Réponse exacte	-----	/ 1

N
E
R
I
E
N
E
C
R
I
R
E
I
C
I

B.E.P. : BOIS ET MATERIAUX ASSOCIES.....

Dominante **CHARPENTE.....** Code : **512340-1B.....**

Epreuve : **EP1 ECRIT.....** Session :

Centre d'examen :

Nom et prénom : N° candidat : Table N°.....

Date et lieu de naissance :

Visa du correcteur :

B.E.P. **BMA.....**

Code : **512340-1B.....**

Note / 20
(arrondi au point entier supérieur)

Dominante **CHARPENTE.....**

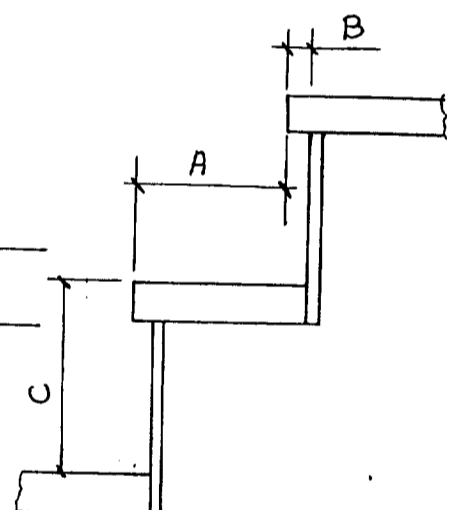
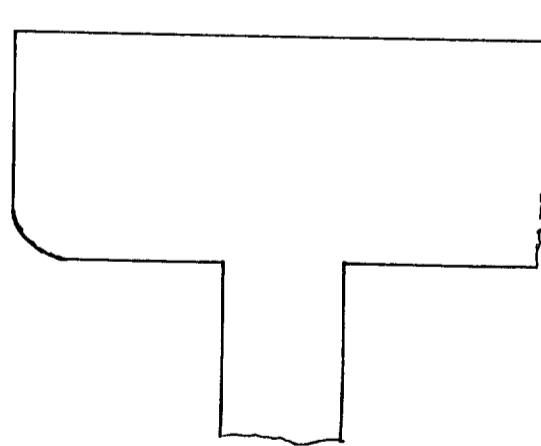
Epreuve : **EP1 ECRIT.....**

Session :

Durée : **4 HEURES**

Coef. : **5.....**

Doc : **DT : 1 / 2**

ON DONNE	ON DEMANDE	ON EXIGE	REPONSES	NOTES
PLANS : Documents de 1/7 à 7/7				
L'escalier d'accès à l'étage	Rechercher et indiquer le nombre de contre marches.	Le nombre exact	----- -----	/1
	Rechercher et indiquer la valeur d'embranchement	Réponse exacte	-----	/1
	Citer les différents noms Composant les détails de l'escalier	Réponses exactes	A : ----- B : ----- C : ----- 	/3
Assemblage : Languette bâtarde de 10x10 mm	Compléter le croquis en figurant l'assemblage marche et contre marche	Le croquis est clair et correct		/2
La coupe AA	Rechercher et indiquer la hauteur sous plafond du sous sol	Réponse exacte	-----	/1
	Rechercher et indiquer la hauteur à franchir pour aller du sous sol au rez- de- chaussée	Réponse exacte	-----	/1