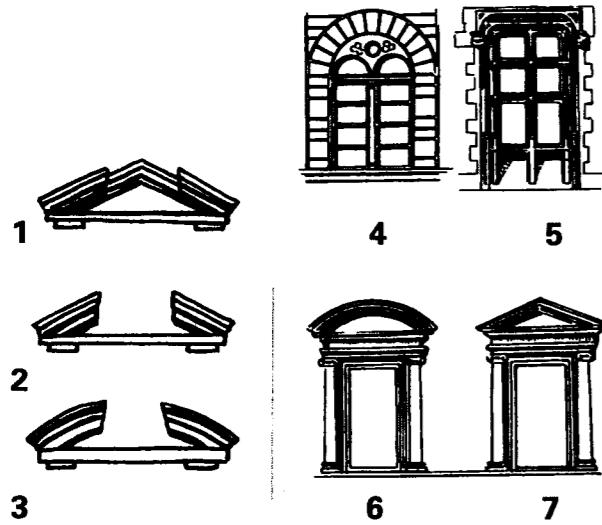


# CORRIGE

**Ces éléments de correction n'ont qu'une valeur indicative. Ils ne peuvent en aucun cas engager la responsabilité des autorités académiques, chaque jury est souverain.**

# fenêtres et frontons

Identifiez les documents de 1 à 7 en utilisant le tableau ci-dessous. Reportez chaque numéro dans la case de la légende qui correspond.



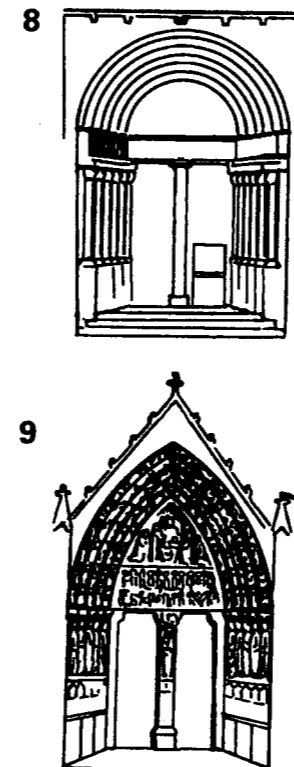

fronton curviligne interrompu	3
fenêtre en plein cintre	4
fronton curviligne	6
fronton triangulaire interrompu	2
fenêtre à meneaux	5
fronton brisé	1
fronton triangulaire	7

**1 POINT  
PAR BONNE  
REPONSE**

# les portails

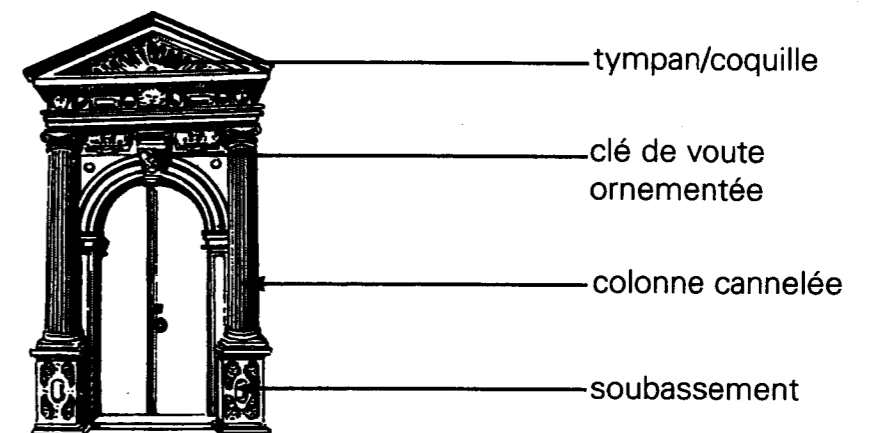
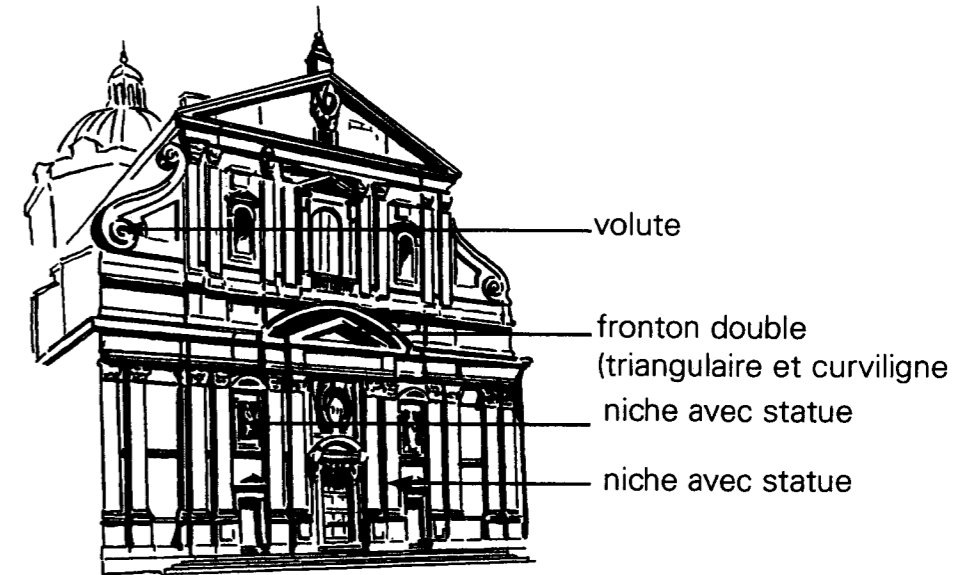
Identifiez le style des portails de 8 à 12 ci-contre en utilisant le tableau ci-dessous. Reportez chaque numéro dans la case du style qui correspond.

baroque	11
roman	8
classique	12
renaissant	10
gothique	9



# histoire de l'art ornements et éléments d'architecture

Nommez les ornements et les éléments d'architecture désignés par les flèches.



<b>certificat d'aptitude professionnelle de Staffeur Ornementés</b>			
session	2001	durée:	4 H
sujets		épreuve:	histoire de l'art et architectures
			COEF. : 12 au total
			page 1/1

**CORRIGÉ**