

Feuille 1/1

Groupement interacadémique II		Session juin 2002
Examen et spécialité : MC Peinture Décoration		
Intitulé de l'épreuve : EP1 – Réalisation d'un décor		
Durée : 8 heures	Coefficient : 5	Feuille n° 1/1

Vous réaliserez :

Un jaune de sienne en **A**

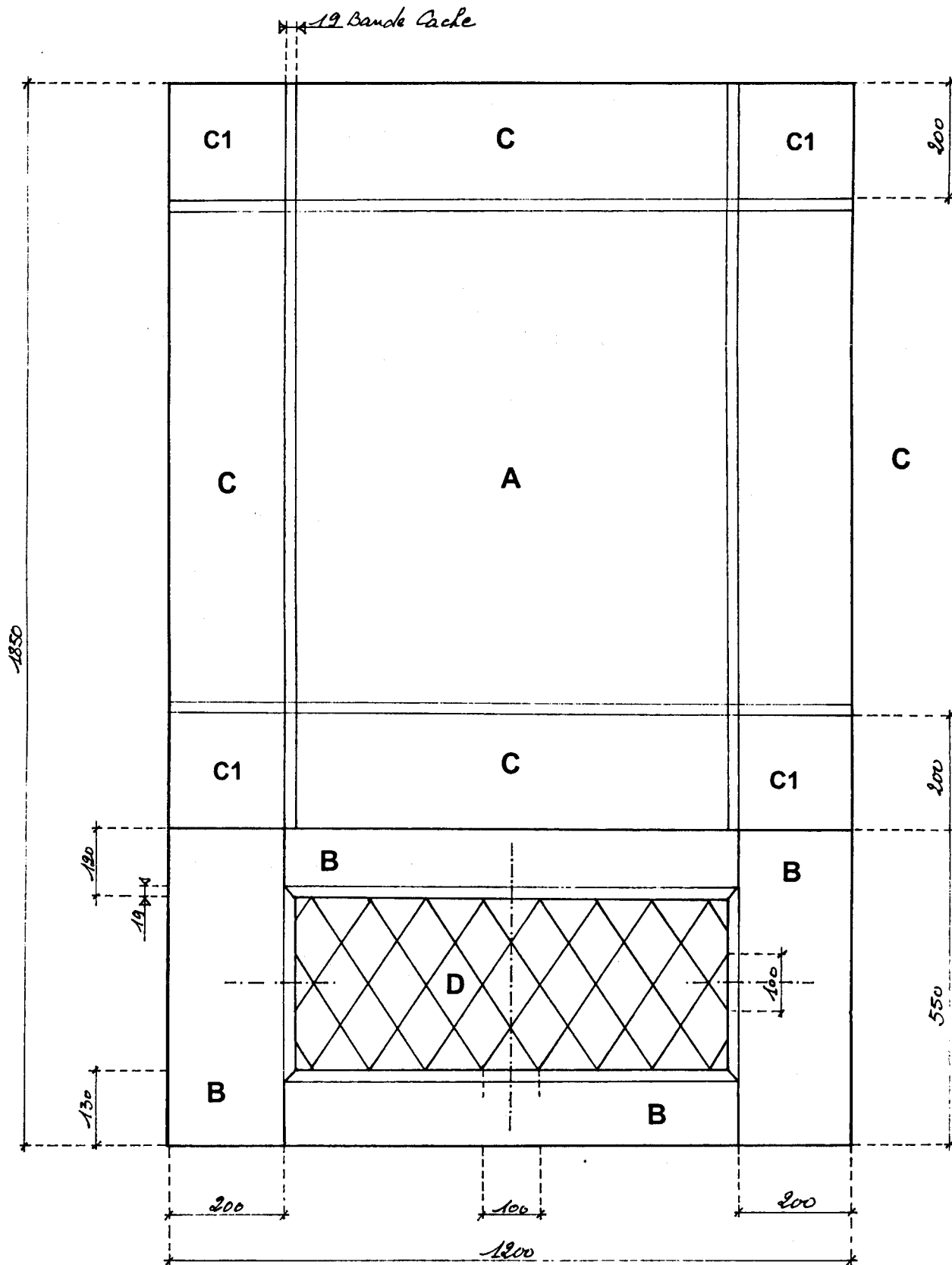
Un chêne moyen (bois de fil) en **B**. un chanfrein sera mis en ombre et lumière

Une patine décorative en **C** et **C1** (technique à l'eau)

Vous appliquerez en **C1** le pochoir que vous avez réalisé en **EP3**. (Ce pochoir doit comporter 2 couleurs minimum)

En **D** Les filets (3mm) seront exécutés à l'acrylique. Lors de cette exécution Le chêne environnant pourra être protégé à la bande cache.

L'ensemble sera impérativement en harmonie



La bande cache pourra être utilisée lors de l'exécution pour séparer les différentes parties A-B-C.

Mention complémentaire niveau IV	Session 2002
PEINTURE - DÉCORATION	E1 Préparation d'un travail de décoration
Durée(partie 1): 1h30	Coefficient: 3
SUJET	Page: 1/5

Lors de cette épreuve vous devez :

...répondre sur les feuillets 2/5 et 4/5,

...faire un choix de mobilier sur le feuillet 5/5 (question 1),

...faire un choix de matériaux sur le feuillet 5/5 (question 2) à partir du catalogue de corniches et de rosaces (Catalogue 1/1),

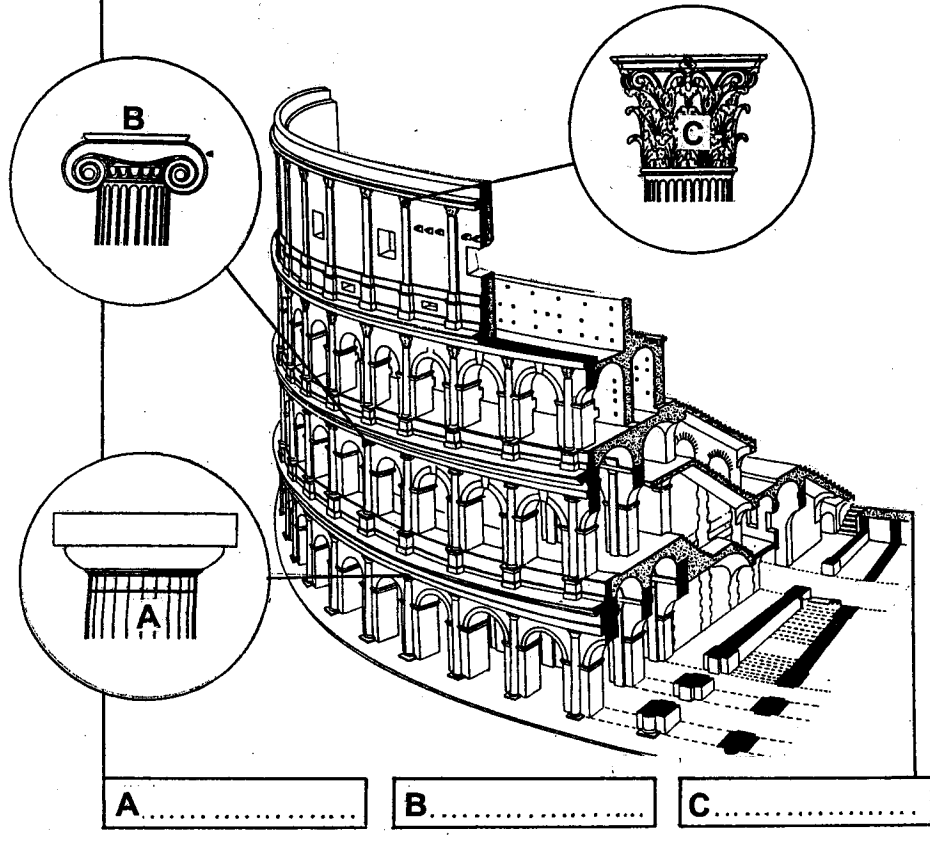
...réaliser un mode opératoire sur le feuillet 5/5 (question 3).

L'ensemble de ces questions sera noté sur 40 points Le rapport et sa soutenance seront notés sur 20 points

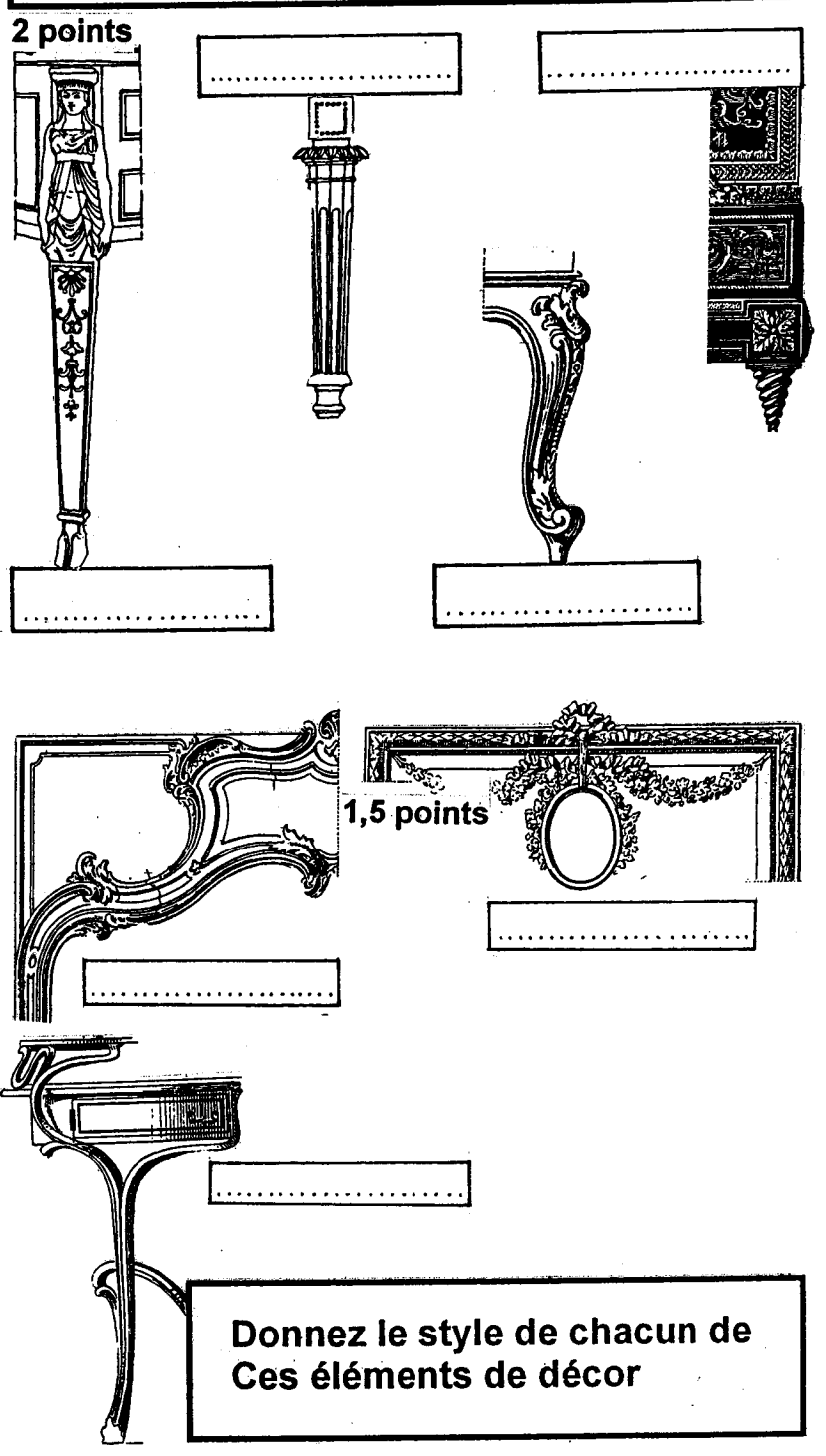
Académie : _____ Session : _____
 Examen ou Concours _____ Série* : _____
 Spécialité/option* : _____ Repère de l'épreuve : _____
 Épreuve/sous-épreuve : _____
 NOM : _____
 (en majuscules, suivi s'il y a lieu, du nom d'épouse)
 Prénoms : _____ N° du candidat
 Né(e) le : _____ (le numéro est celui qui figure sur la convocation ou la liste d'appel)

Mention complémentaire niveau IV	Session 2002
PEINTURE - DÉCORATION	E1 Préparation d'un travail de décoration
Durée(partie 1): 1h30	Coefficient: 3
SUJET	Page: 2/5



Le Colisée de Rome fut inauguré En 80 après J.C. Les architectes Y ont superposé, en chapiteau, les trois ordres grecs. Donnez le nom de ces trois ordres...1,5 points




Donnez le style de chaque piètement



Cette console appartient au style1 point



Quel est le style de ce meuble ?1 point



Style..... 2 points
.....Siècle





DANS CE CADRE

Académie : _____ Session : _____
 Examen ou Concours _____ Série* : _____
 Spécialité/option* : _____ Repère de l'épreuve : _____
 Épreuve/sous-épreuve : _____
 NOM : _____
(en majuscules, suivi s'il y a lieu, du nom d'épouse)
 Prénoms : _____ N° du candidat
 Né(e) le : _____ (le numéro est celui qui figure sur la convocation ou la liste d'appel)

NE RIEN ÉCRIRE

Mention complémentaire niveau IV	Session 2002
PEINTURE - DÉCORATION	E1 Préparation d'un travail de décoration
Durée(partie 1): 1h30	Coefficient: 3
SUJET	Page: 4/5

Vous devez choisir chez un antiquaire des meubles pour vos clients.
 Complétez le tableau ci-dessous à partir des meubles présentés sur le document 3/5.

sur 8 points (1 point par élément identifié et correctement justifié).

Style	Meuble	N°	Justification du choix (style, forme, couleur, matière...)
Renaissance	Armoire		
Louis XIII	Armoire		
	Fauteuil		
Louis XIV	Commode		
	Fauteuil		
Louis XV	Commode		
	Fauteuil		
Art déco	Fauteuil		

