

Lors de cette épreuve vous devez :

Réaliser un pochoir

Feuillet 2/7
Feuillet 3/7
Canson 4/7

Faire un mode opératoire

Feuillet 5/7

Répondre aux questions
(histoire de l'art)

Feuillet 6/7
Feuillet 7/7

Groupement interacadémique II		Session juin 2002	
Examen et spécialité : MC Peinture Décoration			
Intitulé de l'épreuve : EP3 – Préparation du travail, analyse technique et esthétique, Arts appliqués			
	Durée : 3 heures	Coefficient : 3	Feuille n° 1/7

Le pochoir que vous allez fabriquer est destiné à être appliqué lors de l'épreuve **EP1** aux emplacements indiqués

Vous devez : à l'aide du document 3/7...

- choisir ou élaborer un motif
- Le dessiner et le préparer proprement sur le canson A3
- Le reporter sur la carte de lyon à l'aide du calque
- Découper minutieusement votre motif et le préparer en vue de son report ultérieur sur le panneau EP1.

A l'issue de l'épreuve EP1 vous devrez laisser votre pochoir près de votre panneau afin que le jury puisse le juger dans le cadre de l'épreuve EP3

Groupement interacadémique II	Session juin 2002		
Examen et spécialité : MC Peinture Décoration			
Intitulé de l'épreuve : EP3 – Préparation du travail, analyse technique et esthétique, Arts appliqués			
	Durée : 3 heures	Coefficient : 3	Feuille n° 2/7





Groupement interacadémique II		Session juin 2002	
Examen et spécialité : MC Peinture Décoration			
Intitulé de l'épreuve : EP3 – Préparation du travail, analyse technique et esthétique, Arts appliqués			
	Durée : 3 heures	Coefficient : 3	Feuille n° 3/7

MC Peinture Décoration	N° d'anonymat
Épreuve : EP3 – Préparation du travail, analyse technique et esthétique, Arts appliqués	


Feuillet 4/7

Groupement interacadémique II	Session juin 2002	N° d'anonymat :	
Examen et spécialité : MC Peinture Décoration			
Intitulé de l'épreuve : EP3 – Préparation du travail, analyse technique et esthétique, Arts appliqués			
Nom et prénom :	Durée 3 heures	Coefficient 3	Feuille n° 4/7

1 Donnez le nom de ces deux éléments décoratifs




2 points



1 point

2 Ce portail est du style

1 point

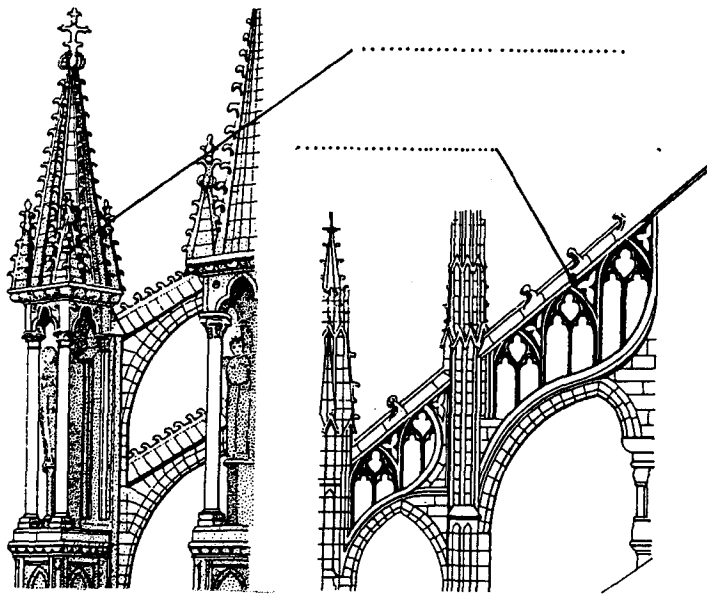


3 Ces éléments décoratifs sont Typiques du style.....

Rocaille et bords ondulés
Bords étagés
Coquille, palmette
Console (Nancy)
Cartouche ailé
Console (Paris)

4 Ces éléments décoratifs appartiennent au style :

1 point



5 Donnez le nom de ces éléments Architecturaux d'une cathédrale Gothique.

2 points


Antefixe
Acrotère

6 Où trouve t-on ces deux éléments architecturaux :

2 points

7 Cet élément décoratif appartient au style :

1 point



8 Ce château est le château de.....
Il appartient à l'époque.....

2 points

Feuillet 7/7

Groupement interacadémique II	Session juin 2002	N° d'anonymat :
Examen et spécialité : MC Peinture Décoration		
Intitulé de l'épreuve : EP3 – Préparation du travail, analyse technique et esthétique, Arts appliqués		
Nom et prénom :	Durée 3 heures	Coefficient 3
		Feuille n° 7/7

9 Ces éléments décoratifs appartiennent au style :


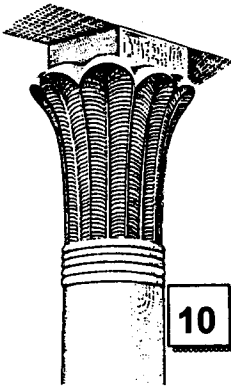


Fig. 2. Pointes de diamant Fig. 1 Fig. 6. Pointes de gîteau

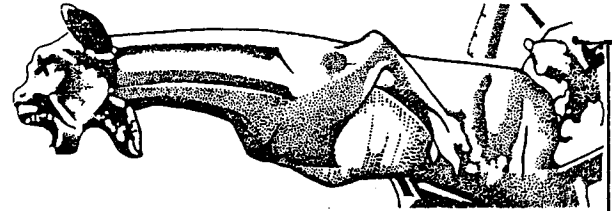


1 point



1 point

10 Ce chapiteau appartient au style :



11 donnez le nom de cet élément architectural Gothique 1point

12 Parmi les meubles présentés, choisissez :

2 meubles Louis XIV
2 meubles Louis XV
2 meubles Louis XVI
2 meubles Art nouveau
2 meubles Art déco

5 points

