

DOSSIER SUJET

SOMMAIRE


- S 1/8 Dossier sujet
- S 2/8 Réalisation graphique
- S 3/8 Vue d'ensemble, dessin du mobilier, détail.
- S 4/8 Détail, vue d'ensemble, vue d'ensemble, dispositif de cuisson
- S 5/8 Synthèse écrite
- S 6/8 Document réponse question 1
- S 7/8 Document réponse question 3
- S 8/8 Document réponse question 4




Groupement inter académique II	Session 2002	Facultatif : code 2-0449		
Examen et spécialité CAP EBENISTE				
Intitulé de l'épreuve EP 2-1 Arts Appl., Etude de Constr., Technol. (ARTS APPL b)réalisation graphique) 2 h 30				
Type SUJET	Facultatif : date et heure	Durée 9 h	Coefficient 6	N° de page / total S 1/8

C / S	TRAVAIL DEMANDE	RESSOURCES	EXIGENCES	REPONSES	BAREME
Contexte professionnel					
REALISATION GRAPHIQUE					
C1.01 Collecter des informations C4.01 S'exprimer oralement, graphiquement et par écrit	- 1 - - On vous demande de relever à l'aide du calque les formes dominantes et caractéristiques du mobilier et des objets présents dans le restaurant.	- pages 3/8 et 4/8	- Les formes relevées doivent être justes et claires.	- Sur le document Réponse page 6/8	9
C1.02 Décoder, analyser des documents esthétiques et techniques C4.01 S'exprimer oralement, graphiquement et par écrit	- 2 - - On vous demande de faire une synthèse par écrit, en quelques lignes de ces formes.	- pages 3/8 et 4/8 - Vos relevés du document	-Votre synthèse doit être complète et juste	- Sur le document réponse page 5/8	5
C1.01 Collecter des informations C1.02 Décoder, analyser des documents esthétiques et technique C2.04 Traduire une solution technique C4.01 S'exprimer oralement, graphiquement et par écrit	- 3 - - On vous demande de faire trois recherches sous la forme de croquis rapides pour une table basse s'intégrant à ce restaurant.	- Relevés du document	Les recherches doivent correspondre aux contraintes techniques Vos propositions doivent correspondre aux caractéristiques du restaurant. Vos propositions doivent être variées et de qualité.	Sur le document Réponse page 7/8	12
C1.01 Collecter des informations C1.02 Décoder, analyser des documents esthétiques et technique C2.04 Traduire une solution technique C4.01 S'exprimer oralement, graphiquement et par écrit	-4 - On vous demande de sélectionner une de vos recherches et de la mettre en situation dans le coin salon.	- Relevés du document	- Votre proposition doit être lisible, vous devez travailler les ombres et lumières de manière à rendre les volumes plus lisibles. Vous devez respecter l'échelle du document.	-Sur le document réponse page 8/8	14


Examen et spécialité	Rappel codage
CAP EBENISTE	2-0449
Intitulé de l'épreuve	N° de page
EP 2-1 Arts appl.Etude Const.Techn.(ARTS APPL. b)réalisation graphique) 2 h 30	S 2/8



VUE D'ENSEMBLE




DETAIL



DESSIN DU MOBILIER

Examen et spécialité	Rappel codage
CAP EBENISTE	2-0449
Intitulé de l'épreuve	N° de page
EP 2-1 Arts appl.Etude Const.Techn.	S 3/8


(ARTS APPL. b)réalisation graphique) 2 h 30




DETAIL

Examen et specialite	Rappel codage
CAP EBENISTE	2-0449
Intitule de l'epreuve	N° de page
EP 2-1 Arts appl.Etude Const.Techn.	S 4/8


(ARTS APPL. b)réalisation graphique) 2 h 30



VUE D'ENSEMBLE



VUE D'ENSEMBLE



DISPOSITIF DE CUISSON

CAP EBENISTERIE


EPREUVE : Réalisation graphique

DUREE : 2H30




Un grand brasseur japonais décide d'agrémenter son restaurant d'un coin salon se mariant au style de son restaurant. On vous demande de concevoir une table basse dont le style s'intègre à la décoration et au mobilier déjà existant dans ce restaurant.

Examen et spécialité	Rappel codage
CAP EBENISTE	2-0449
Intitulé de l'épreuve	N° de page
EP 2-1 Arts appl.Etude Const.Techn.(ARTS APPL. b)réalisation graphique) 2 h 30	S 5/8

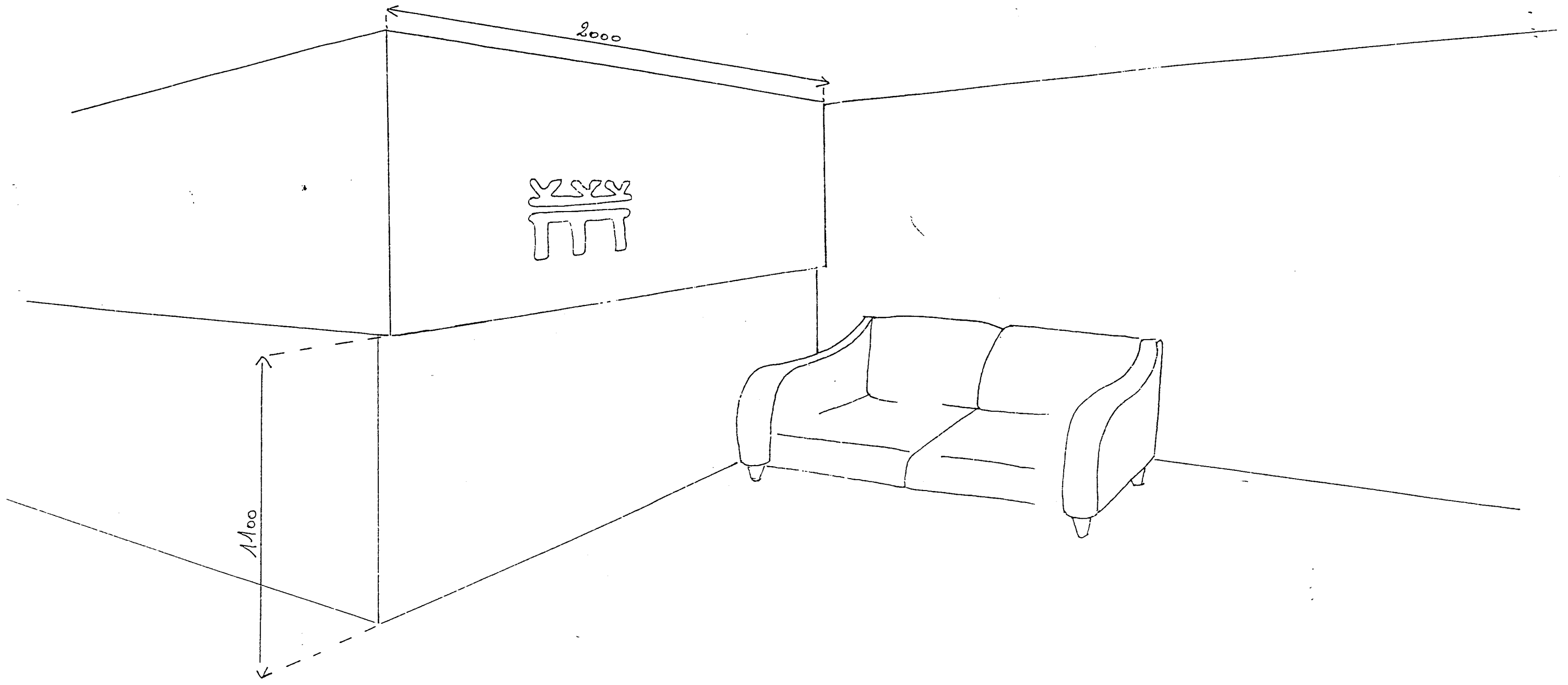
DOCUMENT REPONSE



Examen et spécialité	Rappel codage
CAP EBENISTE	2-0449
Intitulé de l'épreuve	N° de page
EP 2-1 Arts appl.Etude Const.Techn.(ARTS APPL. b)réalisation graphique) 2 h 30	S 6/8



Examen et spécialité	Rappel codage
CAP EBENISTE	2-0449
Intitulé de l'épreuve	N° de page
EP 2-1 Arts appl.Etude Const.Techn.(ARTS APPL. b)réalisation graphique) 2 h 30	S 7/8



Examen et specialité	Rappel codage
CAP EBENISTE	2-0449
Intitulé de l'épreuve	N° de page
EP 2-1 Arts appl.Etude Const.Techn.(ARTS APPL. b)réalisation graphique) 2 h 30	S 8/8