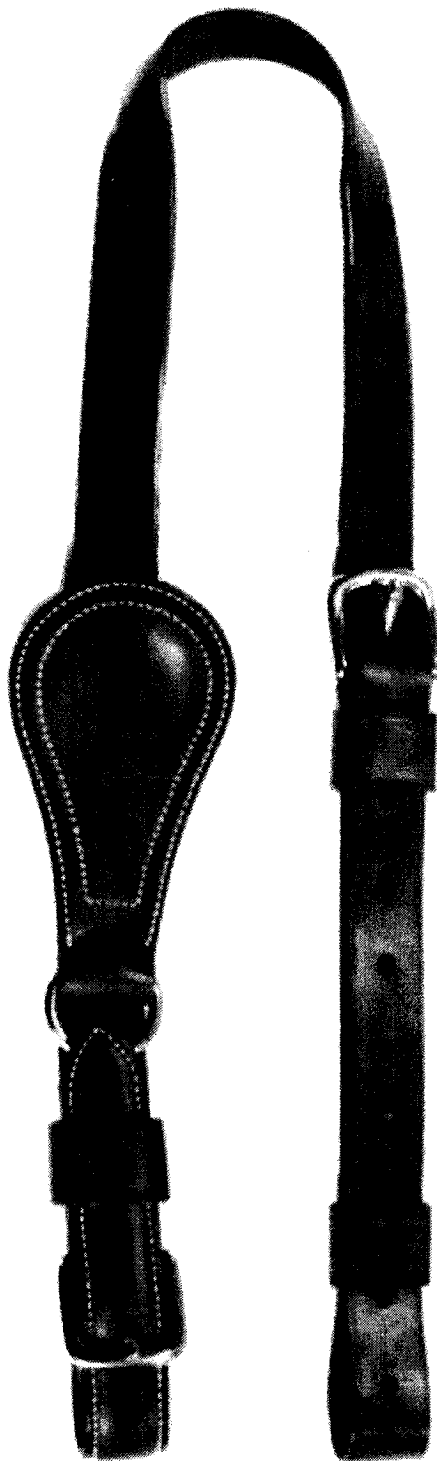


Fabrication d'une pièce de harnachement



Une FAUSSE MARTINGALE

Groupement inter académique II	Session 2002	Sujet N°2 0021
EXAMEN : C A P sellier Harnacheur		
EPREUVE : Fabrication d'une pièce de harnachement		
Durée : 8 h00 + 15 mins de réflexion et d'observation	Coefficient : 8	N° de page : S 1/ 5

Fabrication d'une pièce de harnachement

Une FAUSSE MARTINGALE

- ❖ On vous donne : Deux bandes de cuir dosset 3 – 3,5 m/m :

Une bande : 2000 x 25 m/m

Une bande : 1000 x 75 m/m

Bouclerie

Deux boucles lyres de 25 m/m

Un anneau de 27 m/m

Documents

Le dessin coté des pièces (feuille S 3)

Le détail du montage de la poire (feuille S 4)

Le détail du montage du boucleteau (feuille S 5)

- ❖ Vous devez :
- Débiter les pièces suivant le gabarit et le plan (feuille S 3)
 - Le débit des 2 passants coulant est laissé à l'initiative des candidats
 - Réaliser le montage de la martingale (coutures main)
 - Procéder à la finition

Les coutures d'assemblages seront à réaliser au fil de lin blanc 332 griffe n° 10
La fonçure de la poire sera faite à 10 m/m du bord, au fil de lin blanc 432 griffe n° 12
Le parage sera fait au couteau à pied
Les ogives seront tracées au compas

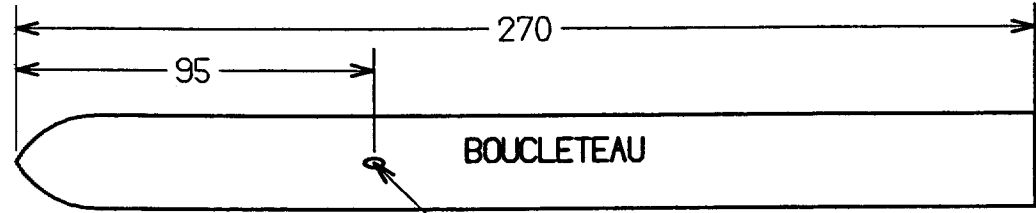
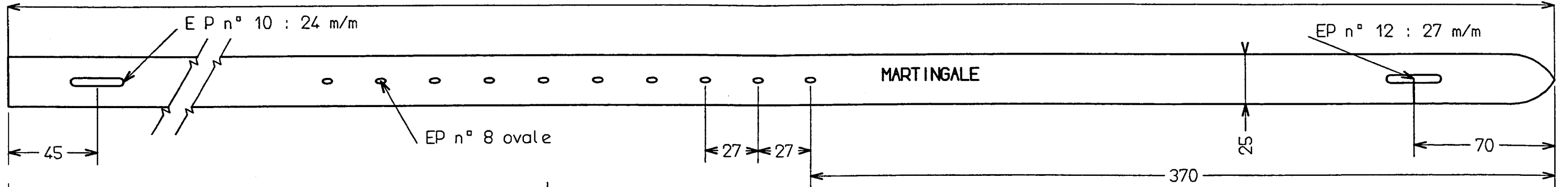
- La martingale sera rendue bouclée
- Vous indiquerez sur votre pièce votre numéro de candidat

- ❖ Une pièce réalisée sera mise à la disposition des candidats.

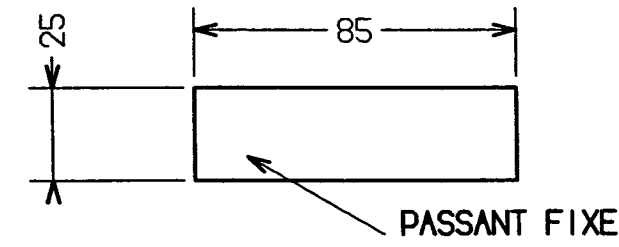

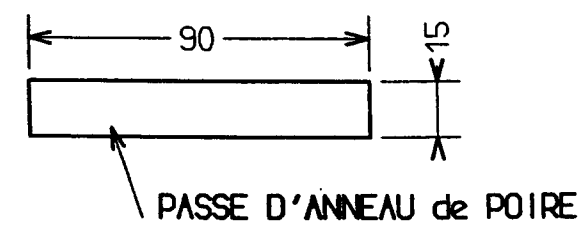
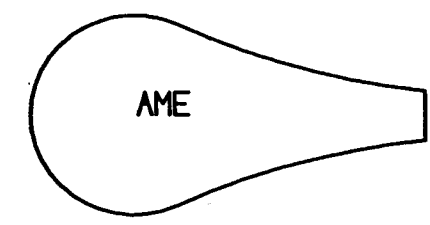
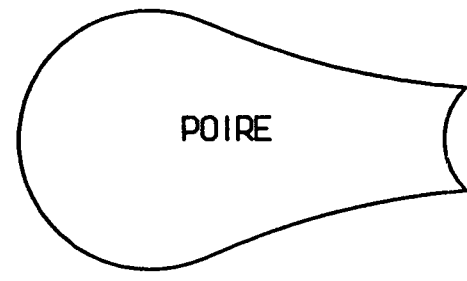
EXAMEN : C A P Sellier Harnacheur	Sujet N° 2 0021
EPREUVE : Fabrication de pièces de harnachement	Page S2 /5

H G F E D C B A

Longueur totale = 1300



EP ovale n° 8

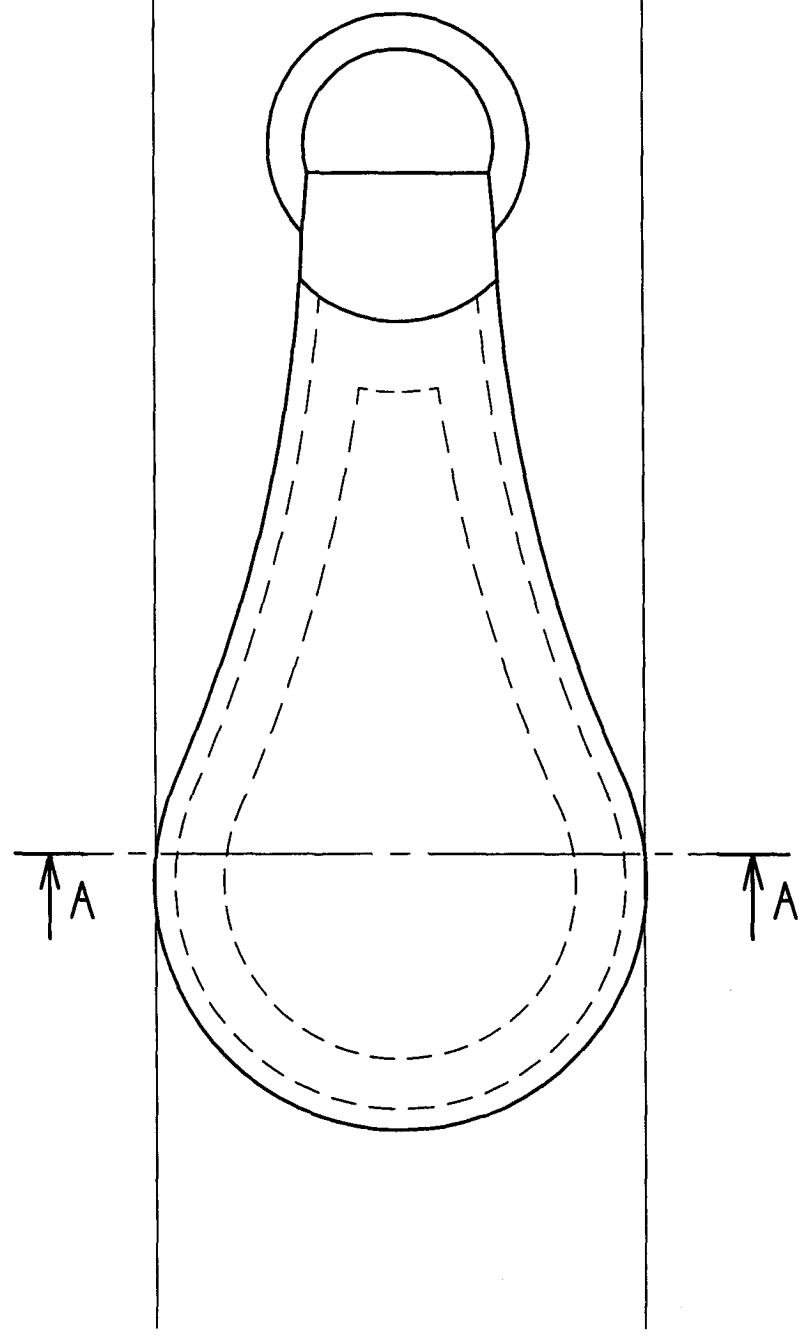
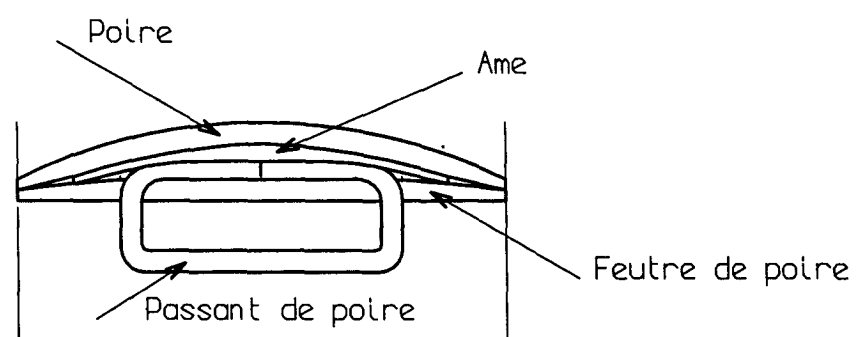


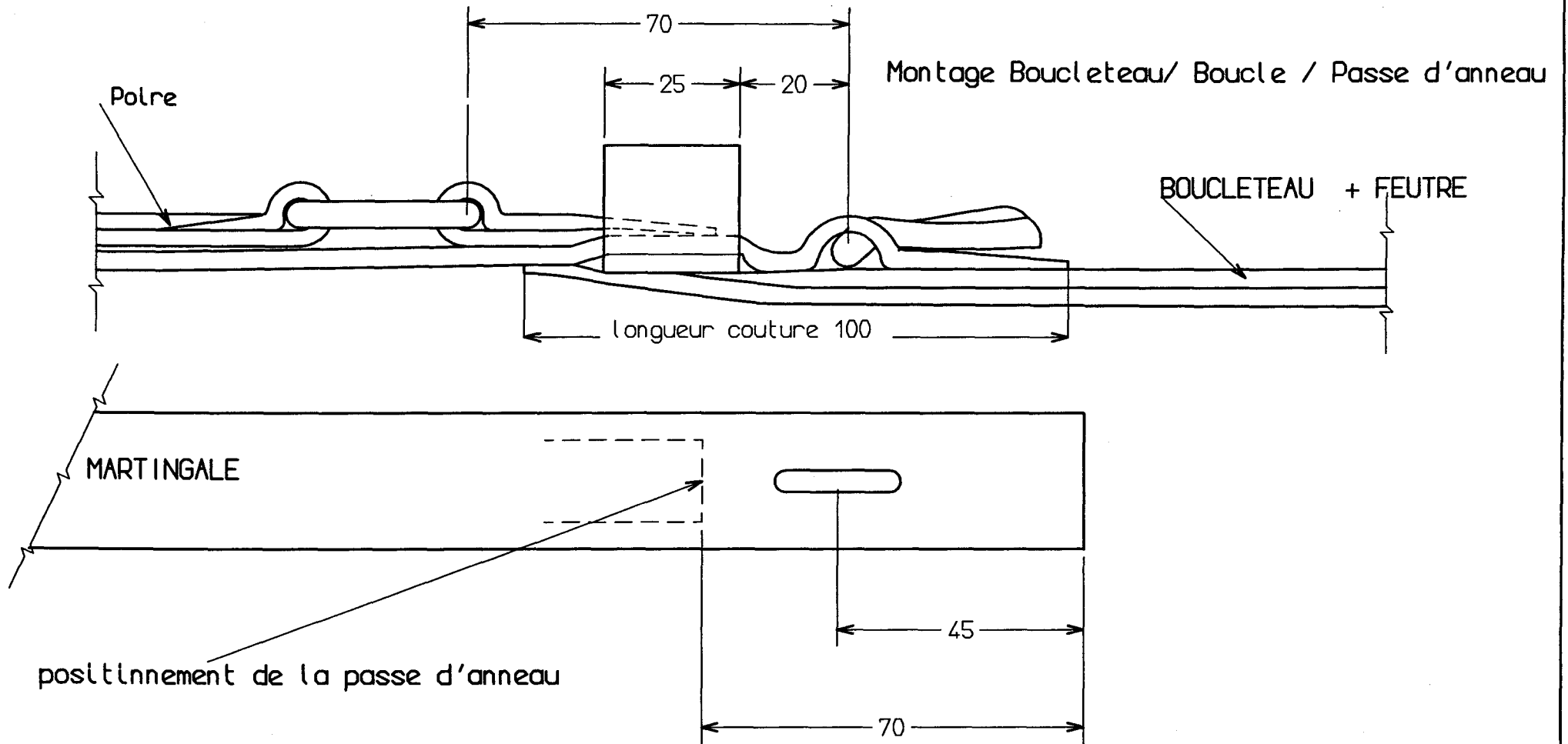
Echelle : 1:2

« FAUSSE MARTINGALE »

EXAMEN : C A P Sellier Harnacheur	Sujet N° 2 0021
EPREUVE : Fabrication de pièces de harnachement	Page S 3 / 5

Section A A





EXAMEN : C A P Sellier Harnacheur

EPREUVE : Fabrication de pièces de harnachement

Sujet N° 2 0021

Page S 5/5