


## Technologie et prévention des accidents

- 1) Citez les principales règles de sécurité quant à l'emploi :  
a ) des colles  
b ) du matériel électrique
- 2) Contre quelle maladie doit être vacciné un sellier ?
- 3) Décrivez en vous aidant de croquis deux parages mis en œuvre dans le montage d'un boucleteau doublé
- 4) Dans votre métier, quelle est l'utilité de la griffe à molette ? A quoi correspond le numéro inscrit sur la molette ?
- 5) Donnez l'utilisation dans le harnais d'attelage  
a) d'un mantelet  
b) d'une sellette
- 6) Faites les croquis  
a ) d'un bord anglais  
b) d'un bord à cheval  
c) d'un rebord
- 7) Sur quelles parties de la tête du cheval agit la Bride de monte ?
- 8) Sur la feuille S 2 expliquez en quelques mots ce qu'est le prêtant, et matérialisez le prêtant du dosset par des flèches.
- 9) Sur la feuille S 3  
a) nommez les différentes parties de la peau en les classant dans un ordre décroissant de qualité.  
b) situez ces parties sur la peau .
- 10) Sur la feuille S 4 nommez les différentes parties du licol
- 11) Sur la feuille S5 nommez les différentes parties de la selle.

Chaque candidat devra rendre à la fin de l'épreuve les réponses aux questions 1 à 7 sur une feuille anonymable avec les feuilles S2 S3 S4 S5

Groupement inter académique II	Session 2002	Sujet N°2 0024
<b>EXAMEN : C A P Sellier harnacheur</b>		
EPREUVE : Technologie et prévention des accidents		
Durée : 2 heures	Coefficient : 4	N° de page : S 1/ 5

Le prêtant :



**EXAMEN : C A P Sellier harnacheur**

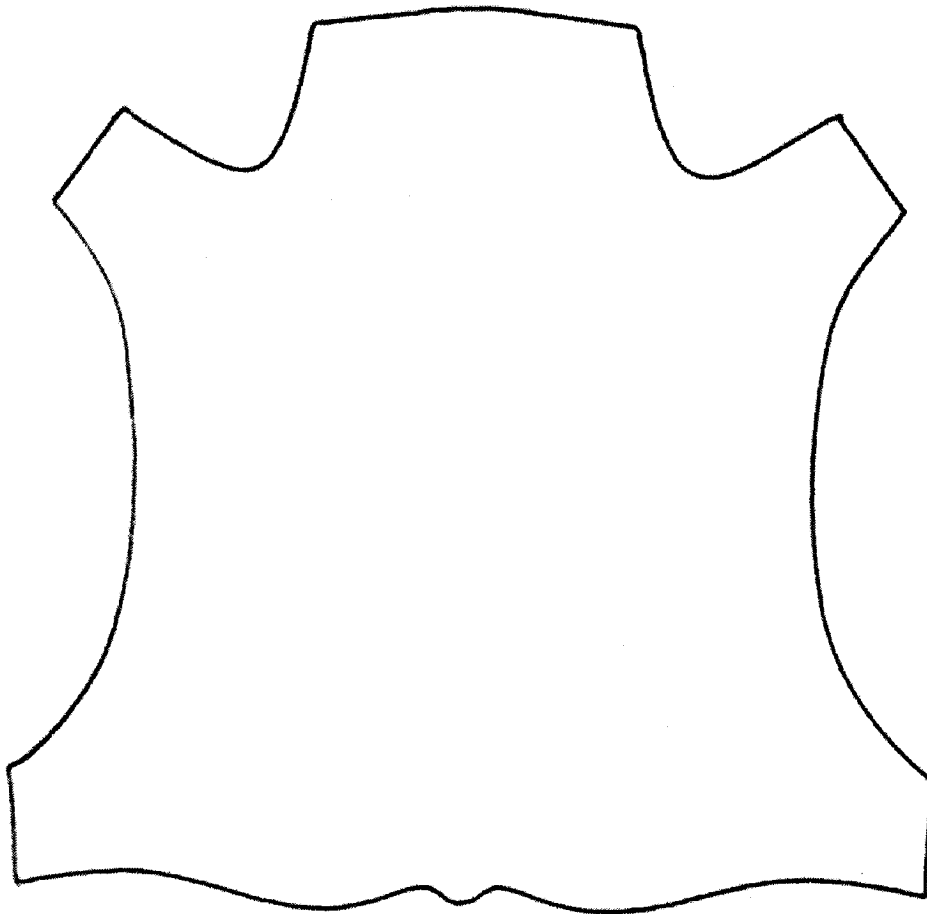
Sujet N°2 0024

**EPREUVE : technologie et prévention des accidents**

Page S 2/5

Les parties de la peau dans un ordre décroissant

- 
- 
- 
- 
- 
- 
- 
- 
- 



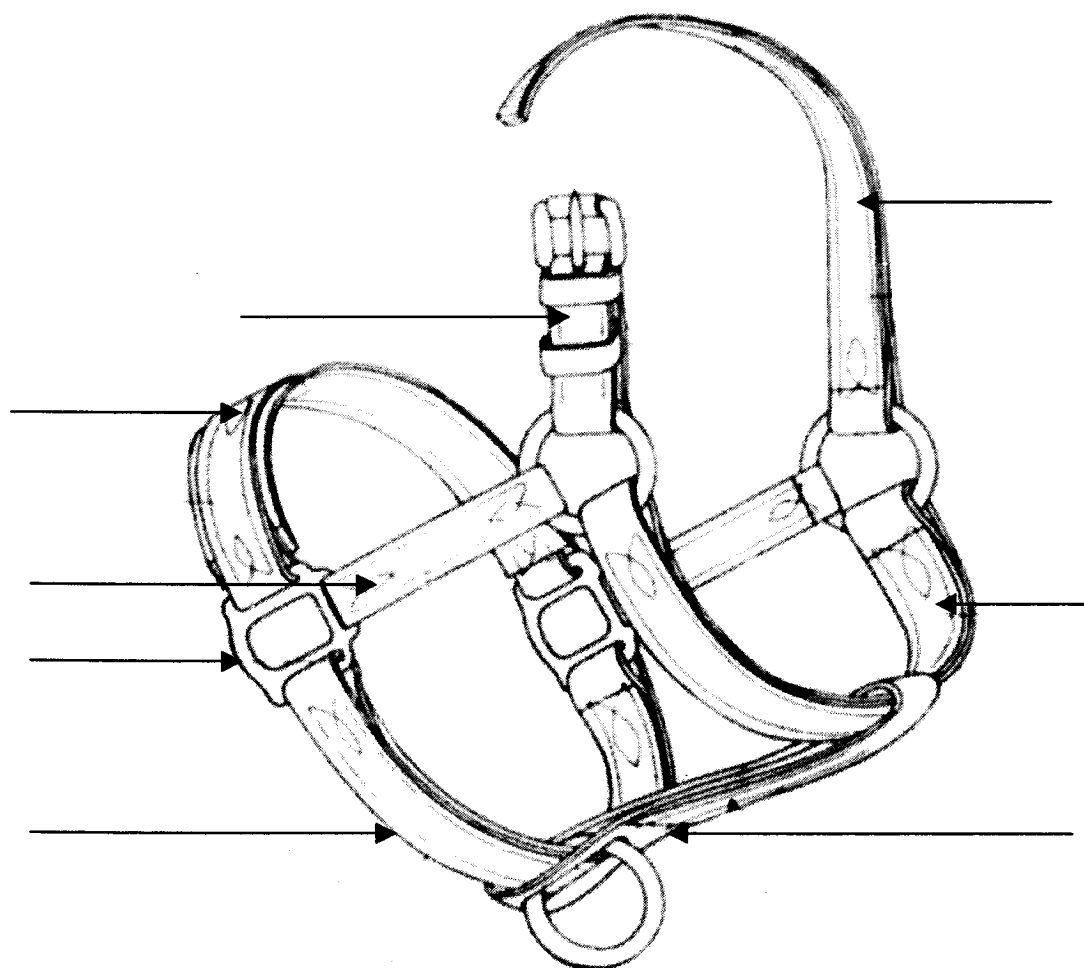
**EXAMEN : C A P Sellier harnacheur**

Sujet N°2 0024

EPREUVE : technologie et prévention des accidents

Page S 3 / 5

## Les différentes parties d'un licol



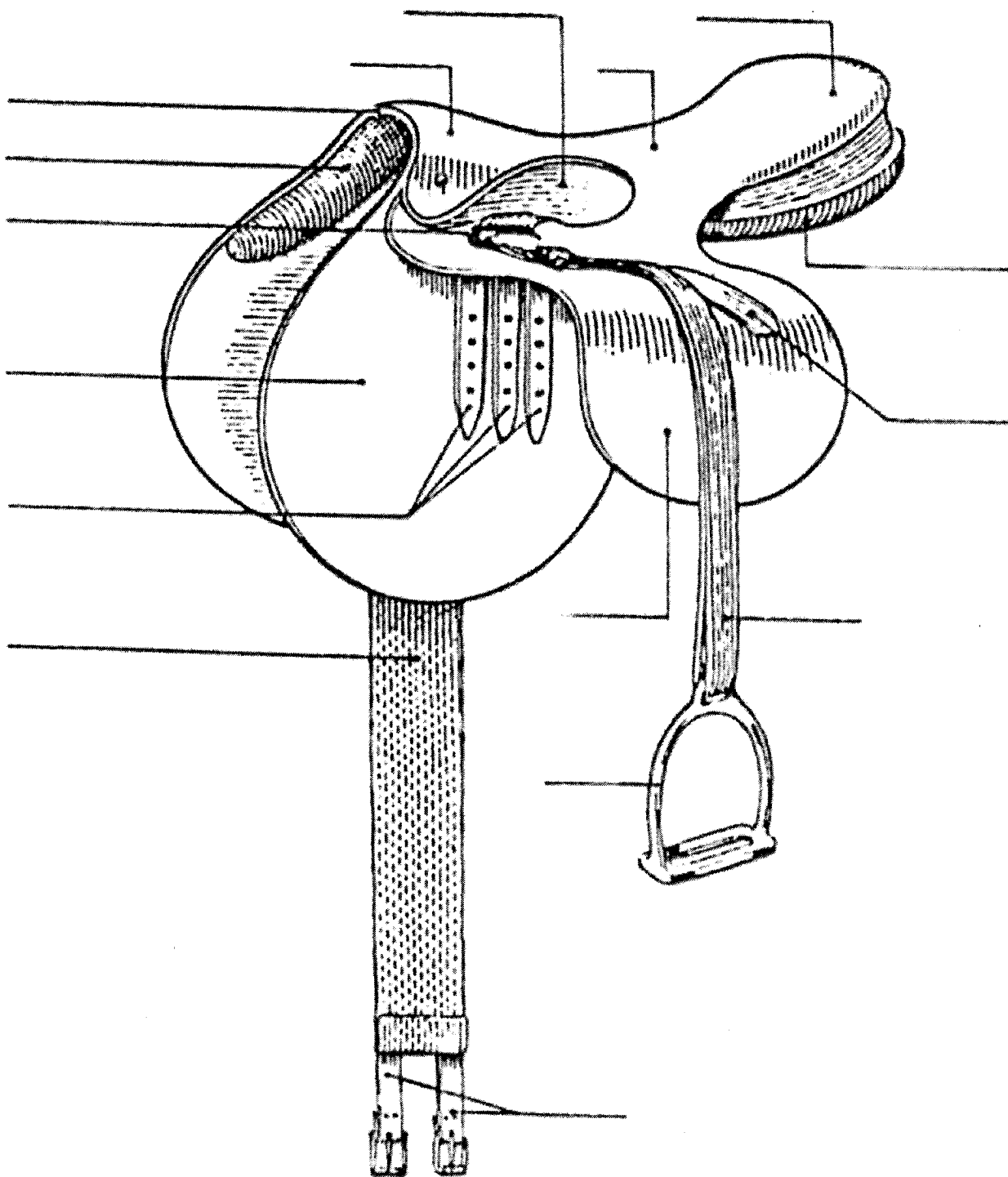
**EXAMEN : C A P Sellier harnacheur**

EPREUVE : technologie et prévention des accidents

Sujet N°2 0024

Page S 4 / 5

Les parties de la selle



**EXAMEN : C A P Sellier harnacheur**

**EPREUVE : technologie et prévention des accidents**

Sujet N°2 0024

Page S 5 / 5