

DANS CE CADRE

Académie :	Session :
Examen ou concours :	Série* :
Spécialité/option :	Repère de l'épreuve :
Epreuve/sous-épreuve :	
NOM	
(en majuscules, suivi s'il y a lieu, du nom d'épouse)	
Prénoms :	n° du candidat <input type="text"/>
Né(e) le :	(le numéro est celui qui figure sur la convocation ou liste appel)

NE RIEN ECRIRE

Examen :	Série* :
Spécialité/option :	
Repère de l'épreuve :	
Epreuve/sous-épreuve :	

Note :
20

Appréciation du correcteur (uniquement s'il s'agit d'un examen) :

Il est interdit aux candidats de signer leur composition ou d'y mettre un signe quelconque pouvant indiquer sa provenance.

Session 2002

## C.A.P. FLEURISTE

Code : 503-1204

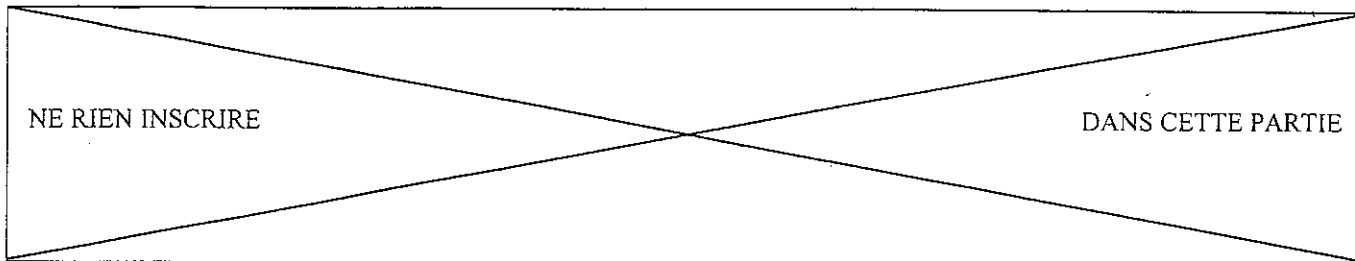
### *EPI : TECHNOLOGIE*

*Durée* : 1h45

*Coef* : 9

Les réponses sont à rédiger sur les documents.  
A l'issue de l'épreuve, vous remettrez l'ensemble de ces documents.

Nombre de pages composant le sujet : 5



## TECHNOLOGIE PROFESSIONNELLE (16 points)

### QUESTION N°1

Mademoiselle Durand a commandé, pour le samedi 22 juin vers 10 heures, un bouquet rond de couleur pastel d'un prix de 45,73 euros.

Votre employeur vous demande de prendre en charge cette commande.

A) Citer les différentes étapes de la préparation de cette commande. (4 points)

---

---

---

B) Citer le nom et la quantité des végétaux utilisés pour cette commande. (2 points)

---

---

C) Le lien d'attache peut être un lien technique ou esthétique. Choisir 1 lien pour cette commande et justifier votre choix. (2 points)

---

---

---

### QUESTION N°2 (4 points)

Citer différents produits utilisés pour la conservation maximum des fleurs.

---

---

### QUESTION N°3

Béatrice est fleuriste. Elle a pris une précaution contre une maladie grave : le tétanos.

A) Quelle est cette précaution ? (2 points)

---

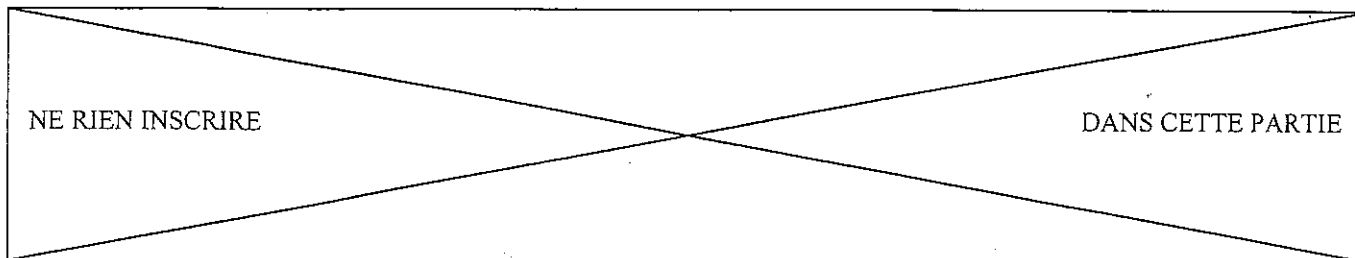
---

B) Quels sont les symptômes de cette maladie ? (2 points)

---

---

Examen : C.A.P	Session 2002	Sujet
Spécialité : Fleuriste	Epreuve : EP 1 Technologie	
Temps alloué : 1h 45	Coefficient : 9	Document : 1/5



## BOTANIQUE (14 points)

### QUESTION N°1 (3 points).

Malgré les conditions optimales de germination, certaines graines sont incapables de germer : on dit qu'elles sont dormantes.

Quelles sont les principales causes de la dormance des graines ?

---

---

---

### QUESTION N°2

Une plante est constituée de tissus cellulaires.

A) Donner la définition d'une cellule. (2,5 points)

---

---

B) Citer la fonction d'un tissu conducteur. (2,5 points)

---

---

### QUESTION N°3

Un client vous demande : "comment enrayer une attaque de pucerons ?"

Quelles sont vos propositions ? (2 points)

---

---

---

---

### QUESTIONS N°4


Nommez les différentes inflorescences représentées sur le document "annexe 1". (4 points)

- |          |          |
|----------|----------|
| a) _____ | b) _____ |
| c) _____ | d) _____ |
| e) _____ | f) _____ |
| g) _____ | h) _____ |

Examen : C.A.P	Session 2002	Sujet
Spécialité : Fleuriste	Epreuve : EP 1 Technologie	
Temps alloué : 1h 45	Coefficient : 9	Document : 2/5



A



B



C



D




E



F



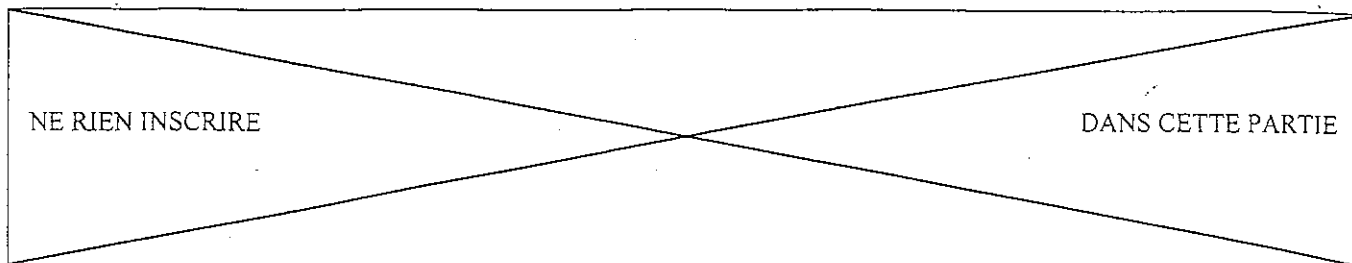
G



H

Examen : C.A.P	Session 2002	Sujet
Spécialité : Fleuriste	Epreuve : EP 1 Technologie	
Temps alloué : 1h 45	Coefficient : 9	Document :3/5

ANNEXE 1



RECONNAISSANCE DES VEGETAUX : VOIR DOCUMENT "ANNEXE 2"  
(20 points)

N°	Nom latin 0,5	Nom français 0,5
1		
2		
3		
4		
5		
6		
7		
8		
9		
10		
11		
12		
13		
14		
15		

N°	Nom latin 0,25 point	Nom Français 0,25 point	Famille 0,5 points
16			
17			
18			
19			
20			

Examen : C.A.P	Session 2002	Sujet
Spécialité : Fleuriste	Epreuve : EP 1 Technologie	
Temps alloué : 1h 45	Coefficient : 9	Document :4/5

Ne rien écrire

dans la partie barrée

Folio 5/5

ANNEXE 2




N°1




N°2



N°3




N°4



N°5



N°6




N°7



N°8



N°9




N°10



N°11



N°12



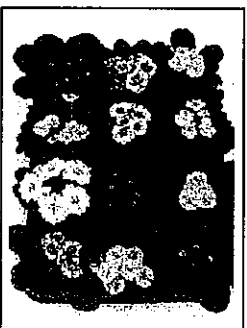
N°13



N°14



N°15



N°16




N°17



N°18



N°19



N°20