

Repère : ROPHY

SESSION 2003

Durée : 2 H

Page : 0/4

Coefficient : 2

**BREVET DE TECHNICIEN SUPERIEUR
REALISATION D'OUVRAGES CHAUDRONNES**

**EPREUVE U32 :
SCIENCES PHYSIQUES**

SCIENCES PHYSIQUES

- La clarté des raisonnements et la qualité de la rédaction interviendront pour une part importante dans l'appréciation des copies.
- Conformément aux dispositions de la circulaire n° 99-018 du 01/02/1999, l'usage de la calculatrice est autorisé.

A : MÉCANIQUE DES FLUIDES ET THERMODYNAMIQUE (12 points)

I - Mécanique des fluides

Données :

- Accélération de la pesanteur $g = 10 \text{ m.s}^{-2}$.
- Masse volumique de l'eau $\rho = 10^3 \text{ kg.m}^{-3}$.

Une piscine parallélépipédique de dimensions : $L = 12 \text{ m}$; $l = 8 \text{ m}$; $h = 1,8 \text{ m}$ est remplie d'eau.

I-1 - Calculer le volume V d'eau qu'elle contient.

I-2 - Calculer la durée t du remplissage de la piscine sachant que le débit volumique du robinet qui l'alimente est $q_v = 4 \text{ L.s}^{-1}$. Exprimer cette durée en heures.

Le fond de la piscine est équipé d'une bonde de diamètre $d = 0,1 \text{ m}$. Cette bonde servira à vidanger la piscine. (cf schéma)

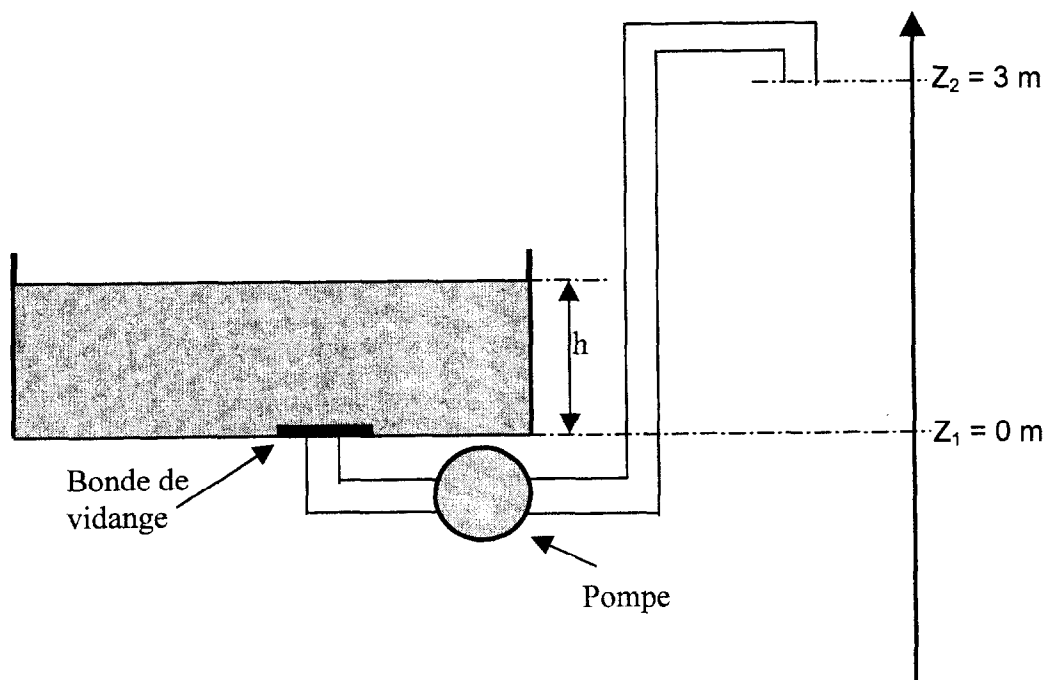
I-3 - Calculer la pression relative p_r exercée par l'eau sur cette bonde avant vidange (on ne tiendra pas compte de la pression atmosphérique).

I-4 - En déduire la force F exercée par l'eau sur cette bonde.

On désire vider le contenu de cette piscine en 10 heures en actionnant une pompe située dans la conduite de vidange de cette piscine (cf. schéma).

La conduite de vidange débouche à l'air libre.

On négligera toutes les pertes de charge.



- I-5 - Quel doit être le débit volumique q'_v de la pompe qui servira à cette vidange ?
- I-6 - Le diamètre de la conduite est $D = 5$ cm. Calculer la vitesse d'écoulement v' de l'eau dans cette conduite.
- I-7 - Calculer le travail massique W_{12} qui aura été fourni par la pompe à la fin de la vidange (le niveau de l'eau étant alors à la cote $Z_1 = 0$). On prendra $p_2 - p_1 = 18 \cdot 10^3$ Pa et $v_1 = 0$.
- I-8 - En déduire la puissance P de la pompe.

Rappel :

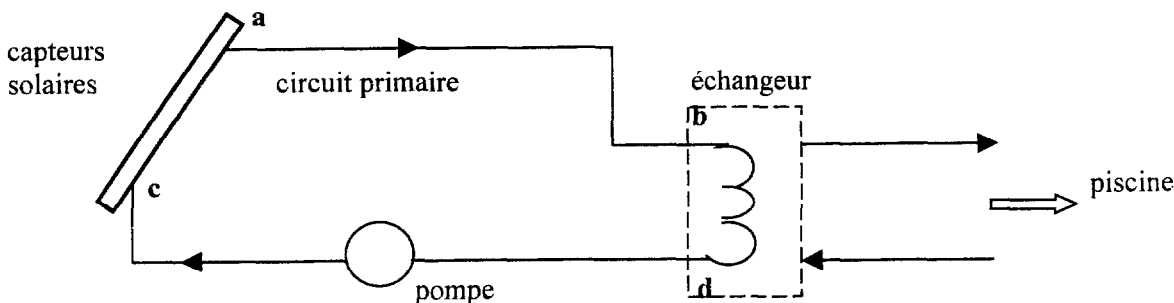
Le théorème de Bernoulli s'écrit, pour 1 kg de fluide :

$$\frac{1}{2}(v_2^2 - v_1^2) + g(z_2 - z_1) + \frac{1}{\rho}(p_2 - p_1) = W_{12}$$

II - Thermodynamique

Avant d'aborder le II il est nécessaire d'avoir répondu à la question I - 1.

L'eau de la piscine est chauffée par des capteurs solaires : de l'eau circule en circuit fermé entre les capteurs et un échangeur. L'échangeur a pour but de transférer l'énergie absorbée par les capteurs vers l'eau de la piscine.



L'eau du circuit primaire arrive dans l'échangeur à une température $\theta_1 = 60$ °C et sort de l'échangeur à une température $\theta_2 = 40$ °C.

La chaleur massique de l'eau est $c = 4180$ J.kg⁻¹.K⁻¹.

Le débit volumique est $q''_v = 4$ m³.h⁻¹.

- II-1 - Calculer la chaleur Q_1 cédée par le circuit primaire dans l'échangeur pendant une heure.
- II-2 - Cette chaleur Q_1 est entièrement absorbée par l'eau de la piscine. Quelle sera la variation de température $\Delta\theta$ de l'eau de la piscine en une heure ?
- II-3 - Pour minimiser les pertes calorifiques dans le circuit primaire, on calorifuge les tuyaux entre les points a et b, puis entre les points c et d (cf. schéma).

On considère que la température :

- à l'intérieur de la conduite « ab » est uniforme et égale à $\theta_1 = 60$ °C ;
- à l'intérieur de la conduite « cd » est uniforme et égale à $\theta_2 = 40$ °C.

Longueur des tuyaux :

- $L_1 = 5$ m pour la portion « ab ».
- $L_2 = 6$ m pour la portion « cd ».

Diamètre intérieur des tuyaux $D_1 = 27$ mm.

Diamètre extérieur des tuyaux avec l'isolant $D_2 = 41$ mm.

Conductivité de l'isolant : $\lambda = 0,042$ W.m⁻¹.K⁻¹.

La température extérieure est $\theta_0 = 20$ °C.

II-3-a - Calculer la puissance perdue, sachant que $P = \frac{2\pi\lambda(\theta_{\text{intérieur}} - \theta_{\text{extérieur}})}{\ln\left(\frac{D_2}{D_1}\right)} L$.

L étant la longueur du tuyau considéré exprimée en mètres et « ln » représentant le logarithme népérien.

II-3-b - En déduire l'énergie perdue en une heure.

B : ÉLECTROTECHNIQUE (8 points)

MOTEUR ASYNCHRONE

Un moteur asynchrone triphasé tétrapolaire est couplé en étoile. Dans tout le problème, il entraîne une machine lui imposant un couple de moment constant $T_r = 40 \text{ N.m}$.

Les pertes mécaniques et magnétiques sont négligeables devant les autres puissances mises en jeu.

La résistance de chaque enroulement du stator est $r = 0,5 \Omega$.

Le moteur est alimenté par un réseau (230/400 V - 50 Hz).

Dans ces conditions :

- L'intensité du courant en ligne est $I = 14,5 \text{ A}$;
- La caractéristique du couple utile T (en N.m) en fonction de la fréquence de rotation n (en tr.min^{-1}) est donnée figure 1 dans le document réponse.

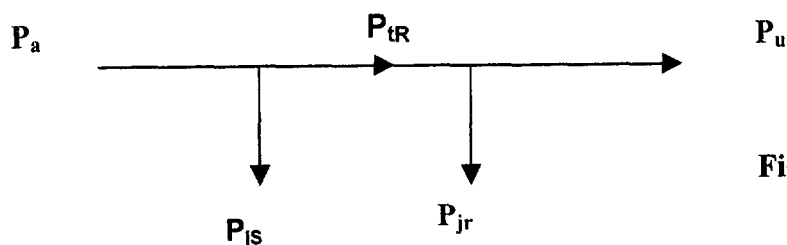
1 - Peut-on réaliser le démarrage direct du moteur en charge ? Pourquoi ?

2 - Quelle est la fréquence de synchronisme n_s en tr.min^{-1} ?

3 - Utiliser la caractéristique $T(n)$ de la figure 1 dans le document réponse pour trouver la fréquence n de rotation en charge.

En déduire la valeur du glissement g .

4 - Calculer la puissance utile P_u du moteur.



5 - Calculer la puissance transmise au rotor P_{tr} à partir de l'arbre de puissances de la figure 2 ci-dessus.

6 - Calculer les pertes par effet Joule au stator P_{js} .

7 - Calculer la puissance absorbée P_a par le moteur et son facteur de puissance k .

DANS CE CADRE

Académie : _____ Session : _____
Examen ou Concours _____ Série* : _____
Spécialité/option* : _____ Repère de l'épreuve : _____
Épreuve/sous-épreuve : _____
NOM : _____
(en majuscules, suivi s'il y a lieu, du nom d'épouse)
Prénoms : _____ N° du candidat
Né(e) le : _____ (le numéro est celui qui figure sur la convocation ou la liste d'appel)

NE RIEN ÉCRIRE

* Uniquement s'il s'agit d'un examen.

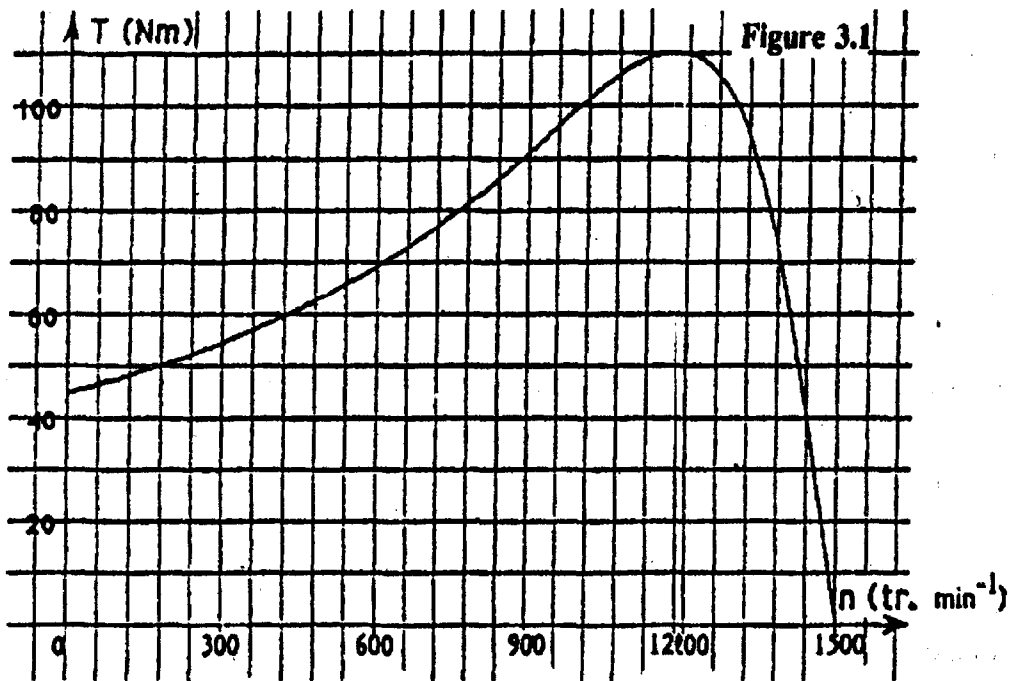
Repère : ROPHY Session : 2003
Page : 4/4

Durée : 2 H
Coefficient : 2

**DOCUMENT REPONSE
A RENDRE AVEC LA COPIE**

PARTIE B

Figure 1



Echelle : 60 tr/min par graduation