

BTS ECONOMIE SOCIALE FAMILIALE

TECHNIQUES D'HABILLEMENT

Durée : 5 heures

Calculatrice autorisée

BTS ECONOMIE SOCIALE FAMILIALE		
Session 2003	Techniques d'habillement et d'aménagement de l'espace	Coefficient : 5
Code : ESHAB/1		

Vous êtes technicien en Economie Sociale Familiale au sein d'un institut de rééducation accueillant des jeunes jusqu'à leur majorité en semi-internat.

Vous assurez l'animation d'un atelier « *habitat, bricolage et couture* » préparant les plus âgés à l'accès à un logement autonome. Vous organisez des séances ayant pour thème : l'utilisation du papier peint et la réalisation d'une housse de coussin assortie au double rideau.

1. Vous les initiez à la pose du papier peint. Vous disposez du plan d'un studio actuellement vacant dans la structure.

1.1 Présenter de façon précise les produits, les matériels et les outils nécessaires à la rénovation de l'espace séjour s'arrêtant à la baie vitrée.

1.2 Calculer le prix de revient de la matière d'œuvre (papier peint et colle) sachant qu'un rouleau de papier peint coûte 9 € et qu'un paquet de colle coûte 2,5 € et permet d'encoller 4 rouleaux.

Cette partie sera traitée sur feuille de copie.

2. A l'issue de ce travail, étayé par une démonstration de votre part, vous souhaitez réaliser une fiche récapitulative destinée à informer, de façon succincte, le public cité en référence. Cette fiche, permettra, sous la forme d'un dépliant, de visualiser rapidement et efficacement les principes élémentaires relatifs à la pose d'un nouveau papier peint. Elle sera remise à chacun des participants.

En vous référant aux annexes 2, 3, 4 et 5, vous élaborez la maquette de ce dépliant sur papier Canson.

Préciser par des annotations et éventuellement par des esquisses :

- une proposition de couleurs des fonds
- un choix de typographie, (voir polices proposées sur l'annexe 5) ainsi que les tailles prévues pour les polices de caractères (sur le dépliant). Ces informations figureront sur la maquette sous forme d'annotations intégrées à la présentation générale.

Proposer une mise en page claire et attrayante en exploitant judicieusement les documents fournis en annexes (les vignettes sélectionnées seront collées sur le dépliant).

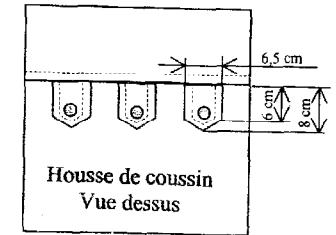
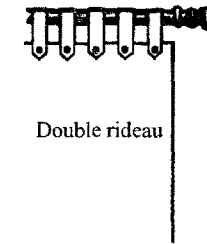
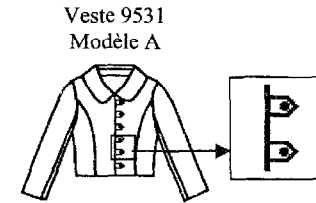
3. Afin de décorer le studio rénové, vous souhaitez faire réaliser des housses de coussins assorties aux rideaux.

3.1 Pour faciliter cette réalisation, vous rédigez la fiche technique du dessus de la housse en vous aidant des explications de réalisation d'une veste 9531, modèle A (annexe 6).

Les coussins mesurent 40 cm de côté. L'ouverture de la housse est placée sur la face dessous.

Les pattes sont insérées entre le haut et le bas du dessus de la housse.

3.2 Réaliser le dessus de la housse (sans la pose des boutons).

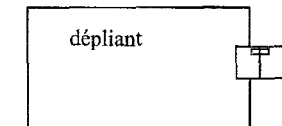
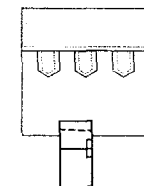


DOCUMENTS REMIS :

- Sujet	1/8	1 exemplaire
- Annexe 1 : Plan du studio	2/8	1 exemplaire
- Annexe 2 : Papier peint	3/8	1 exemplaire
- Annexe 3 : Papier peint	4/8	1 exemplaire
- Annexe 4 : Vignettes	5/8	1 exemplaires
- Annexe 4 bis : Vignettes	6/8	1 exemplaire
- Annexe 5 : Typographie	7/8	1 exemplaire
- Annexe 6 : Fiche explicative de la veste (extraits)	8/8	2 exemplaires

TRAVAIL A REMETTRE PAR LE CANDIDAT :

- feuilles de copie
- le dépliant (maquette) muni de l'étiquette d'anonymat
- la réalisation munie de l'étiquette d'anonymat.



Les étiquettes d'anonymat placées sur le document 2/8 sont à utiliser obligatoirement. Placer l'ensemble du travail dans l'enveloppe remise.

BAREME DE NOTATION :

Question 1 :	5 pts
Question 2 :	7 pts
Question 3 :	8 pts

BTS ECONOMIE SOCIALE FAMILIALE		
Session 2003	Techniques d'habillement et d'aménagement de l'espace	Coefficient : 5
Code : ESHAB/1		Page 1/8