

Pour embellir son accueil, une boucherie-charcuterie-traiteur décide d'orner son magasin d'un vitrail.

Observez les vitraux de la documentation et remarquez qu'ils sont constitués de morceaux de verre colorés tenus par des plombs (tiges métalliques entourant chaque plaque de verre).

Proposez une maquette de vitrail directement inspirée des quartiers de boeuf de la documentation dans un rectangle de 20 x 12,5 cm. Colorez les plaques de verre dans une harmonie de teintes chaudes et noircissez les parties métalliques.

Le fond sera aussi découpé et traité comme un vitrail, dans une harmonie de teintes froides.

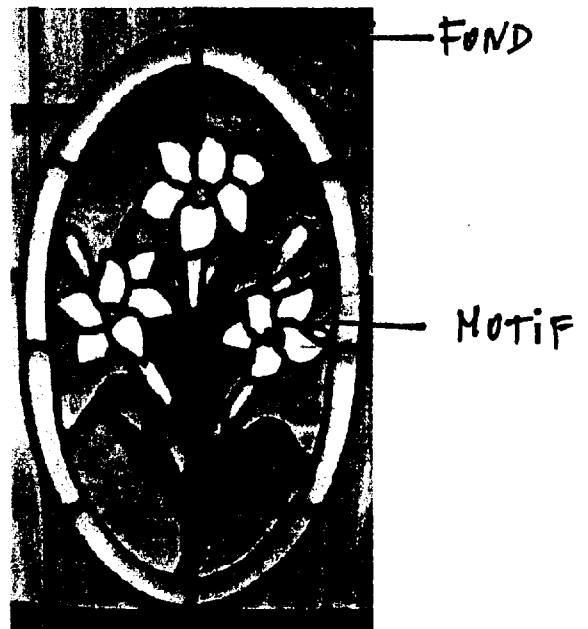
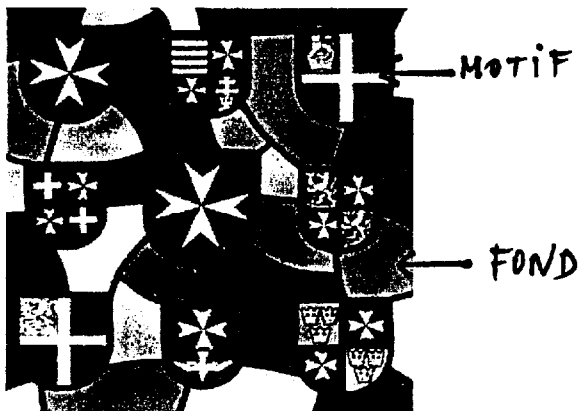

Réalisez votre travail au feutre.

Barème de notation:

- graphisme:	/08
- harmonie colorée:	/08
- qualité -soin:	/04
- total:	/20

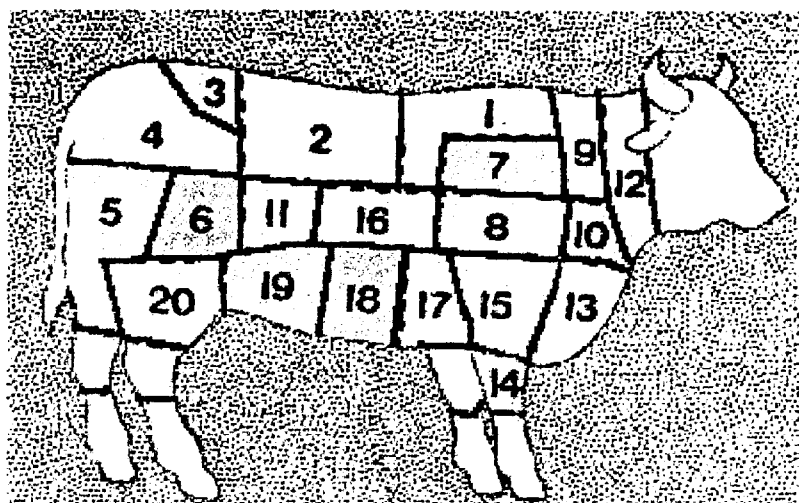


Groupement inter académique II		Session 2003		Facultatif : code	
Examen et spécialité DEP CAP ALIMENTATION - FILIÈRE VIANDE					
Intitulé de l'épreuve EP2 ARTS APPLIQUÉS					
Type SUJET	Facultatif : date et heure	Durée 1	Coefficient 1	N° de page / total 1/4	

EXEMPLES DE VITRAUX



Groupement inter académique II		Session	2003		
Examen et spécialité					
BEP CAP ALIMENTATION FILIÈRE VIANDE					
Intitulé de l'épreuve					
EP2 ARTS APPLIQUÉS					
Type	Facultatif : date et heure	Durée	Coefficient	N° de page / total	
SUJET		1	1	214	

QUARTIERS DE BOEUF



	Rappel codage
	314

Numéro de Candidat :



	Rappel codage
	414