

# EP3

## CAP METIERS DE LA PIERRE

### HISTOIRE DE L'ART Temps conseillé 45mn.

#### ON EXIGE,

- que toutes les réponses soient justes, cohérentes et écrites à l'encre,
- que tous les croquis soient au crayon.
- Ils seront notés dans la partie art appliqué.

20 pts.

### ARTS APPLIQUES Temps conseillé 2h15mn.

#### ON EXIGE,

- que tous les croquis respectent les proportions du modèle
- qu'ils soient précis et informatifs.
  
- que votre proposition personnelle soit originale et bien équilibrée,
- que les volumes bien construits soient adaptés aux proportions de la pierre,
- que le travail de l'éclairage mette en évidence les volumes,
- que le travail du crayon soit précis et fin.

10 pts.

10 pts.

**REMETTRE EN FIN D'EPREUVE TOUT LE DOSSIER**

### HISTOIRE DE L'ART

**A** Nommez avec précision chacun de ces supports. 4 pts.



.....  
.....



Groupement Interacadémique II	EXAMEN	CAP METIERS DE LA PIERRE			03
	EPREUVE	EP3			SUJET
	Coefficient 2		Durée 3h		Feuille 1/5
	Ce sujet comporte 5 feuilles				

**B** Retrouvez parmi ces noms de décor: ceux qui correspondent aux documents ci-dessous.  
 Légendez..  
 - candélabre - cartouche - pot à feu - coquille - arabesque - fronton rompu - fronton bombé -  
 - fleuron - mascarón - médaillon - masque radié -

4 pts.



.....  
 .....



.....  
 .....

**C** Parmi ces exemples, quel est le décor typique du style Louis XIV? .....

1pt.

**D** Complétez le tableau chronologique

3pts.

Tableau chronologique				
Style		Style Louis XIII	Style Louis XIV	
Epoque				

**E** Le château de Vaux le Vicomte est un exemple de la transition entre le style Louis XIII et le style Louis XIV.

Observez les documents de la feuille 3/5.

Choisissez ce qui appartient encore au style passé et ce qui annonce le style suivant.

Remplissez le tableau de comparaison des styles, avec des croquis légendés pris sur le château de Vaux le Vicomte, montrant vos observations.


8pts.

	Vaux le Vicomte, détails appartenant au style Louis XIII		Vaux le Vicomte, détails appartenant au style Louis XIV	
Choisir et classer 4 éléments de la toiture				
Choisir et classer 2 éléments de la façade				
Choisir et classer 2 éléments du portique d'entrée				


Groupement Interacadémique II	EXAMEN	CAP METIERS DE LA PIERRE			03
	EPREUVE	EP3			SUJET
	Coefficient 2		Durée 3h		Feuille 2/5
	Ce sujet comporte 5 feuilles				




Vaux le Vicomte. Façade sur jardins.



Cheverny. Style Louis XIII.




Chartres. Hôtel Montescot. Style Louis XIII.



Vaux le Vicomte. portique d'entrée.



Paris. Colonnade du Louvres. Style Louis XIV.



Versailles. Château. Style Louis XIV.

Groupement Interacadémique II	EXAMEN	CAP METIERS DE LA PIERRE		03
	EPREUVE	EP3		SUJET
	Coefficient 2	Durée 3h		Feuille 3/5
	Ce sujet comporte 5 feuilles			

# ARTS APPLIQUES

Sur la feuille 5/5 dans le cadre vous chercherez une composition utilisant les termes ARCHI 2003. Cette composition sera d'esprit contemporain et sculptée. Elle sera employée comme monogramme sur la porte d'entrée d'un cabinet d'architecture.

Faites 2 croquis de recherche et développez votre meilleure proposition dans le grand cadre.


Vous vous inspirerez librement du document A et des polices de caractères présentées. Vous ferez naître les volumes par un éclairage approprié et un travail soigné des valeurs au crayon de papier.

**ARCHI  
2003**

ARCHI  
2003

archi  
2003



ARCHI  
2003




document A

**2003 archi 2003 archi 2003**  
**ARCHI 2003 archi 2003 archi**  
**2003 ARCHI 2003 archi**

Groupement Interacadémique II	EXAMEN	CAP METIERS DE LA PIERRE		03
	EPREUVE	EP3		SUJET
	Coefficient 2		Durée 3h	
	Ce sujet comporte 5 feuilles			



Cadres de recherche



Cadre du monogramme

**ON EXIGE**

- que votre proposition personnelle soit originale et bien équilibrée,
- que les volumes bien construits soient adaptés aux proportions de la pierre,
- que le travail de l'éclairage mette en évidence les volumes,
- que le travail du crayon soit précis et fin.

Groupement Interacadémique II	<b>EXAMEN</b>	CAP METIERS DE LA PIERRE			03
	<b>EPREUVE</b>	EP3	SUJET		
	Coefficient 2	Durée 3h	Feuille 5/5		
	Ce sujet comporte 5 feuilles				