

EP 2

DOSSIER TECHNIQUE :

Construction d'un pavillon

SITUATION PROFESSIONNELLE :

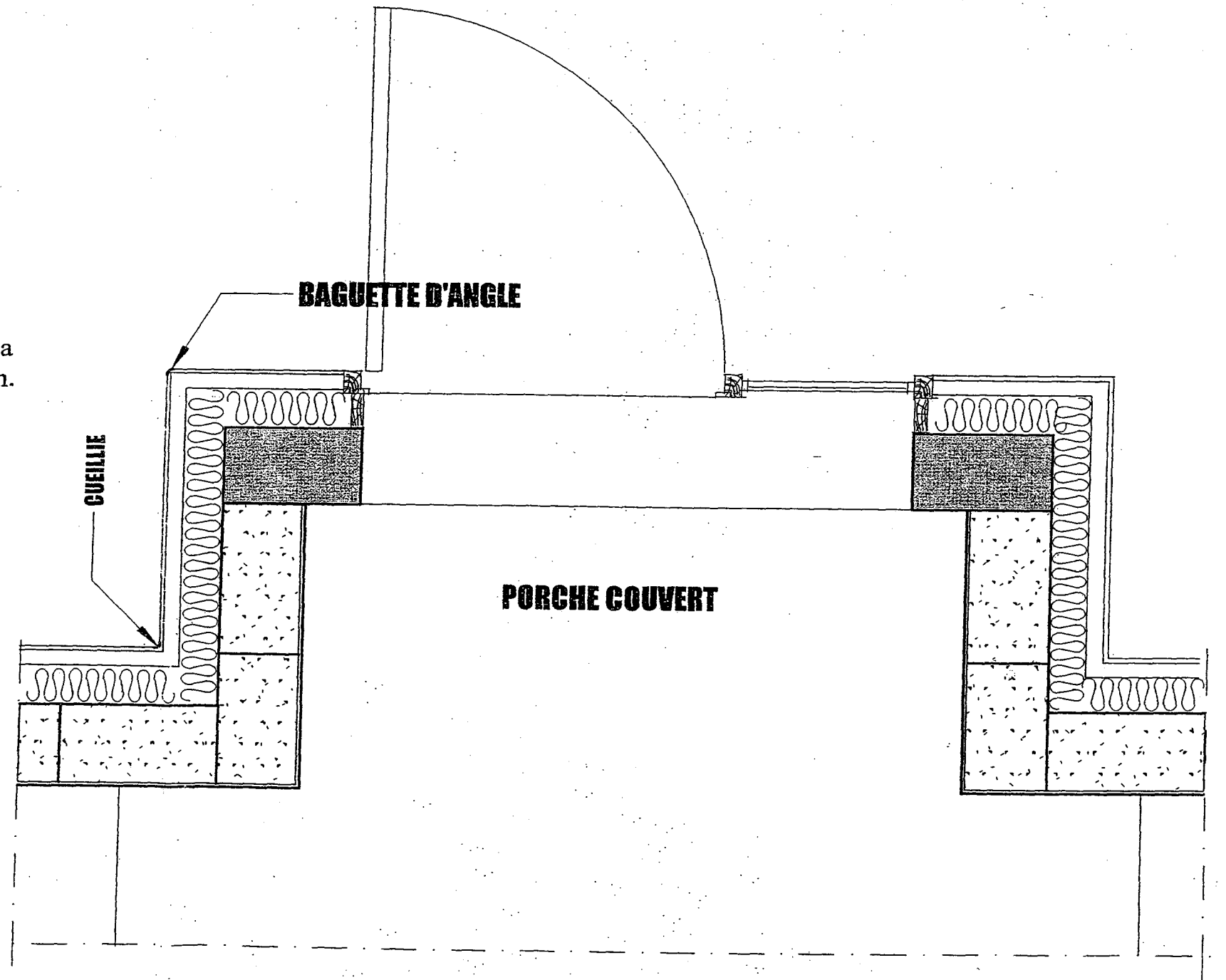
Vous devez réaliser une partie de cloison de doublage dans l'entrée et la lingerie du rez-de-chaussée, à l'emplacement aménagé par le centre d'examen.

DOCUMENTS A DISPOSITION :


- Plans
- Travail demandé

OUVRAGES A REALISER :

- Briquetage
- Pose d'arête plastique
- Cueillie en plâtre fort
- Enduit de la 1^{ère} gâchée
- Enduit de la 2^{ème} gâchée

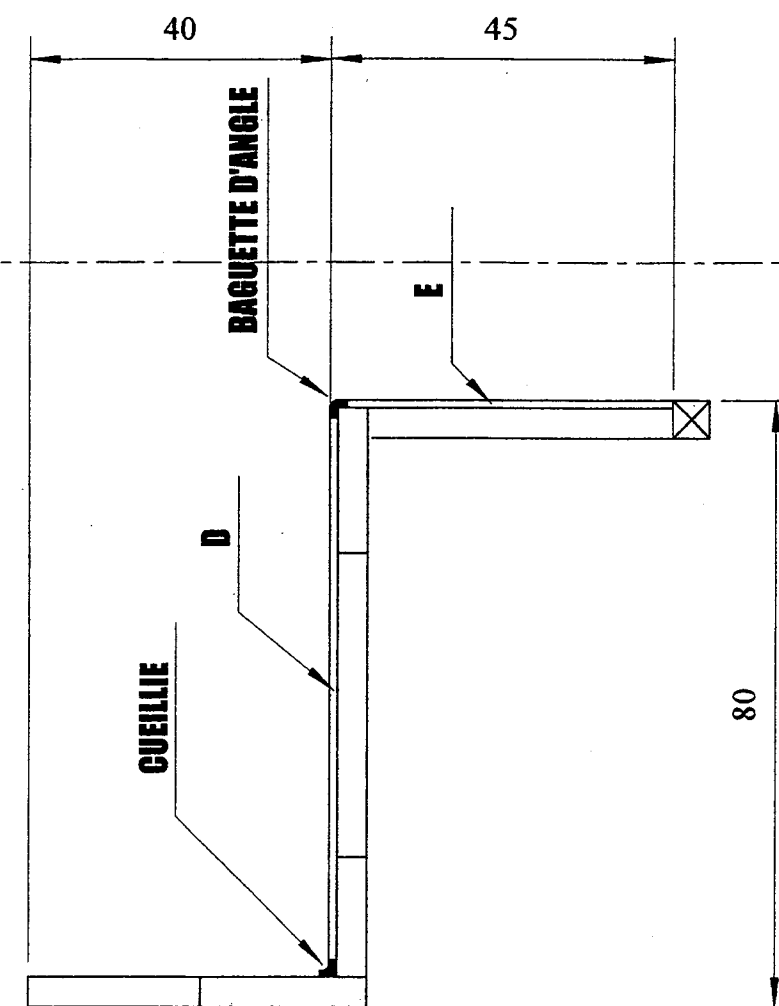


GROUPEMENT INTERACADEMIQUE II				SESSION 2003	Code	Forme	Durée	Préparation et mise en oeuvre	Coeff.	Feuille
SECTEUR 8 -BATIMENT	CAP	Plâtrerie et plaque	X	Epreuve	EP2	Pratique	8h	Sujet	6	1/3



MUR/CABINE

DALLE/CABINE



MUR/CABINE

GROUPEMENT INTERACADEMIQUE II				SESSION 2003	Code	Forme	Durée	Préparation et mise en oeuvre	Coeff.	Feuille
SECTEUR 8 -BATIMENT	CAP	Plâtrerie et plaque	X	Epreuve	EP2	Pratique	8h	Sujet	6	2/3

OUVRAGES	COMPETENCES EVALUEES	TACHES A REALISER	TEMPS PREVISIONNEL	CRITERES D'EVALUATION	BAREME DE NOTATION
		ANALYSER LE DOSSIER	30 MIN	EN COURS ET APRES EXECUTION	
A- IMPLANTATION	C.3.3 Planter un ouvrage	A1/ Implantation de la cloison A2/ Tracer au sol A3/ Placer les cueillies	1 H	A1- Implantation et respect des cotes A2- Equerrage respecté	/ 20
B- BRIQUETAGE	C.3.8 Construire en éléments de terre cuite : 4 x 25 x 40	B1/ Briqueter au plâtre « Lutèce 80 »	2 H 30	B1- L'alternance des joints est respectée B2- Le liaisonnement est alterné B3- La planéité 3mm/2m B4- L'aplomb 5mm/2m	/ 40
C- REALISER LA CUEILLIES	C.3.4 Effectuer les travaux de préparation et de réalisation	C1/ Dresser une cueillie au plâtre « Lutèce 80 »	30 min	C1- Le positionnement est correct C2- Epaisseur et aplomb respectés C3- Taux de gâchage adapté	/ 25
D- POSER UNE ARETE	C.3.4 Effectuer les travaux de préparation	D1/ Poser une arête plastique avec le plâtre « Lutèce 80 »	30 min	D1- Le positionnement est correct D2- Aplomb et équerrage respectés	/ 20
E- ENDUISAGE	C.3.11	E1/ Réaliser un enduit plâtre « Lutèce 2000c » sur la face D pour la 1 ^{ère} gâchée et sur la face E pour la 2 ^{ème} gâchée	2 H 30	E1- L'épaisseur est régulière E2- La planéité 3mm/2m E3- La verticalité 5mm/2m E4- Le taux de gâchage respecté	/ 45
F- NETTOYER ET EVACUER LE CHANTIER	C.3.16 Evacuer le chantier	F1/ Nettoyer le chantier et l'outillage	30 min	F1- Les gravats sont évacués et le chantier est propre F2- Le matériel est nettoyé	/ 10
TOTAL :					/ 160

GROUPEMENT INTERACADEMIQUE II				SESSION 2003	Code	Forme	Durée	Préparation et mise en oeuvre	Coeff.	Feuille
SECTEUR 8 -BATIMENT	CAP	Plâtrerie et plaque	X	Epreuve	EP2	Pratique	8h	Sujet	6	3/3