

CORRIGE et/ou BAREME

EXAMEN : CAP TAPISSERIE D'AMEUBLEMENT
EPREUVE : TECHNOLOGIE ET PREVENTION

C 1/3

1 – Citez plusieurs sortes de matériaux possible pour garnir des coussins. **(2 points)**

Duvet, plume, laine, fibres synthétiques, mousse, billes, Kapok , flocons de mousse.

2 – Choisissez un matériau de rembourrage du coussin en adéquation avec la commande de la cliente. Justifiez votre choix. **(2 points)**

La plume matériau existant à l'époque du siège

3 – Enumérez dans un ordre chronologique les différentes étapes de fabrication du dossier. **(5 points)**

(Ceci est une possibilité de correction)

Entoilage

Pose ouate

Pose de la toile forte

Pose des lacets

Mise en crin

Pose de la toile d'embourrure

Rabattage

Piquage

Piqûre de crin animal

Mise en blanc

Pose ouate

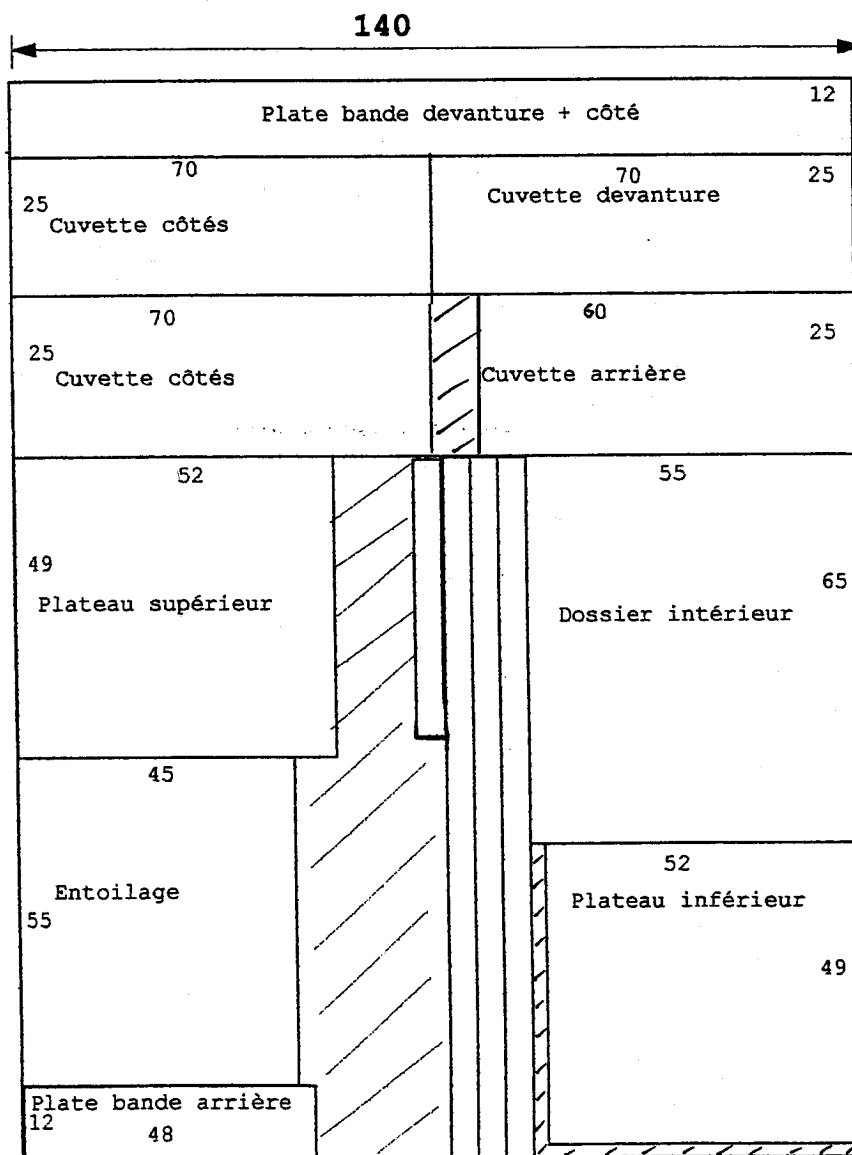
Finitions : couverture, galon.

CORRIGE et/ou BAREME

EXAMEN : CAP TAPISSERIE D'AMEUBLEMENT
EPREUVE : TECHNOLOGIE ET PREVENTION

C 2/3

4 - Réalisez le plan de coupe (à l'échelle 1/10) et calculez le métrage de tissu nécessaire pour réaliser la chauffeuse. **(6 points)**
 Les passepoils placés dans le sens chaîne ou trame sont possibles.



METRAGE UTILISE : 1,66 m






CORRIGE et/ou BAREME

EXAMEN : CAP tapisserie garniture - décor

EPREUVE : TECHNOLOGIE et PREVENTION

C 3/3

5 – Complétez la colonne « désignation » du catalogue d'échantillons de passementerie.

CATALOGUE D'ECHANTILLONS DE PASSEMENTERIE	
	Désignation
	
	
	
	
	

6 – Énoncez les contrôles de sécurité que vous devez effectuer avant de quitter votre atelier en fin de journée. (2.5 points)

Je vérifie que toutes les machines ne sont plus sous tension, (fer à repasser, scie à mousse, pistolet à colle, compresseur...), que l'arrivée d'air comprimé est fermée, que toutes les ouvertures sont fermées : fenêtres, portes, que la lumière est éteinte.