

DOSSIER TECHNIQUE

Une cliente vous passe la commande d'une chauffeuse Louis XV,

- le bois est apparent,
- la garniture est en traditionnel,
- le fond est à cuvette avec coussin,
- le dossier est garni sur entoilage.

Pour la finition, la cliente ne veut pas de clous mais une passementerie.

Le tissu est uni - en 140 cm de largeur utilisable.






Le relevé de mesures est le suivant :

ELEMENTS	HAUTEUR PROFONDEUR	LARGEUR
Cuvette – Devanture	25	70
Cuvette - Côté (2)	25	70
Cuvette – Arrière	25	60
Entoilage	55	45
Dossier intérieur	65	55
Plateau supérieur du coussin	49	52
Plateau inférieur du coussin	49	52
Plate bande devanture et côtés	12	140
Plate bande arrière	12	48
Passepoil avec raccords.	376	4

Groupement inter académique II	Session 2003	Sujet N° 20059
EXAMEN : CAP TAPISSERIE D'AMEUBLEMENT – GARNITURE - DECOR		
EPREUVE : TECHNOLOGIE PREVENTION		
Durée : 1 heure 30	Coefficient : 2	N° de page : S 1/ 3

QUESTIONS

- 1 – Citez plusieurs sortes de matériaux possible pour garnir des coussins. **(2 points)**
- 2 – Choisissez un matériau de rembourrage du coussin en adéquation avec la commande de la cliente. Justifiez votre choix. **(2 points)**
- 3 – Enumérez dans un ordre chronologique les différentes étapes de fabrication du dossier. **(5 points)**
- 4 - Réalisez le plan de coupe (à l'échelle 1/10) et calculez le métrage de tissu nécessaire pour réaliser la chauffeuse. **(6 points)**
- 5 – Complétez la colonne « désignation » du catalogue d'échantillons de passementerie. **(2, 5 points)**

CATALOGUE D'ECHANTILLONS DE PASSEMENTERIE	
	Désignation
	
	
	
	
	

- 6 – Enoncez les contrôles de sécurité que vous devez effectuer avant de quitter votre atelier en fin de journée. **(2.5 points)**

Les questions sont à rédiger sur une feuille de copie anonymable dans laquelle seront insérés les documents 2/3 et 3/3

EXAMEN : CAP TAPISSERIE D'AMEUBLEMENT – GARNITURE - DECOR	Sujet N° 20059
EPREUVE : TECHNOLOGIE– PREVENTION	Page S 2/3

METRAGE UTILISE :

EXAMEN : CAP TAPISSERIE D'AMEUBLEMENT - GARNITURE DECOR

EPREUVE : TECHNOLOGIE – PREVENTION

Sujet N° 20059

Page S 3/3