

Fabrication d'une pièce à la machine

Une paire de guêtre

- On met à votre disposition:
- 20 dm² de cuir à sellerie 3 – 3.5
 - 5 dm² de cuir 3 – 3.5 pour le renfort
 - 2 0 dm² de mousse 4 mm
 - 1 ml de ruban auto agrippant crochet et velours
 - 1 ml d'élastique de 50 mm
 - Un taquet mousse prédécoupé : 120 x 15 x 10
 - Une bande de cuir de 1.5 m pour le bord anglais
 - Du fil nylon 31 noir et blanc

Les gabarits de la guêtre et du renfort de guêtre

La feuille de nomenclature des pièces et le tableau de définition des coutures (feuille **S 2**)

Le plan avec la section pour le détail de montage des pièces (feuille **S 3**)

Le dessin coté des pièces (feuille **S 4**)

Le dessin coté de la guêtre (feuille **S 5**)

- Vous devez
- Débiter et tracer les pièces à l'aide du plan ou des gabarits.
 - Réaliser l'assemblage de la paire de guêtres

- *La pince sera réalisée en couture manuelle*

Une pièce réalisée sera mise à la disposition des candidats

Groupement inter académique II	Session 2003	Code 3 0324		
Examen et spécialité CAP Sellier Harnacheur				
Intitulé de l'épreuve Fabrication d'une pièce à la machine				
Type SUJET	Facultatif : date et heure	Durée 4 heures	Coefficient 4	N° de page / total S 1/ 5

Feuille de nomenclature (pour une guêtre)

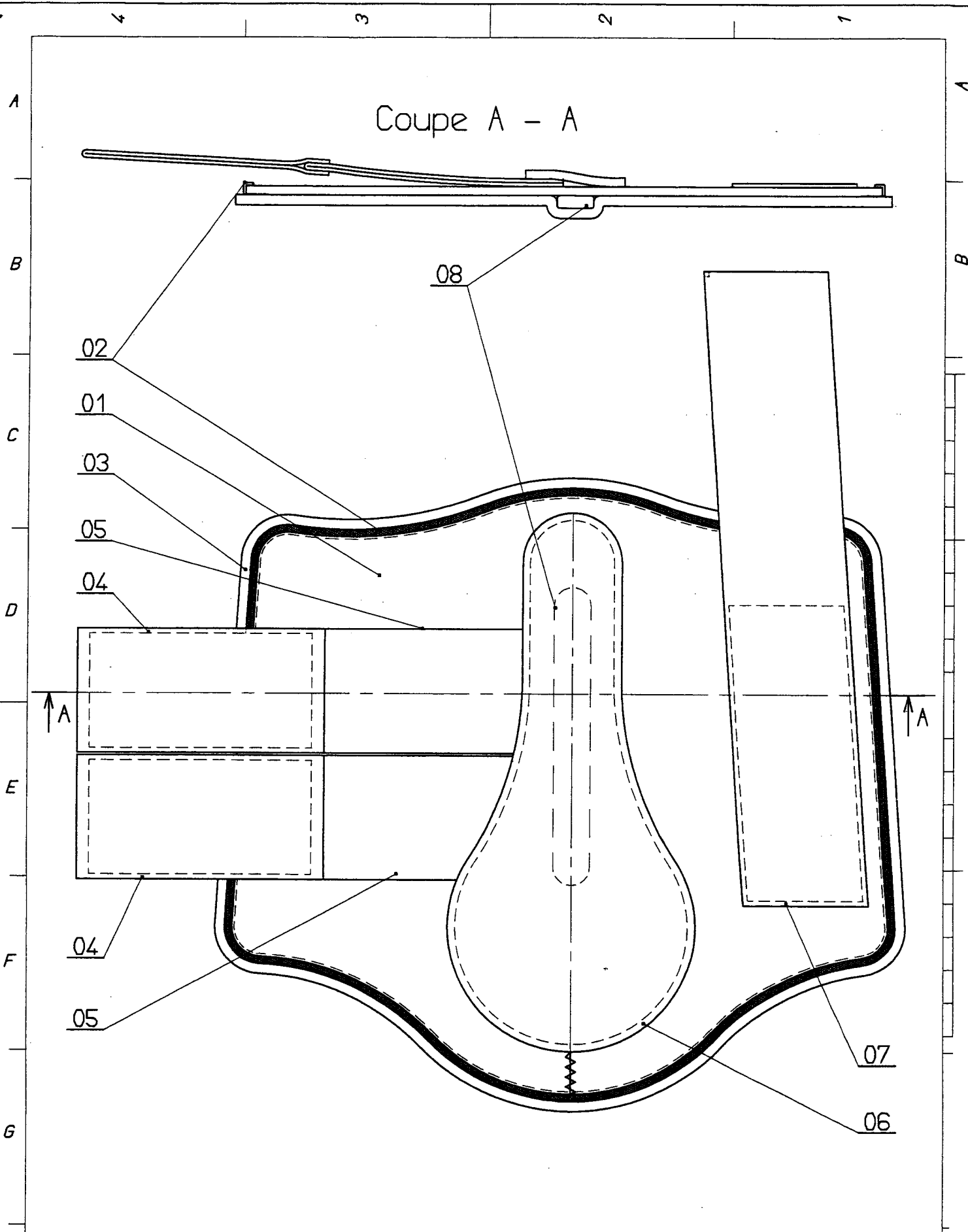
08	1	Taquet mousse	120 x 15 x 10 mm
07	1	Ruban auto agrippant crochet	250 mm x 50 mm
06	1	Renfort cuir	5 dm ²
05	2	Elastique	400 mm x 50 mm
04	2	Ruban auto agrippant velours	400 mm x 50 mm
03	1	Mousse	20 dm ²
02	1	Bord anglais	8 dm ²
01	1	Guêtre	20 dm ²
Rep	Nbr	Désignation	QTé
GUETRE			

Tableau de définition des coutures

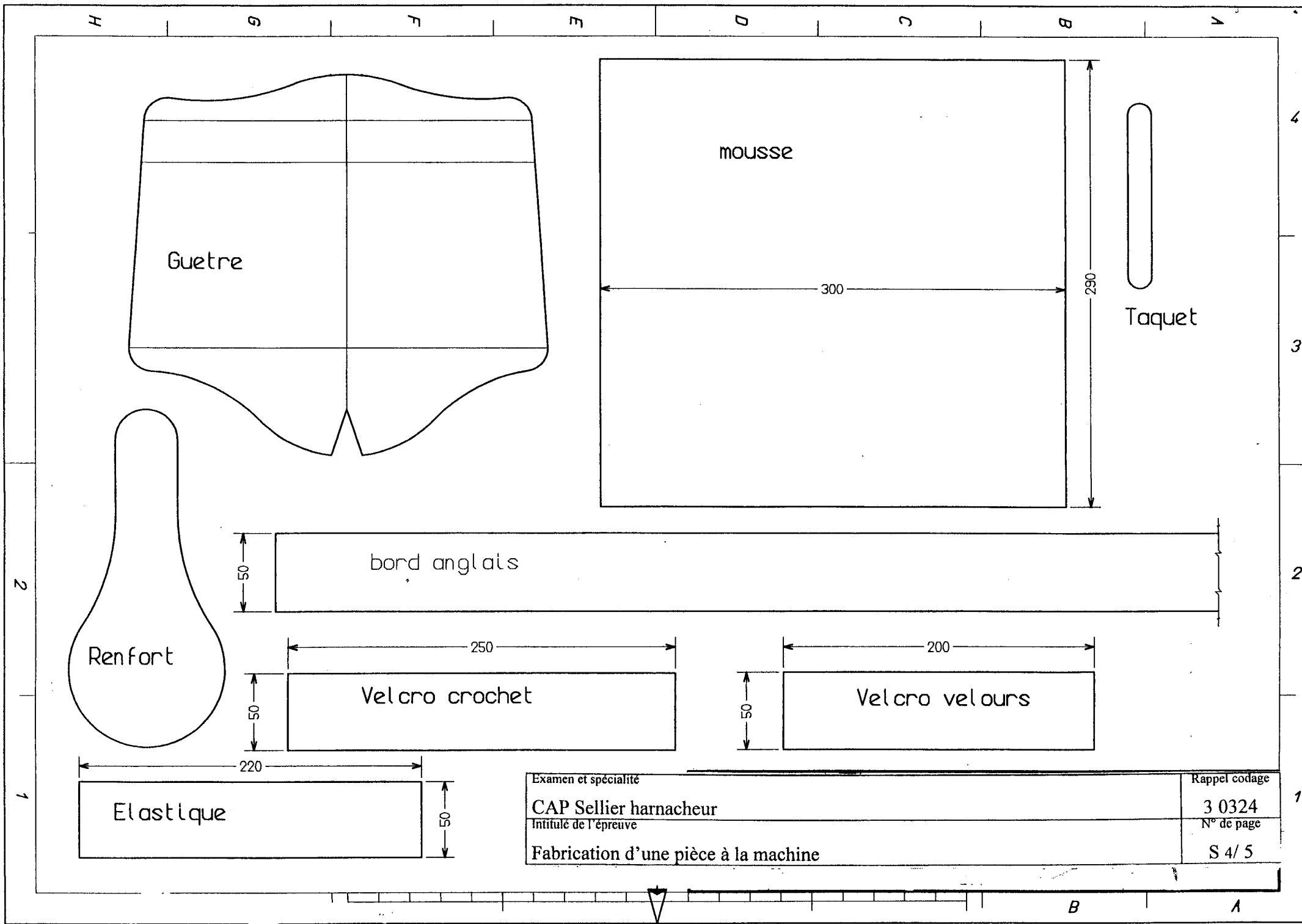
Assemblage	Nature du fil	Nbr de points / cm	Couleur	
			Dessus	Dessous
Renfort / guêtre	Nylon 31	3 pts / cm	Blanc	Noir
Velcro / élastique	Nylon 31	3 pts / cm	Noir	Noir
Velcro / guêtre	Nylon 31	3 pts / cm	Noir	Noir
Guêtre / mousse	Nylon 31	2 pts / cm	Blanc	Noir

Examen et spécialité	Rappel codage
CAP Sellier harnacheur	3 0324
Intitulé de l'épreuve	N° de page
Fabrication d'une pièce à la machine	S 2/ 5

Coupe A - A



Examen et specialité	Rappel codage
CAP Sellier harnacheur	3 0324
Intitulé de l'épreuve	N° de page
Fabrication d'une pièce à la machine	S 3/ 5



Guetre

mousse

Taquet

bord anglais

Renfort

Velcro crochet

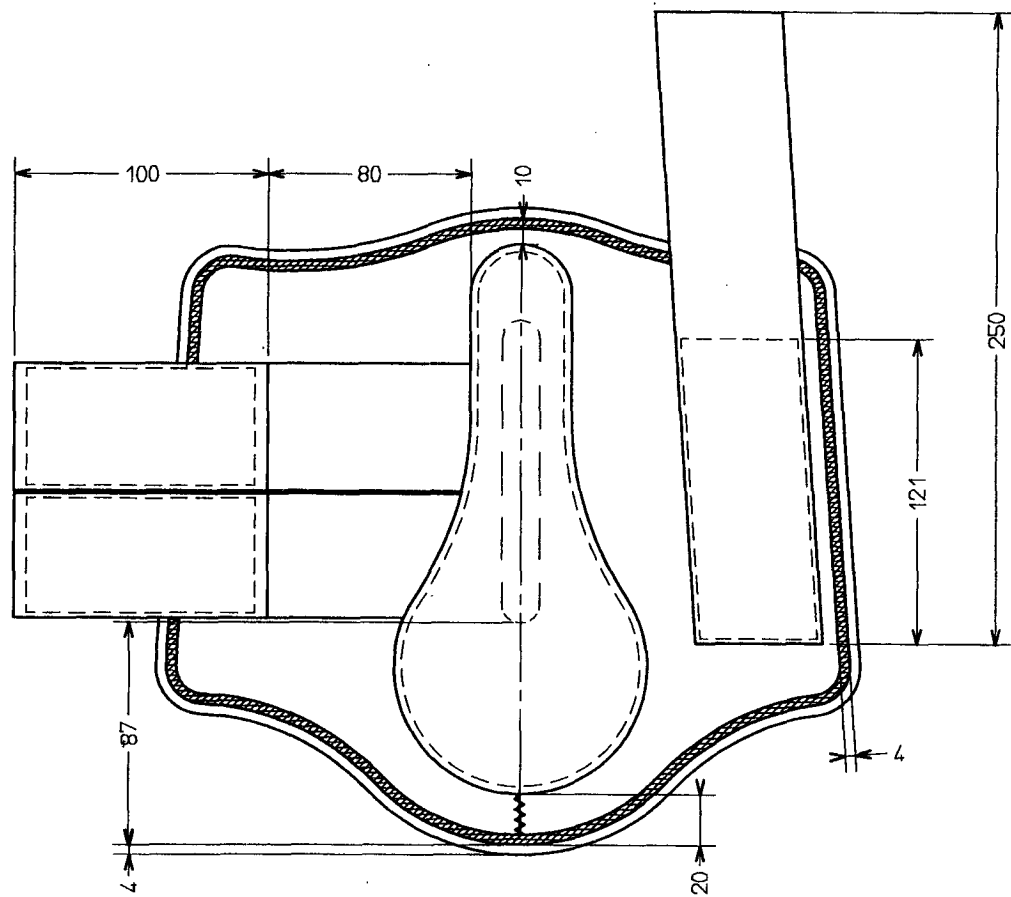
Velcro velours

Elastique

Examen et spécialité	Rappel codage
CAP Sellier harnacheur	3 0324
Intitulé de l'épreuve	N° de page
Fabrication d'une pièce à la machine	S 4/ 5

B

A



Examen et spécialité

CAP Sellier harnacheur

Intitulé de l'épreuve

Fabrication d'une pièce à la machine

Rappel codage

3 0324

N° de page

S 5/5