

# **CAP Agent d'Entreposage et de Messagerie**

## **EP1 – Phase 1**

### **TESTS THEORIQUES**

CAP Agent d'Entreposage et de Messagerie	218ydo3
EP1 - Phase 1 – Tests théoriques	1/1

## TEST DE CONNAISSANCES N°1


**Vous répondrez aux questions en cochant la case de votre choix. Certaines questions peuvent amener plusieurs réponses : cochez alors les cases correspondantes . Seules les réponses exactes seront prises en compte.**

1 - C.A.C.E.S. signifie :

- certificat d'aptitude à la conduite d'engin en sécurité
- certificat d'autorisation à la conduite d'engin en sécurité
- certificat d'aptitude à la conduite en sécurité
- certificat d'autorisation à la conduite en situation

A	<input type="checkbox"/>
B	<input type="checkbox"/>
C	<input type="checkbox"/>
D	<input type="checkbox"/>

2 - Que signifie ce pictogramme :



- toxique
- comburant
- explosif
- corrosif

A	<input type="checkbox"/>
B	<input type="checkbox"/>
C	<input type="checkbox"/>
D	<input type="checkbox"/>

3 - L'employeur demande au cariste de déposer une charge hors de la zone de manutention. En réalisant ce travail, le cariste blesse une personne. Quelles seront les responsabilités engagées ?

- responsabilité civile du cariste
- responsabilité civile de l'employeur
- responsabilité pénale du cariste
- responsabilité pénale de l'employeur

A	<input type="checkbox"/>
B	<input type="checkbox"/>
C	<input type="checkbox"/>
D	<input type="checkbox"/>

4 - Le circuit hydraulique du chariot élévateur en porte à faux à conducteur porté comporte :

- une pompe
- des vérins de levage
- un réservoir d'électrolyte
- des vérins d'inclinaison

A	<input type="checkbox"/>
B	<input type="checkbox"/>
C	<input type="checkbox"/>
D	<input type="checkbox"/>

5 - Que signifie ce pictogramme :



- ne pas utiliser de chaînes
- emplacement des élingues si levage
- charge lourde

A	<input type="checkbox"/>
B	<input type="checkbox"/>
C	<input type="checkbox"/>

CAP Agent d'Entreposage et de Messagerie	218ydo3
EP1 - Phase 1 - Test n° 1	1/3

6 - Pour descendre une pente en charge, vous devez :

- vous faire guider
- descendre en marche avant
- descendre en marche arrière
- débrayer

A	<input type="checkbox"/>
B	<input type="checkbox"/>
C	<input type="checkbox"/>
D	<input type="checkbox"/>

7 - Quand un cariste quitte son chariot, il doit :

- retirer la clé de contact
- poser les fourches au sol
- laisser la charge sur les fourches
- faire les vérifications nécessaires

A	<input type="checkbox"/>
B	<input type="checkbox"/>
C	<input type="checkbox"/>
D	<input type="checkbox"/>

8 - En abordant une porte va-et-vient , le cariste doit :

- ralentir et passer
- marquer un temps d'arrêt
- ne pas modifier sa conduite
- actionner l'avertisseur sonore

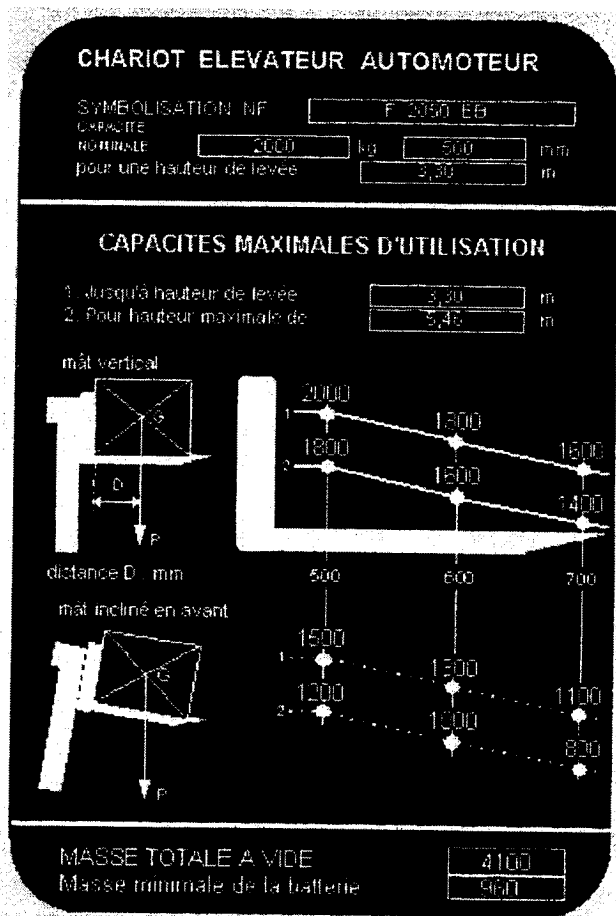
A	<input type="checkbox"/>
B	<input type="checkbox"/>
C	<input type="checkbox"/>
D	<input type="checkbox"/>

9 - Sur la plaque de charge du chariot est inscrite la mention suivante :  
F 1250 EB. Que signifie 1250 ?

- charge nominale de 1200 kg avec un centre de gravité de la charge à 500 mm du talon des fourches
- charge nominale de 1250 kg avec un centre de gravité de la charge à 500 mm du talon des fourches
- charge nominale de 1250 kg

A	<input type="checkbox"/>
B	<input type="checkbox"/>
C	<input type="checkbox"/>

10 - Voici la plaque de charge d'un chariot. Le cariste peut-il prélever les charges suivantes :



- mât vertical, une palette 1m x 1m de 2000 kg à 5 mètres
- mât vertical, une palette de 1,40m x 1,40m de 1000 kg à 5,50 mètres
- mât incliné, une palette de 1,20m x 1,20m de 900 kg à 5 mètres

<b>A</b>	
<b>B</b>	
<b>C</b>	

## TEST DE CONNAISSANCES N°2

**Vous répondrez aux questions en cochant la case de votre choix. Certaines questions peuvent amener plusieurs réponses : cochez alors les cases correspondantes . Seules les réponses exactes seront prises en compte.**

1 - Pour obtenir le C.A.C.E.S. il faut que le conducteur :

- passe une visite médicale
- réalise un test théorique
- réalise un test pratique
- ait son permis de conduire B

A	<input type="checkbox"/>
B	<input type="checkbox"/>
C	<input type="checkbox"/>
D	<input type="checkbox"/>

2 - Que signifie ce pictogramme :



- passage piétons
- zone réservée aux piétons
- protection obligatoire du corps
- zone interdite aux véhicules de manutention

A	<input type="checkbox"/>
B	<input type="checkbox"/>
C	<input type="checkbox"/>
D	<input type="checkbox"/>

3 - Une fois le C.A.C.E.S. obtenu, le cariste peut conduire dans n'importe quelle entreprise :

- vrai
- faux

A	<input type="checkbox"/>
B	<input type="checkbox"/>

4 - Le circuit hydraulique permet d'alimenter différents organes de mon chariot :

- vérin d'inclinaison
- vérin d'élévation
- moteur
- direction assistée

A	<input type="checkbox"/>
B	<input type="checkbox"/>
C	<input type="checkbox"/>
D	<input type="checkbox"/>

5 - Que signifie ce pictogramme :



- résiste à l'eau
- fragile
- craint l'humidité

A	<input type="checkbox"/>
B	<input type="checkbox"/>
C	<input type="checkbox"/>

6 - Quel est l'attachelement le plus adapté à la manutention de billes de bois :

- un éperon
- une potence
- une rallonge de fourche
- un presseur de charge

A	<input type="checkbox"/>
B	<input type="checkbox"/>
C	<input type="checkbox"/>
D	<input type="checkbox"/>

7 - Pour faire le plein de carburant d'un chariot automoteur de manutention thermique, le cariste doit :

- ramener le chariot à son parking
- laisser le moteur tourner
- couper obligatoirement le moteur

A	<input type="checkbox"/>
B	<input type="checkbox"/>
C	<input type="checkbox"/>

8 - Il y a un risque de basculement du chariot quand :

- le chariot roule trop vite dans un virage
- je circule avec les fourches en position haute
- je circule dans une allée étroite
- ma vitesse est trop grande sur un sol irrégulier

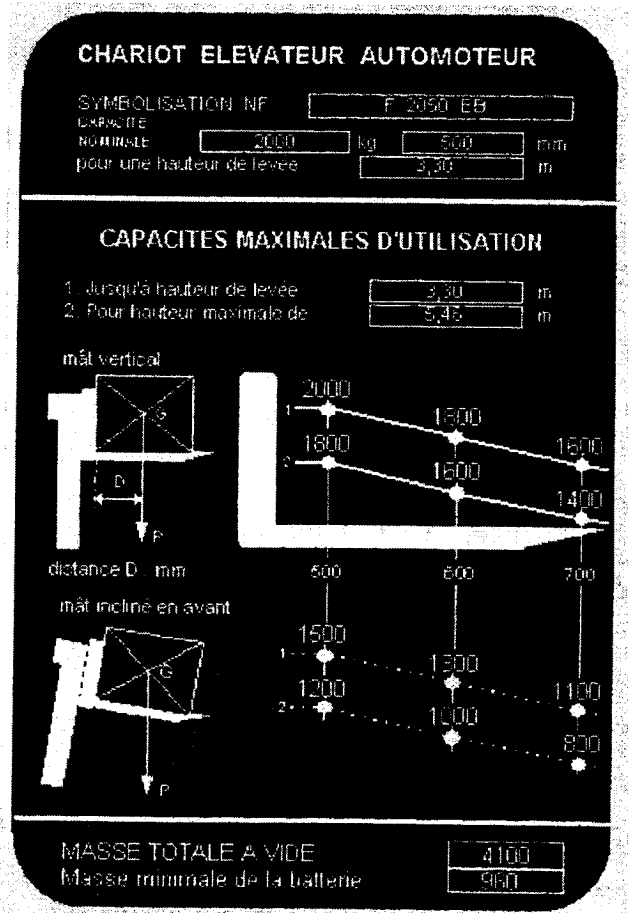
A	<input type="checkbox"/>
B	<input type="checkbox"/>
C	<input type="checkbox"/>
D	<input type="checkbox"/>

9 - Sur la plaque de charge du chariot est inscrite la mention suivante : F 2050 EB. Est-ce :

- un chariot frontal électrique à pneumatiques
- un chariot frontal électrique à bandages
- un chariot rétractable électrique à bandages
- un chariot frontal à gaz à bandages

A	<input type="checkbox"/>
B	<input type="checkbox"/>
C	<input type="checkbox"/>
D	<input type="checkbox"/>

10 - Voici la plaque de charge d'un chariot. Le cariste peut-il prélever les charges suivantes :



- une palette de 1m x 1m de 1100 kg à 4 mètres mât incliné
- une palette 1,20m x 1,20m de 1700 kg à 4 mètres mât vertical
- une palette 1,40m x 1,40m de 1000 kg à 5,80 mètres mât vertical

<b>A</b>	
<b>B</b>	
<b>C</b>	

CAP Agent d'Entreposage et de Messagerie	218ydo3
EP1 - Phase 1 – Test n° 2	<b>3/3</b>

## TEST DE CONNAISSANCES N°3


**Vous répondrez aux questions en cochant la case de votre choix. Certaines questions peuvent amener plusieurs réponses : cochez alors les cases correspondantes . Seules les réponses exactes seront prises en compte.**

1 - La durée de validité du C.A.C.E.S. est de :

- 3 ans
- 5 ans
- 8 ans
- 10 ans

A	<input type="checkbox"/>
B	<input type="checkbox"/>
C	<input type="checkbox"/>
D	<input type="checkbox"/>

2 - Que signifie ce pictogramme :



- toxique
- inflammable
- nocif
- corrosif

A	<input type="checkbox"/>
B	<input type="checkbox"/>
C	<input type="checkbox"/>
D	<input type="checkbox"/>

3 - Pour conduire sur la voie publique un chariot automoteur de manutention à conducteur porté dont la vitesse est limitée à 25 km/h, le cariste doit posséder le permis de conduire des véhicules automobiles :

- vrai
- faux

A	<input type="checkbox"/>
B	<input type="checkbox"/>


4 – Lors des opérations courantes d'entretien sur un chariot électrique, quel produit doit être utilisé pour compléter le niveau de batterie :

- l'électrolyte
- l'eau déminéralisée
- l'acide chlorhydrique
- l'eau minérale

A	<input type="checkbox"/>
B	<input type="checkbox"/>
C	<input type="checkbox"/>
D	<input type="checkbox"/>



5 - Que signifie ce pictogramme :



- bas
- haut
- ne pas soulever
- soulever verticalement

A	<input type="checkbox"/>
B	<input type="checkbox"/>
C	<input type="checkbox"/>
D	<input type="checkbox"/>

6 - Le cariste ne doit pas charger une remorque de camion quand :

- le conducteur du camion n'est pas présent
- la remorque est dételée
- la remorque n'est pas calée
- le chariot électrique n'est pas disponible

A	<input type="checkbox"/>
B	<input type="checkbox"/>
C	<input type="checkbox"/>
D	<input type="checkbox"/>

7 - Si une charge haute gêne la visibilité à l'avant, le cariste doit :

- lever les fourches pour voir au dessous
- circuler en marche arrière
- faire monter un collègue pour qu'il lui signale les obstacles
- dans une montée, se faire guider par un collègue

A	<input type="checkbox"/>
B	<input type="checkbox"/>
C	<input type="checkbox"/>
D	<input type="checkbox"/>

8 - Pour décharger un camion le cariste doit emprunter une passerelle, le cariste doit :

- ne pas modifier sa conduite
- ralentir
- descendre de son chariot pour vérifier l'état et les fixations de la passerelle avant de l'emprunter.

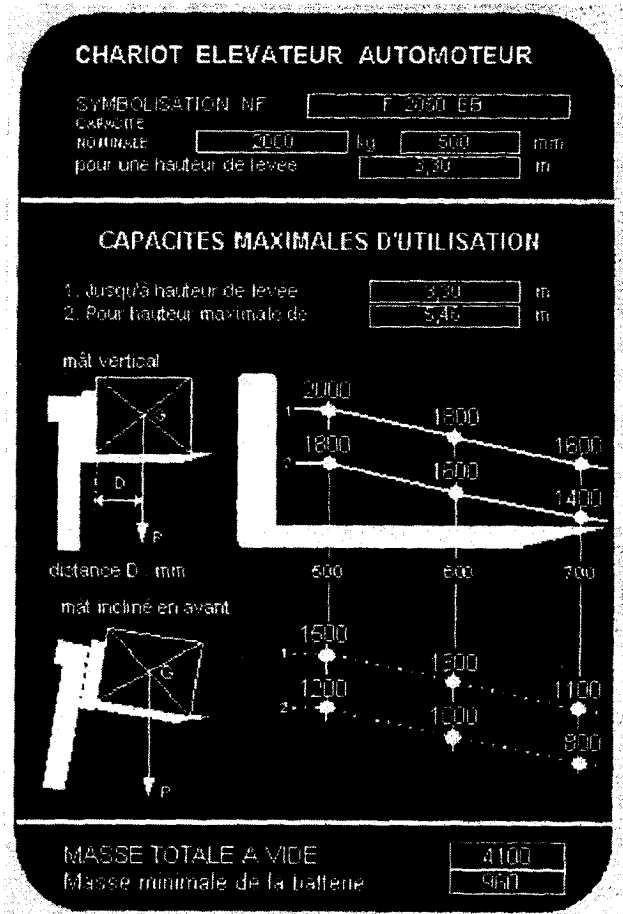
A	<input type="checkbox"/>
B	<input type="checkbox"/>
C	<input type="checkbox"/>

9 - Sur la plaque de charge du chariot est inscrite la mention suivante : F 2050 EB. Que signifie 2050 ?

- charge nominale 2050 kg
- charge nominale 2000 kg avec un centre de gravité de la charge à 500 mm du talon des fourches
- charge nominale 2050 kg avec un centre de gravité de la charge à 500 mm du talon des fourches

A	<input type="checkbox"/>
B	<input type="checkbox"/>
C	<input type="checkbox"/>

10 - Voici la plaque de charge d'un chariot. Le cariste peut-il prélever les charges suivantes :



- une palette de 1m x 1m de 1000 kg à 5,80 mètres mât vertical
- une palette 1,40 m x 1,40 m de 1000 kg à 3 mètres mât incliné
- une palette 1,40m x 1,40m de 1700 kg à 3 mètres mât vertical

A	
B	
C	

## TEST DE CONNAISSANCES N°4

**Vous répondrez aux questions en cochant la case de votre choix. Certaines questions peuvent amener plusieurs réponses : cochez alors les cases correspondantes . Seules les réponses exactes seront prises en compte.**

1 - Le cariste peut utiliser les chariots dans l'entreprise où il travaille à condition qu'il ait son C.A.C.E.S. :

- vrai
- Faux

A	<input type="checkbox"/>
B	<input type="checkbox"/>

2 - Que signifie ce pictogramme :



- stationnement de véhicules de manutention autorisé
- danger, véhicules de manutention
- interdit aux véhicules de manutention

A	<input type="checkbox"/>
B	<input type="checkbox"/>
C	<input type="checkbox"/>

3 - Un cariste doit posséder le permis de conduire des véhicules automobiles pour conduire sur la voie publique :

- un chariot dont la vitesse est de 25 km/h maximum
- un chariot dont la vitesse est de 50 km/h maximum
- un chariot dont le poids total en charge est supérieur à 3 500 kg

A	<input type="checkbox"/>
B	<input type="checkbox"/>
C	<input type="checkbox"/>

4 - Il est nécessaire de recharger la batterie d'un chariot électrique lorsque la capacité utilisable devient inférieure à :

- 20%
- 40%
- 60%
- 80%

A	<input type="checkbox"/>
B	<input type="checkbox"/>
C	<input type="checkbox"/>
D	<input type="checkbox"/>

5 - Que signifie ce pictogramme :



- charge d'un poids total de 2000 kg
- charge à soulever par le haut
- limite de stockage

A	<input type="checkbox"/>
B	<input type="checkbox"/>
C	<input type="checkbox"/>

6 - Pour manutentionner une charge avec deux chariots, il faut :

- prendre seul la décision
- faire impérativement la manœuvre en marche avant
- fixer impérativement un rétroviseur sur les chariots
- faire appel à un chef de manœuvre

A	<input type="checkbox"/>
B	<input type="checkbox"/>
C	<input type="checkbox"/>
D	<input type="checkbox"/>

7 - Pour augmenter la stabilité du chariot , le cariste doit :

- rouler avec la charge la plus horizontale possible
- prendre la charge sur le bout des fourches
- rouler le mât incliné sur l'arrière
- rouler plus vite qu'à vide

A	<input type="checkbox"/>
B	<input type="checkbox"/>
C	<input type="checkbox"/>
D	<input type="checkbox"/>

8 - Si un chariot circule sur la voie publique :

- il doit avoir un rétroviseur
- son conducteur doit respecter les panneaux du code de la route
- avoir un éclairage à l'avant et une signalisation à l'avant et à l'arrière

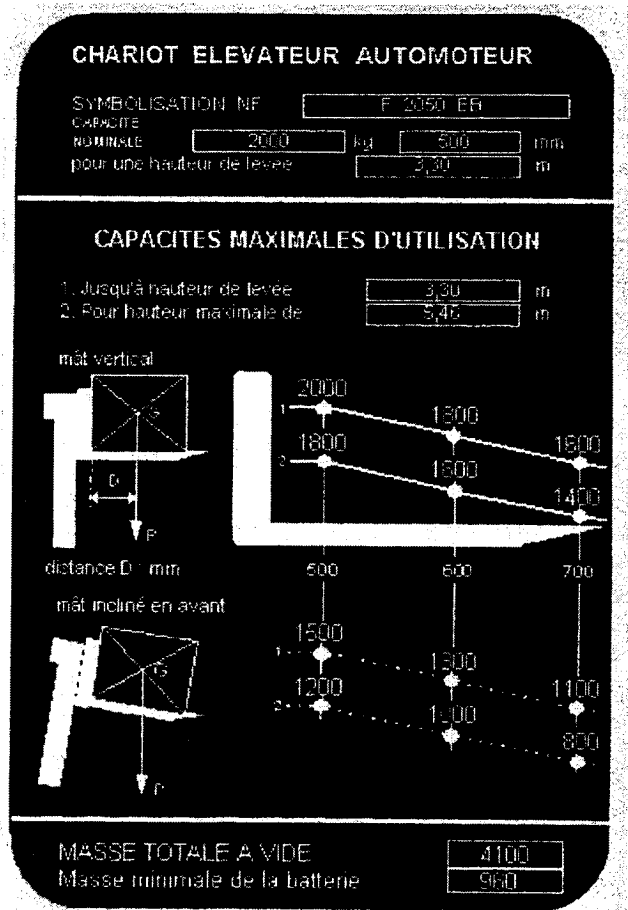
A	<input type="checkbox"/>
B	<input type="checkbox"/>
C	<input type="checkbox"/>

9 - Sur la plaque de charge du chariot est inscrite la mention suivante : F 1250 DP. Que signifie DP ?

- chariot électrique à pneumatiques
- chariot diesel à pneumatiques
- chariot diesel à bandages
- chariot à gaz à pneumatiques

A	<input type="checkbox"/>
B	<input type="checkbox"/>
C	<input type="checkbox"/>
D	<input type="checkbox"/>

10 - Voici la plaque de charge d'un chariot. Le cariste peut-il prélever les charges suivantes :



- mât vertical, une palette de 1,40m x 1,40m de 1300 kg à 4,5 mètres
- mât vertical, une palette de 1,20m x 1,20m de 800 kg à 5,70 mètres
- mât incliné, une palette de 1m x 1m de 1400 kg à 3,20 mètres

<b>A</b>	
<b>B</b>	
<b>C</b>	

CAP Agent d'Entreposage et de Messagerie	218yd03
EP1 - Phase 1 – Test n° 4	3/3

## TEST DE CONNAISSANCES N°5

**Vous répondrez aux questions en cochant la case de votre choix. Certaines questions peuvent amener plusieurs réponses : cochez alors les cases correspondantes . Seules les réponses exactes seront prises en compte.**

1 - Le chef d'entreprise peut à tout moment retirer l'autorisation de conduite à l'un de ses caristes :

- vrai
- Faux

A	<input type="checkbox"/>
B	<input type="checkbox"/>

2 - Que signifie ce pictogramme :



- ne pas toucher
- interdit aux piétons
- entrée interdite aux personnes non autorisées
- protection obligatoire des mains

A	<input type="checkbox"/>
B	<input type="checkbox"/>
C	<input type="checkbox"/>
D	<input type="checkbox"/>

3 - Un cariste emprunte sans aucune autorisation, un dimanche, un chariot élévateur pour réaliser des travaux personnels. Ce chariot n'est pas homologué pour circuler sur la voie publique. Au cours d'une manœuvre, le cariste blesse une personne. Quelles seront les responsabilités engagées ?

- la responsabilité civile du cariste
- la responsabilité civile de l'employeur
- la responsabilité pénale du cariste
- la responsabilité pénale de l'employeur

A	<input type="checkbox"/>
B	<input type="checkbox"/>
C	<input type="checkbox"/>
D	<input type="checkbox"/>

4 - Les vérins d'inclinaison sont :

- à double effet
- à simple effet
- servent à lever la charge

A	<input type="checkbox"/>
B	<input type="checkbox"/>
C	<input type="checkbox"/>

5 - Que signifie ce pictogramme :



- prise latérale non autorisée
- ne pas faire rouler
- passage de fourche interdit

A	<input type="checkbox"/>
B	<input type="checkbox"/>
C	<input type="checkbox"/>

6 - Pour prendre et déposer des charges dans un palettier (allées de circulation étroites), le cariste choisira de préférence :

- un chariot élévateur frontal thermique diesel
- un chariot élévateur à mât rétractable
- un chariot élévateur frontal électrique
- un chariot élévateur frontal thermique à gaz

A	<input type="checkbox"/>
B	<input type="checkbox"/>
C	<input type="checkbox"/>
D	<input type="checkbox"/>

7 - Le cariste peut transporter une autre personne sur son chariot

- parce que la distance est grande
- il y a un siège prévu pour une autre personne et une poignée pour se tenir
- la vitesse de déplacement est lente, et sans aucun danger
- il circule sans charge

A	<input type="checkbox"/>
B	<input type="checkbox"/>
C	<input type="checkbox"/>
D	<input type="checkbox"/>

8 - Pour franchir une voie ferrée à niveau, le cariste doit :

- rouler plus vite pour ne pas sentir les irrégularités
- traverser les voies à 45°
- monter les fourches le plus haut possible pour bien voir le parcours
- réduire sa vitesse pour ne pas déséquilibrer sa charge

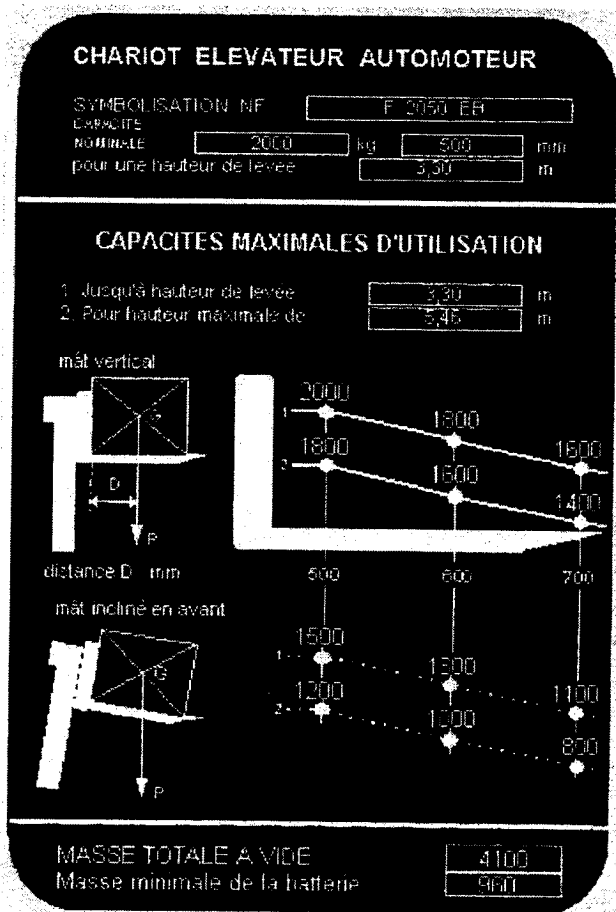
A	<input type="checkbox"/>
B	<input type="checkbox"/>
C	<input type="checkbox"/>
D	<input type="checkbox"/>

9 - Sur la plaque de charge du chariot est inscrite la mention suivante : F 1250 ZB. Que signifie ZB :

- chariot électrique à bandages
- chariot diesel à bandages
- chariot à gaz à bandages
- chariot à gaz à pneumatiques

A	<input type="checkbox"/>
B	<input type="checkbox"/>
C	<input type="checkbox"/>
D	<input type="checkbox"/>

10 – Voici la plaque de charge d'un chariot. Le cariste peut-il prélever les charges suivantes :



- mât incliné, palette de 1,40m x 1,40m de 700 kg à 5 mètres
- mât vertical, une palette de 1,20m x 1,20m de 1000 kg à 5,60 mètres
- mât vertical, une palette de 1,20m x 1,20m de 1900 kg à 3 mètres

<b>A</b>	
<b>B</b>	
<b>C</b>	

CAP Agent d'Entreposage et de Messagerie	218yd03
EP1 - Phase 1 – Test n° 5	<b>3/3</b>