

DANS CE CADRE

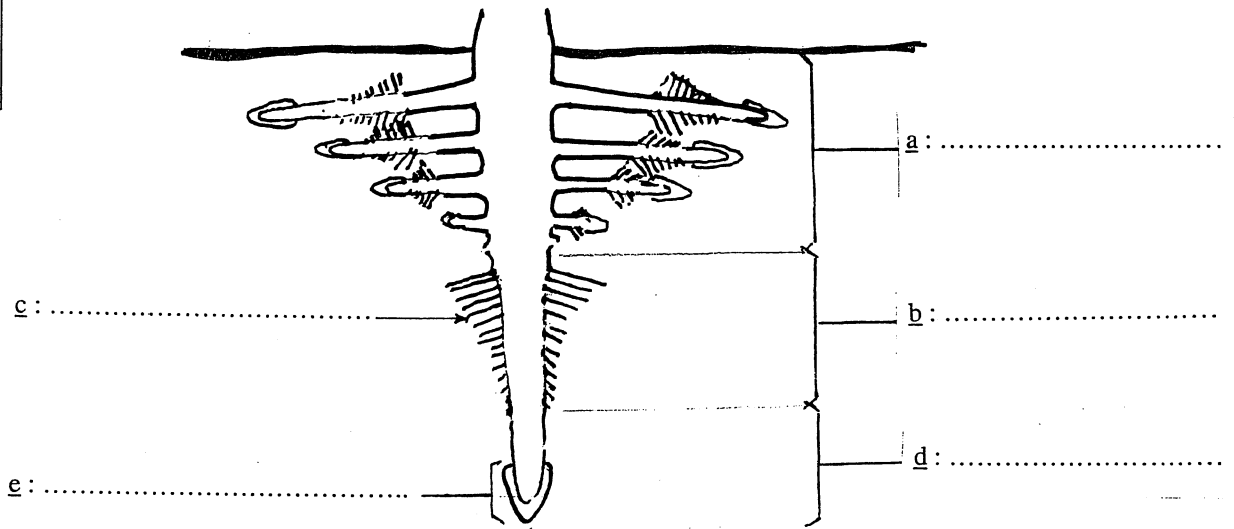
Académie :	Session :
Examen :	Série :
Spécialité/option :	Repère de l'épreuve :
Epreuve/sous épreuve :	
NOM	
<small>(en majuscule, suivi s'il y a lieu, du nom d'épouse)</small>	
Prénoms :	n° du candidat
Né(e) le :	
<small>(le numéro est celui qui figure sur la convocation ou liste d'appel)</small>	

NE RIEN ÉCRIRE

### BOTANIQUE : 10 points

#### Question n° 1 :

- Complétez le schéma de la morphologie externe de la racine : (0,25 point x 5)



- Donnez le rôle des 4 zones suivantes : (0,5 point x 4)

- a) .....
- b) .....
- d) .....
- e) .....

**NE RIEN INSCRIRE DANS CE CADRE**

**Question n° 2 :** Observez ces 3 schémas (ils représentent 3 organes) :

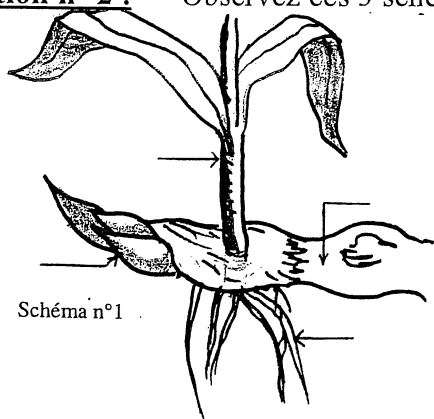


Schéma n°1

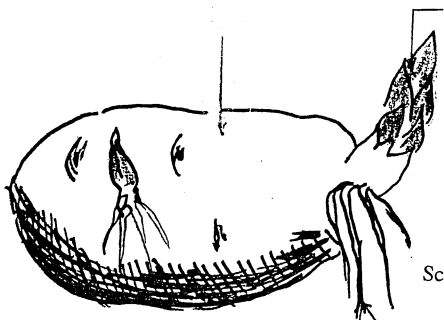


Schéma n°3

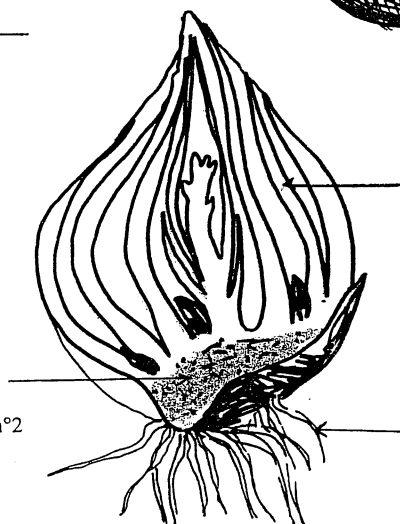


Schéma n°2

- Légendez ces 3 schémas. (0,25 point x 11)
- Donnez le nom pour chacun de ces organes : (0,5 point x 3)

- schéma n° 1 : .....
- schéma n° 2 : .....
- schéma n° 3 : .....

Dans quelle partie se rangent les 3 organes des schémas n°1, 2, 3 : entourez **la** bonne réponse. (1 point)

Racines	Tiges aériennes	Racines adventives	Tiges souterraines
---------	-----------------	--------------------	--------------------

**NE RIEN INSCRIRE DANS CE CADRE**

- Donnez les 2 rôles communs à ces 3 organes ? (0,5 point x 2)

- .....
- .....

**Question n° 3 : (0,5 point)**

Citez un autre organe important pour la reproduction de la plante :

.....


**NE RIEN INSCRIRE DANS CE CADRE**

**RECONNAISSANCE DES VEGETAUX (20 points)**

Complétez les 2 tableaux ci-dessous :

Photo N°	Nom latin (0.5 point)	Nom français (0.5 point)
1		
2		
3		
4		
5		
6		
7		
8		
9		
10		
11		
12		
13		
14		
15		

Photo N°	Nom latin (0.25 point)	Nom français (0.25 point)	Famille (0.5 point)
16			
17			
18			
19			
20			



1



2



3



4



5



6



7



8



9



10



11



12



13




14




15



16



17



18



19



20

**NE RIEN INSCRIRE DANS CE CADRE**

**Epreuve de technologie**

Question n°1 :       quels sont les 3 styles principaux utilisés en fleuristerie ?

-  
-  
-

évaluation :	réponse complète	= 1,5 point
	réponse incomplète ou fausse	= 0 point

Question n° 2       citez 4 pièces de deuil réalisables sur le même support.

-  
-  
-  
-

évaluation :	réponse juste	=0,25 point
	réponse complète	= 1 point

question n° 3       quel arrosage conseillerez vous à votre client pour les végétaux suivants?

- le capillaire
- le caoutchouc
- le kalankoë

évaluation :	réponse complète	=1,50 point
	0,50 point par symbole correct	=__ point

**NE RIEN INSCRIRE DANS CE CADRE**

question n° 4                      expliquez ce qu'est le taux d'hygrométrie, avec quoi le mesure-t-on ?

---

---

évaluation :	réponse complète	= 2 points
	0,50 point par symbole correct	= ___ point

Question n° 5                      Prévention des accidents.

1/ a/ Donner un exemple de matériel pouvant occasionner des brûlures.

---

b/ compléter le tableau :

Degré de brûlure	Comment reconnaître la brûlure
1 <sup>er</sup> degré	
2eme degré	
3eme degré	

**NE RIEN INSCRIRE DANS CE CADRE**

C/ quels sont les premiers soins à donner pour une brûlure ?

---

---

évaluation :	réponse complète	=2,50 point
	0,50 point par symbole correct	=__ point

Question n° 6	citez 2 plantes bulbeuses =	-
		-
	2 plantes herbacées =	-
		-
	2 plantes ligneuses =	-
		-

évaluation :	réponse complète	=1,50 point
	0,25 point par symbole correct	=__ point