

TEST DE CONNAISSANCES n° 1 - CORRIGÉ

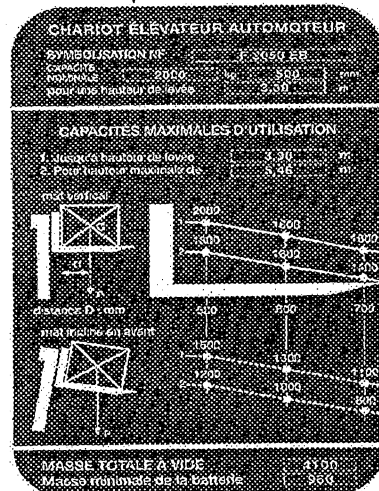
Vous devez répondre aux questions en cochant la case correspondant à la bonne réponse. Certaines questions peuvent entraîner plusieurs réponses valables : cochez alors les cases correspondantes. Seules les réponses totalement exactes seront prises en compte.

1 - A chaque prise de poste (au sol), la cariste contrôle :	
a - L'état des pneumatiques	X
b - La pression hydraulique	
c - La symétrie des fourches	X
d - Les différents niveaux	X

2 - L'utilisation d'un équipement auxiliaire (pince, éperon, rallonge etc.)	
a - Augmente la capacité du chariot	
b - Diminue la capacité du chariot	X
c - Oblige la modification du contre poids	
d - Permet la manutention de charges spécifiques	X

3 - Pour mettre en charge une batterie je dois :	
a - M'assurer du niveau d'électrolyte	X
b - Choisir n'importe quel chargeur	
c - Vérifier la mise sous tension du chargeur	X
d - Faire, si nécessaire, le complément avec de l'eau minérale	

4 - La plaque de charge ci-dessous me permet d'affirmer que:




a - Je peux gerber, mât incliné en avant, une charge (1,40 m x 1,40 m) à une hauteur de 3,60 m pesant 900 kg	
b - La capacité nominale de mon chariot est de 2000 kg	X
c - Je peux lever, mât vertical, une charge de 1600 kg mesurant 1,20 m de coté à une hauteur de 5,46 m	X
d - Je peux gerber, mât vertical, une charge de 1800 kg (1,00 m x 1,00m) à une hauteur de 5,50 m	X


5 - Pour une charge de 1,80 m, la longueur minimum des fourches doit être de :	
a - 900 mm	
b - 1200 mm	X
c - 1800 mm	
d - 1000 mm	

6 - Quelle(s) situation(s) présente(nt) un risque potentiel	
a - Circulation en pente	X
b - Circulation mât incliné en avant	X
c - Circulation mât incliné en arrière	
d - Chargement de véhicule	X

7 - Avant tout chargement par l'arrière d'un véhicule, je dois :	
a - M'assurer de la présence du chauffeur	
b - Vérifier le calage du véhicule	X
c - Vérifier l'état du plancher	X
d - M'assurer du poids à vide de mon chariot	

8 - Pour le changement d'un bouteille de gaz GPL je dois :	
a - Couper le contact du chariot avant la fermeture de la bouteille	
b - Fermer la bouteille afin de purger le circuit et le moteur calé de lui même	X
c - Ouvrir la nouvelle bouteille au maximum afin d'avoir le meilleur débit de gaz	
d - Ouvrir la bouteille d'un quart de tour seulement	X

9 - Ce pictogramme m'indique que la marchandise :	
a - Craint le soleil	
b - Craint les UV	
c - Craint la chaleur	X
d - Son centre de gravité	

10 - Ce panneau de signalisation (de couleur bleue) m'indique	
a - Passage interdit aux piétons	
b - Passage obligatoire pour piétons	X
c - Protection obligatoire du corps	
d - Passage protégé	