

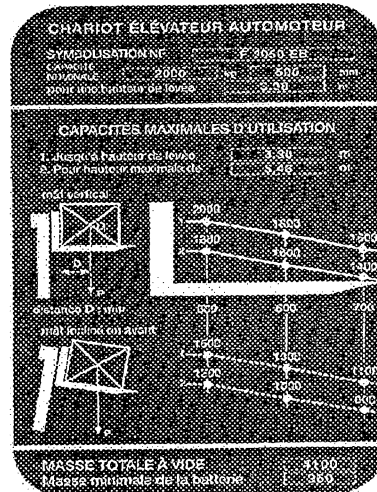
TEST DE CONNAISSANCES n° 2 - CORRIGÉ

Vous devez répondre aux questions en cochant la case correspondant à la bonne réponse. Certaines questions peuvent entraîner plusieurs réponses valables : cochez alors les cases correspondantes. Seules les réponses totalement exactes seront prises en compte.

1 - A chaque prise de poste (au poste de conduite), le ou la cariste contrôle :	
a - L'horamètre	X
b - Le réglage du siège	X
c - Les différents voyants	X
d - Les niveaux d'huile	X

2 - Pour conduire un chariot automoteur à conducteur porté, il faut	
a - Avoir une autorisation verbale du responsable	
b - Conduire depuis plusieurs années	
c - Avoir une autorisation écrite de l'employeur	X
d - Demander à son responsable	

3 - Avant la mise en charge d'une batterie, je dois :	
a - M'assurer du niveau d'électrolyte	X
b - Enlever la clé de contact	X
c - Vérifier la mise sous tension du chargeur	
d - Faire le plein d'eau	




4 - La plaque de charge ci-dessus me permet d'affirmer que:	
a - Je peux gerber, mât incliné en avant, une charge (1,20 m x 1,20 m) à une hauteur de 3,60 m pesant 900 kg	X
b - La capacité nominale de mon chariot est de 2500 kg	
c - Je peux lever, mât vertical, une charge de 1800 kg mesurant 1,20 m de coté à une hauteur de 5,46 m	X
d - Je peux gerber, mât vertical, une charge de 1800 kg (1,00 m x 1,00m) à une hauteur de 6,46 m	


5 - Pour prendre une charge, la longueur minimum des fourches doit être :	
a - Egale à la longueur de la charge	
b - Au moins égale à la moitié de la charge	
c - Des 2/3 de la longueur de la charge	X
d - Supérieure à la charge	

6 - Quelle(s) situation(s) présente(nt) un risque potentiel	
a - Circulation charge haute	X
b - Circulation sur sol mouillé	X
c - Circulation mât incliné en arrière	
d - Chargement de véhicule	X

7 - Avant tout chargement par l'arrière d'un véhicule, je dois :	
a - Choisir un chariot de petite levée libre	X
b - Vérifier la fixation du pont de liaison	X
c - Vérifier la pression des pneumatiques de la remorque	
d - Vérifier les documents du chauffeur	

8 - Un chariot peut basculer latéralement en cas de :	
a - Freinage brusque	
b - Virage rapide	X
c - Utilisation du translateur en grande hauteur	X
d - Mauvais centrage de la charge	X

9 - Ce pictogramme m'indique que la marchandise :	
	
a - Craint l'eau	
b - Doit être stockée à l'abri	
c - Craint l'humidité	X
d - Peut être arrosée	

10 - Ce panneau de signalisation (de couleur rouge) m'indique	
	
a - Passage interdit aux piétons	X
b - Passage obligatoire pour piétons	
c - Port de protection du corps obligatoire	
d - Passage non protégé	