

## TEST DE CONNAISSANCES n° 3 - CORRIGÉ

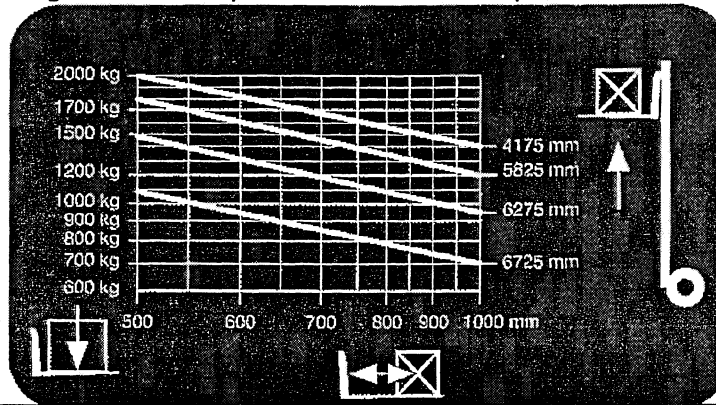
Vous devez répondre aux questions en cochant la case correspondant à la bonne réponse. Certaines questions peuvent entraîner plusieurs réponses valables : cochez alors les cases correspondantes. Seules les réponses totalement exactes seront prises en compte.

1 - A chaque prise de poste le cariste doit pratiquer :	
a - Les essais hydrauliques	X
b - Les essais de frein à pied	X
c - Un essai du protégé conducteur	
d - Un virage à grande vitesse afin de contrôler la stabilité du chariot	

2 - Pour conduire un chariot automoteur à conducteur porté, il faut	
a - Avoir une licence	
b - Avoir le permis V.L	
c - Avoir le permis cariste	
d - Etre titulaire d'une autorisation écrite de l'employeur	X

3 - Avant la mise en charge d'une batterie je dois :	
a - Vérifier la tension de la batterie	
b - Vérifier la charge de la batterie	X
c - Porter un E.P.I	X
d - Si besoin, rajouter de l'acide	

4 - Le diagramme de capacité ci-dessous me permet d'affirmer que:



a - Je peux gerber, mât incliné en avant, une charge (1,20 m x 1,20 m) à une hauteur de 3,60 m pesant 900 kg	
b - La capacité nominale de mon chariot est de 2500 kg	
c - Je peux lever, une charge de 1800 kg mesurant 1,20 m de coté à une hauteur de 6,00 m	
d - Je peux gerber, une charge de 1100 kg (1,00 m x 1,00m) à une hauteur de 6,46 m	X

5 - Pour prendre une charge, la longueur minimum des fourches doit être :


a - Egale à la longueur de la charge	
b - Au moins égale à la moitié de la charge	
c - Des 2/3 de la longueur de la charge	X
d - Supérieure à la charge	


6 - Pour circuler sur la voie publique avec un chariot limité à 25 km/h, il faut :

a - Avoir l'autorisation écrite de l'employeur	X
b - Posséder le permis V.L	
c - Posséder la carte grise du véhicule	
d - Avoir un chariot équipé (ex : signalisation, éclairage)	X

<b>7 - Les principales causes d'accident de chariot sont :</b>	
a - Conduite en état d'ivresse	X
b - Utilisation d'un chariot sans formation préalable	X
c - Mauvaise entretien du chariot	X
d - Circulation charge haute	X

<b>8 - Pour travailler en allées étroites et en grande hauteur, je peux utiliser (de préférence) :</b>	
a - Un chariot frontal électrique 3 roues	
b - Un tri directionnel à poste de conduite élevable	X
c - Un chariot à mât rétractable	X
d - Un chariot tracteur	

<b>9 - Ce panneau (de couleur jaune) indique :</b>	
	
a - Passage obligatoire pour les engins de manutention	
b - Passage uniquement réservé aux caristes autorisés	
c - Passage d'engin de manutention	X
d - Passage de matériel agricole	

<b>10 - Ce panneau de signalisation (de couleur rouge) m'indique</b>	
	
a - Eau distillée	
b - Ne pas arroser	
c - Eau non potable	X
d - Danger d'émanation de gaz au contact de l'eau	