

TEST DE CONNAISSANCES n° 4 - CORRIGÉ

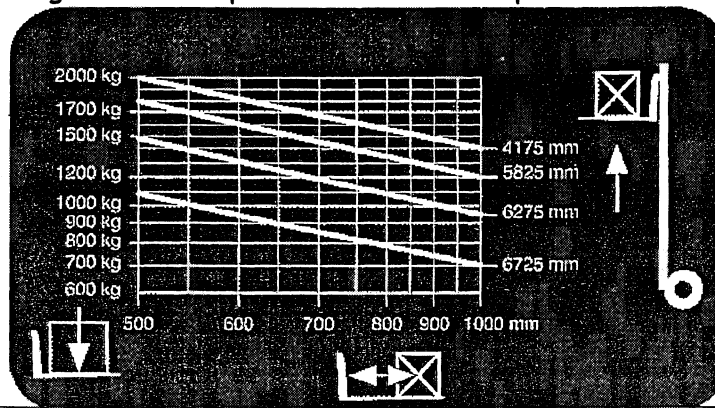
Vous devez répondre aux questions en cochant la case correspondant à la bonne réponse. Certaines questions peuvent entraîner plusieurs réponses valables : cochez alors les cases correspondantes. Seules les réponses totalement exactes seront prises en compte.

1 - En cas d'anomalies sur le chariot, je dois:	
a - Continuer de travailler en prenant des précautions	
b - Utiliser le droit d'alerte	X
c - Faire la réparation	
d - Arrêter immédiatement le chariot	X

2 - Avant l'utilisation d'un chariot élévateur le cariste vérifie :	
a - La tension des chaînes	X
b - La plaque de charge	X
c - Rien	
d - La pression des bandages	


3 - Un cariste est responsable de :	
a - Sa sécurité	X
b - La sécurité des collègues	X
c - La maintenance de son chariot	
d - Son travail	X

4 - Le diagramme de capacité ci-dessous me permet d'affirmer que:



a - Je peux lever une charge (1,20 x 1,20) de 1500 kg à une hauteur de 6 m	
b - La capacité nominale de mon chariot est de 2000 kg à 500 mm	X
c - Je peux lever, une charge de 1300 kg mesurant 1,20 m de côté à une hauteur de 6,00 m	X
d - Je peux gerber, une charge de 1100 kg (1,60 m x 1,60m) à une hauteur de 6,46 m	

5 - Quels sont les risques pris par le cariste :




a - Basculement latéral	X
b - Perte de contrôle du véhicule	X
c - Collision avec un piéton	X
d - Basculement frontal	

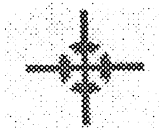
6 - Les vérifications générales périodiques doivent être effectuées :

a - Une fois par an	
b - Tous les 5 ans	X
c - Par n'importe qui	
d - Tous les 6 mois	

7 - Les principales causes d'accident de chariot sont :	
a - Etat du sol	X
b - Utilisation d'accessoires inadaptés	X
c - La consommation de substances enivrantes	
d - Circulation charge basse	

8 - Lors du stationnement du chariot, il faut :	
a - Mettre les fourches à 15 cm du sol	
b - Mettre le frein de parc	X
c - Laisser les clés sur le contact pour le collègue	
d - Fermer la bouteille de G.P.L	X

9 - Ce panneau (de couleur jaune) indique :	
	
a - Port du casque obligatoire	
b - Charges suspendues	X
c - Passage d'engin de manutention	
d - Interdit aux ponts roulants	

10 - Ce pictogramme signifie :	
	
a - Craint les radiations	
b - Centre de gravité	X
c - Fragile	
d - Toxique	