

## TEST DE CONNAISSANCES n° 5 - CORRIGÉ

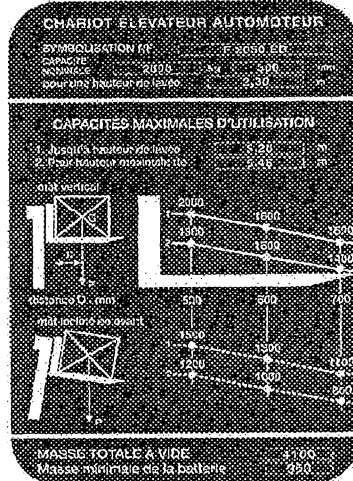
Vous devez répondre aux questions en cochant la case correspondant à la bonne réponse. Certaines questions peuvent entraîner plusieurs réponses valables : cochez alors les cases correspondantes. Seules les réponses totalement exactes seront prises en compte.

1 - Si mon chariot est stationné parallèlement au quai, je dois :	
a - Dégager les roues avant en priorité	
b - Dégager d'abord les roues directionnelles	X
c - Demander à mon responsable	
d - Arrêter immédiatement le chariot	

2 - Pour mettre une batterie en charge, je dois :	
a - Vérifier les bornes	X
b - Faire le plein d'eau	
c - Connecter le chargeur	X
d - Utiliser le chargeur disponible	

3 - Avant chaque prise de poste, le cariste vérifie :	
a - Le réglage moteur	
b - Les niveaux d'huile	X
c - L'état du protège tête	X
d - La pression des bandages	

4 - Le diagramme de capacité ci-dessous me permet d'affirmer que :



a - Je peux lever, mât vertical une charge (1,40 x 1,40) de 1400 kg à une hauteur de 5,50 m	X
b - La capacité nominale de mon chariot est de 2000 kg à 600 mm	
c - Je peux lever, mât incliné en avant, une charge de 1300 kg mesurant 1,20 m de coté à une hauteur de 6,00 m	
d - Je peux gerber, mât vertical, une charge de 1100 kg (1,20 m x 1,20 m) à une hauteur de 3,20 m	X

5 - Cette étiquette indique :




a - Nocif	
b - Toxique	X
c - Port d' E.P.I	
d - Corrosif	

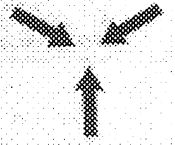
6 - Pour conduire un chariot élévateur, il faut :

a - Demander à son responsable	
b - Conduire depuis au moins 5 ans	
c - Avoir une autorisation écrite de l'employeur	X
d - Avoir l'aptitude médicale	X

<b>7 - Lorsque 2 chariots se suivent il faut maintenir une distance d'au moins :</b>	
a - 10 m	
b - 2 longueurs de chariots	
c - 3 longueurs de chariots	X
d - 3 m	

<b>8 - Pour circuler en charge, je dois :</b>	
a - Mettre les fourches à 15 cm du sol	X
b - Incliner le mât en avant	
c - Laisser le mât vertical	
d - Rapprocher le centre de gravité de la charge aux talons de fourche	X

<b>9 - Ce panneau (de couleur bleue) indique :</b>	
	
a - Port du casque obligatoire	
b - Protection obligatoire de la tête	X
c - Protection conseillée de la tête	
d - Tout E.P.I obligatoire	

<b>10 - Ce pictogramme signifie :</b>	
	
a - Centre de gravité	X
b - Emplacement des élingues si levage	
c - Croisement dangereux	
d - Craint la chaleur	