

## TEST DE CONNAISSANCES n° 4

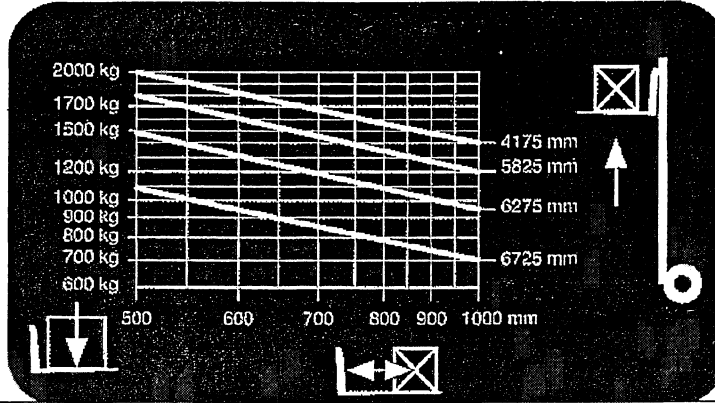
Vous devez répondre aux questions en cochant la case correspondant à la bonne réponse. Certaines questions peuvent entraîner plusieurs réponses valables : cochez alors les cases correspondantes. Seules les réponses totalement exactes seront prises en compte.

<b>1 - En cas d'anomalies sur le chariot, je dois:</b>	
a - Continuer de travailler en prenant des précautions	<input type="checkbox"/>
b - Utiliser le droit d'alerte	<input type="checkbox"/>
c - Faire la réparation	<input type="checkbox"/>
d - Arrêter immédiatement le chariot	<input type="checkbox"/>

<b>2 - Avant l'utilisation d'un chariot élévateur, le cariste vérifie :</b>	
a - La tension des chaînes	<input type="checkbox"/>
b - La plaque de charge	<input type="checkbox"/>
c - Rien	<input type="checkbox"/>
d - La pression des bandages	<input type="checkbox"/>

<b>3 - Un cariste est responsable de :</b>	
a - Sa sécurité	<input type="checkbox"/>
b - La sécurité des collègues	<input type="checkbox"/>
c - La maintenance de son chariot	<input type="checkbox"/>
d - Son travail	<input type="checkbox"/>

4 - Le diagramme de capacité ci-dessous me permet d'affirmer que:




a - Je peux lever une charge (1,20 x 1,20) de 1500 kg à une hauteur de 6 m

b - La capacité nominale de mon chariot est de 2000 kg à 500 mm

c - Je peux lever, une charge de 1300 kg mesurant 1,20 m de côté à une hauteur de 6,00 m

d - Je peux gerber, une charge de 1100 kg (1,60 m x 1,60m) à une hauteur de 6,46 m



5 - Quels sont les risques pris par le cariste :

a - Basculement latéral

b - Perte de contrôle du véhicule

c - Collision avec un piéton

d - Basculement frontal

6 - Les vérifications générales périodiques doivent être effectuées :

a - Une fois par an


b - Tous les 5 ans


c - Par n'importe qui

d - Tous les 6 mois

<b>7 - Les principales causes d'accident de chariot sont :</b>	
a - Etat du sol	
b - Utilisation d'accessoires inadaptés	
c - La consommation de substances enivrantes	
d - Circulation charge basse	

<b>8 - Lors du stationnement du chariot, il faut :</b>	
a - Mettre les fourches à 15 cm du sol	
b - Mettre le frein de parc	
c - Laisser les clés sur le contact pour le collègue	
d - Fermer la bouteille de G.P.L	

<b>9 - Ce panneau (de couleur jaune) indique :</b>	
	
a - Port du casque obligatoire	
b - Charges suspendues	
c - Passage d'engin de manutention	
d - Interdit aux ponts roulants	

<b>10 - Ce pictogramme signifie :</b>	
	
a - Craint les radiations	
b - Centre de gravité	
c - Fragile	
d - Toxique	