

TEST DE CONNAISSANCES n° 5

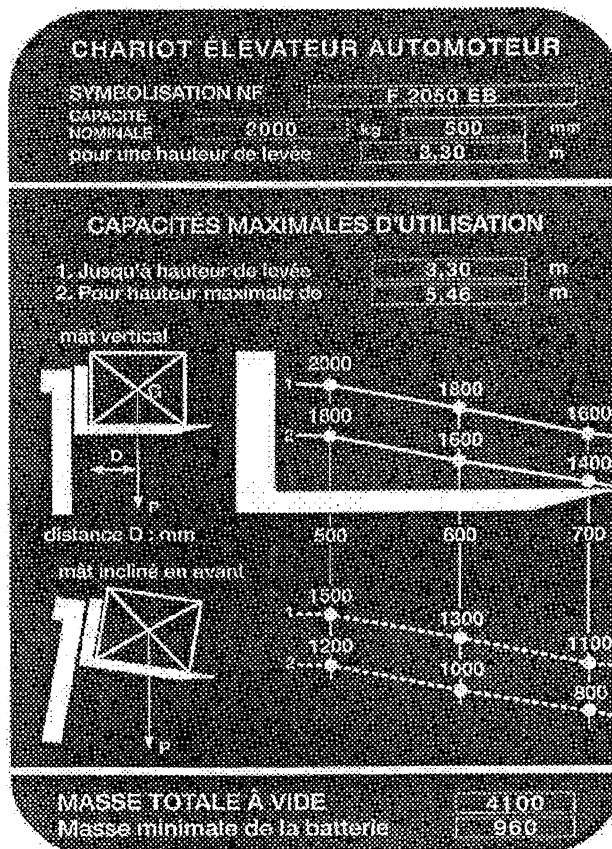
Vous devez répondre aux questions en cochant la case correspondant à la bonne réponse. Certaines questions peuvent entraîner plusieurs réponses valables : cochez alors les cases correspondantes. Seules les réponses totalement exactes seront prises en compte.

1 - Si mon chariot est stationné parallèlement au quai, je dois :	
a - Dégager les roues avant en priorité	<input type="checkbox"/>
b - Dégager d'abord les roues directionnelles	<input type="checkbox"/>
c - Demander à mon responsable	<input type="checkbox"/>
d - Arrêter immédiatement le chariot	<input type="checkbox"/>

2 - Pour mettre une batterie en charge, je dois :	
a - Vérifier les bornes	<input type="checkbox"/>
b - Faire le plein d'eau	<input type="checkbox"/>
c - Connecter le chargeur	<input type="checkbox"/>
d - Utiliser le chargeur disponible	<input type="checkbox"/>

3 - Avant chaque prise de poste, le cariste vérifie :	
a - Le réglage moteur	<input type="checkbox"/>
b - Les niveaux d'huile	<input type="checkbox"/>
c - L'état du protège tête	<input type="checkbox"/>
d - La pression des bandages	<input type="checkbox"/>

4 - La plaque de charge ci-dessous me permet d'affirmer que:



a - Je peux lever, mât vertical une charge (1,40 x 1,40) de 1400 kg à une hauteur de 5,50 m

b - La capacité nominale de mon chariot est de 2000 kg à 600 mm

c - Je peux lever, mât incliné en avant, une charge de 1300 kg mesurant 1,20 m de coté à une hauteur de 6,00 m

d - Je peux gerber, mât vertical, une charge de 1100 kg (1,20 m x 1,20 m) à une hauteur de 3,20 m

5 - Cette étiquette (de couleur jaune) indique :



a - Nocif

b - Toxique

c - Port d' E.P.I

d - Corrosif

6 - Pour conduire un chariot élévateur, il faut :

a - Demander à son responsable

b - Conduire depuis au moins 5 ans

c - Avoir une autorisation écrite de l'employeur

d - Avoir l'aptitude médicale

7 - Lorsque 2 chariots se suivent il faut maintenir une distance d'au moins :


a - 10 m


b - 2 longueurs de chariots

c - 3 longueurs de chariots

d - 3 m

8 - Pour circuler en charge, je dois :	
a - Mettre les fourches à 15 cm du sol	
b - Incliner le mât en avant	
c - Laisser le mât vertical	
d - Rapprocher le centre de gravité de la charge aux talons de fourche	

9 - Ce panneau (de couleur bleue) indique :	
	
a - Port du casque obligatoire	
b - Protection obligatoire de la tête	
c - Protection conseillée de la tête	
d - Tout E.P.I obligatoire	

10 - Ce pictogramme signifie :	
	
a - Centre de gravité	
b - Emplacement des élingues si levage	
c - Croisement dangereux	
d - Craint la chaleur	