


CAP
AGENT D'EXECUTION GRAPHISTE DECORATEUR
Session 2003

EP3

TECHNOLOGIE




CE DOCUMENT CONTIENT LE SUJET

VOUS ECRIREZ DIRECTEMENT VOS REPONSES AUX EMBLEMES PREVUS.

VOUS DEVEZ RENDRE LA TOTALITE DU DOCUMENT A LA FIN DE L'EPREUVE, SANS EN DETACHER AUCUNE PAGE.

GROUPEMENT INTERACADEMIQUE IV	Session 2003	SUJET 1/1
CAP	AGENT D'EXECUTION GRAPHISTE DECORATEUR	
EP3 - Technologie		
Durée : 1h30	Coef. : 2	



TRAVAIL DEMANDE

1 Vous devez intervenir dans une ville accueillant le cirque

- en vue d'un marquage publicitaire 3 supports différents sont à réaliser en finition peinture Alkyde brillante
- **quel sera le système de peinture approprié à chacun de ces 3 panneaux :**

- un panneau métallique

/1

- un panneau contre plaqué marine

/1

- un mur enduit ciment taloché

/1

Quel solvant vous utiliserez pour fluidifier ?

- une peinture primaire antirouille

- Une impression universelle

- Une peinture Acrylique

/1


Quelles conséquences entraînent un excès de solvant dans une peinture ?

/1

Evaluation total

/5

GROUPEMENT INTERACADEMIQUE IV		Session 2003	SUJET 1 /6
CAP	AGENT D'EXECUTION GRAPHISTE DECORATEUR		
EP3- TECHNOLOGIE			
Durée : 1h30		Coef. : 2	




TRAVAIL DEMANDE

2 Donnez les différents avantages et inconvénients des moyens de reproduction :

REPRODUCTION	AVANTAGES	INCONVENIENTS
-		
-		
-		
-		
-		
-		
-		

Evaluation total /2

GROUPEMENT INTERACADEMIQUE IV	Session 2003	SUJET 2/6
CAP	AGENT D'EXECUTION GRAPHISTE DECORATEUR	
EP3- TECHNOLOGIE		
Durée : 1h30	Coef. : 2	



TRAVAIL DEMANDE

3 – On vous demande d’apporter un enrichissement particulier sur les lettres d’un panneau

Quels sont les moyens (minimum 4) que vous proposez ?

/1

Le choix des caractères des lettres se fera à partir du classement THIBEAUDEAU :

Donnez le classement

/1

Dessinez la lettre i en majuscule dans chacune des composantes du classement THIBEAUDEAU

/1

Evaluation total /3

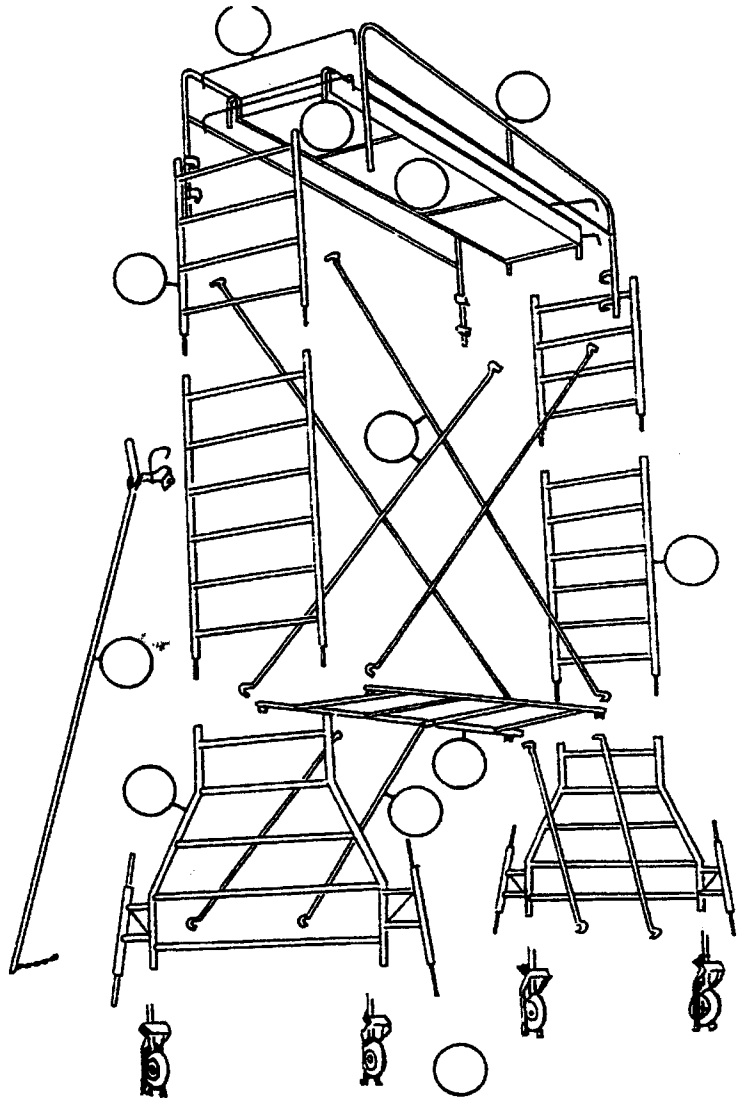
GROUPEMENT INTERACADEMIQUE IV	Session 2003	SUJET 3 /6
CAP	AGENT D'EXECUTION GRAPHISTE DECORATEUR	
EP3- TECHNOLOGIE		
Durée : 1h30		Coef. : 2



TRAVAIL DEMANDE

4 Vous utilisez un échafaudage pour fixer des banderoles
 D'après le croquis ci-dessous, mettre à leur place les éléments :

1	
2	
3	
4	
5	
6	
7	
8	
9	
10	



A Rambardes avec sous-lisse.	E Echelles.	I Montants de base avec vérins.
B Barres de sécurité.	F Haubans d'échelles.	J Haubans de base.
C Plancher.	G Etayage.	K Roues pivotantes et freinables.
D Trappe d'accès.	H Corps de base.	

Evaluation total /4

GROUPEMENT INTERACADEMIQUE IV	Session 2003	SUJET 4 /6
AGENT D'EXECUTION GRAPHISTE DECORATEUR		
EP3- TECHNOLOGIE		
Durée : 1h30		Coef. : 2



TRAVAIL DEMANDE

5 – APPLICATIONS DES ENSEIGNES ET PUBLICITE



Trois éléments réglementés selon leur spécificité
Donnez la définition de ces trois éléments :

/1

L'enseigne :

/1

La préenseigne

/1

La publicité

/1

Evaluation total :4

GROUPEMENT INTERACADEMIQUE IV	Session 2003	SUJET	5 /6
CAP	AGENT D'EXECUTION GRAPHISTE DECORATEUR		
EP3- TECHNOLOGIE			
Durée : 1h30		Coef. : 2	



TRAVAIL DEMANDE

Lors d'une manifestation les couleurs ont une grande importance à jouer

Veuillez citer les trois couleurs de sécurité
 Dites leur signification
 Donnez des exemples d'utilisation et d'application

<i>COULEURS</i>	<i>SIGNIFICATION</i>	<i>EXEMPLES</i>
-		
-		
-		

Evaluation total /2

Evaluation total /20

GROUPEMENT INTERACADEMIQUE IV	Session 2003	SUJET 6/6
CAP	AGENT D'EXECUTION GRAPHISTE DECORATEUR	
EP3- TECHNOLOGIE		
Durée : 1h30	Coef. : 2	