

ENTREPRISE ET VIE PROFESSIONNELLE

Julien vient d'obtenir son CAP et recherche un emploi. Il décide de proposer sa candidature à une entreprise.

1 – Cocher dans le tableau ci-dessous les affirmations exactes concernant l'élaboration d'un curriculum vitae et d'une lettre de motivation.

3 points

Affirmations	Curriculum vitae	Lettre de motivation
Doit être manuscrit (écrit à la main)		
Peut être photocopié		
Contient les coordonnées de Julien		
Contient les coordonnées de l'entreprise		
Contient une formule de politesse		

2 – Finalement, Julien obtient un CDD de 18 mois.

2.1 – Indiquer le rôle du contrat de travail.

1 point

2.2 – Relier par des flèches les personnes ou institutions ci-dessous avec leur rôle dans le monde professionnel.

2 points

L'inspecteur du travail	Présent dans les entreprises de plus de 50 salariés. Il détecte les risques d'accidents du travail et contribue à l'amélioration des conditions de travail des salariés
Le médecin du travail	Elu par le personnel de l'entreprise, il le représente auprès du chef d'entreprise.
Le délégué du personnel	Il surveille l'état de santé des salariés et détecte les éventuelles maladies professionnelles.
Le CHSCT	Il veille à l'application du code du travail au sein des entreprises.

C.A.P. SECTEUR INDUSTRIEL	N° d'anonymat
Vie sociale et professionnelle	

✂

GROUPEMENT INTERACADEMIQUE II		Session 2003		N° d'anonymat
C.A.P. SECTEUR INDUSTRIEL				
Vie sociale et professionnelle			Mardi 10 juin 2003	
SUJET	Durée : 1 heure	Coef. : 1	Page : 1/5	
NOM : Prénom :				

CONSOMMATION

Julien s'installe dans un studio. Il désire, acheter un lave linge. Son budget est réduit. Le lave linge sera disposé dans un espace de 50 cm entre le lavabo et la douche.

1 – Il observe la publicité présentée sur le document 1 page 4/5.

1.1 – Indiquer le numéro de l'appareil qui répond le mieux à ses besoins.

1 point

1.2 – Justifier la réponse (2 arguments).

1 point

2 – Il décide d'acheter le lave-linge n° 1 à crédit. Il lit les conditions de crédit proposées dans les documents 1 et 2 de la page 4/5 et 5/5.

2.1 – Julien paye son lave-linge en plusieurs mensualités.

3 points

2.2.1 – Donner le nombre de mensualités versées.

2.2.2 – Noter le montant d'une mensualité.

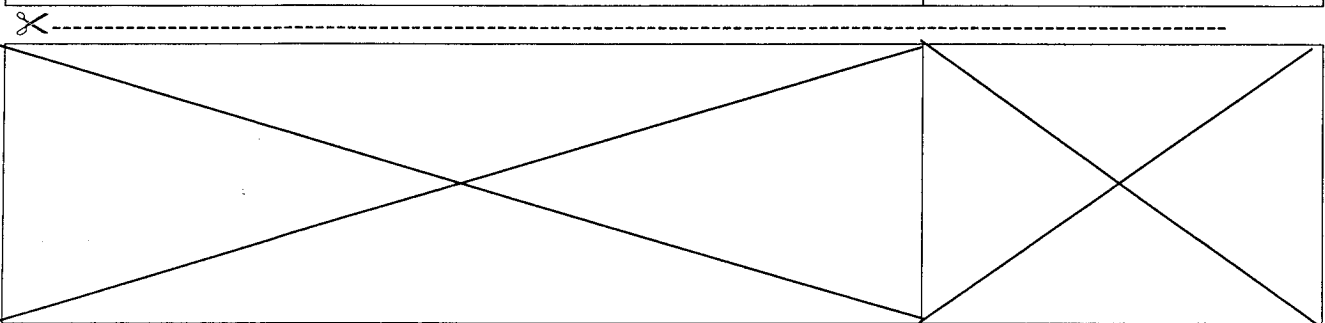
2.2.3 – Préciser le prix total du lave-linge.

2.2 – Comparer l'achat à crédit et l'achat au comptant en précisant un avantage et un inconvénient pour chacun, dans le cas de Julien.

2 points

Type d'achat	Avantage	Inconvénient
Achat au comptant		
Achat à crédit		

C.A.P. SECTEUR INDUSTRIEL	N° d'anonymat
Vie sociale et professionnelle	Page 2/5



ENVIRONNEMENT

Julien trouve que sa facture d'eau est très élevée. Il souhaite faire attention à sa consommation d'eau.

- 1 – Citer 2 mesures individuelles qui permettent de limiter la consommation d'eau au quotidien. 2 points

- 2 – Citer la structure qui traite les eaux usées. 1 point

SANTE

Arrivé dans son nouveau studio, Julien souhaite se préparer des repas équilibrés.

- 1 – Citer 2 maladies courantes causées par les excès alimentaires des français. 1 point

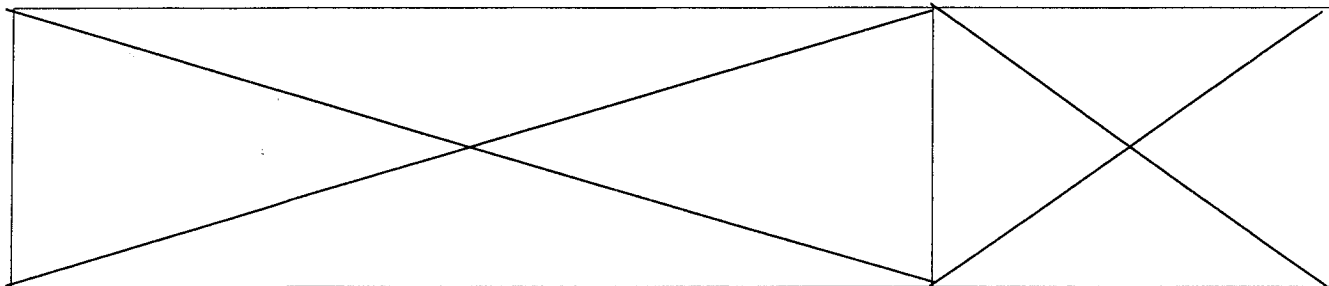
- 2 – A l'aide des propositions de plats suivantes, constituer un menu équilibré. 2 points

Entrée	Plat principal	Accompagnement	Dessert
Rillettes	Bœuf bourguignon	Pommes frites	Fromage
Œufs mayonnaise	Filet de cabillaud vapeur	Pommes de terre à l'anglaise	Fruits de saison
Salade verte	Spaghettis à la bolognaise	Epinards	Fromage blanc
Carottes râpées	Steak haché	Carottes vapeur	Crêpes au sucre
Pain de poisson mayonnaise	Poulet rôti		Crème anglaise

- 3 – Citer 2 autres règles d'hygiène de vie à appliquer au quotidien pour rester en bonne santé. 1 point

C.A.P. SECTEUR INDUSTRIEL	N° d'anonymat
Vie sociale et professionnelle	Page 3/5

✂



DOCUMENT 1

5 x 120 € + apport 16,99 €

599,99 €


3 935,68 F

ARTHUR MARTIN


Electrolux AWT1010AA 640 700 097

Un simple geste de la main suffit à une ouverture douce du tambour. Capacité et température réglables. 11 programmes dont laine et délicat. Arrêt positionné du tambour. Couvercle équilibré. Roulettes. L 40 x H 85 x P 60 cm.

①



②



AEG L70640 630 600 109

Programmation électronique avec thermostat intégré. Ouverture extra large. Capacité variable automatique. Essorage et température réglables. Affichage du temps restant. 15 programmes dont lavage main. Tambour 48 L. Sécurité antidébordement. Isolation phonique renforcée. C. eau 49 L. L 60 x H 85 x P 57,5 cm.

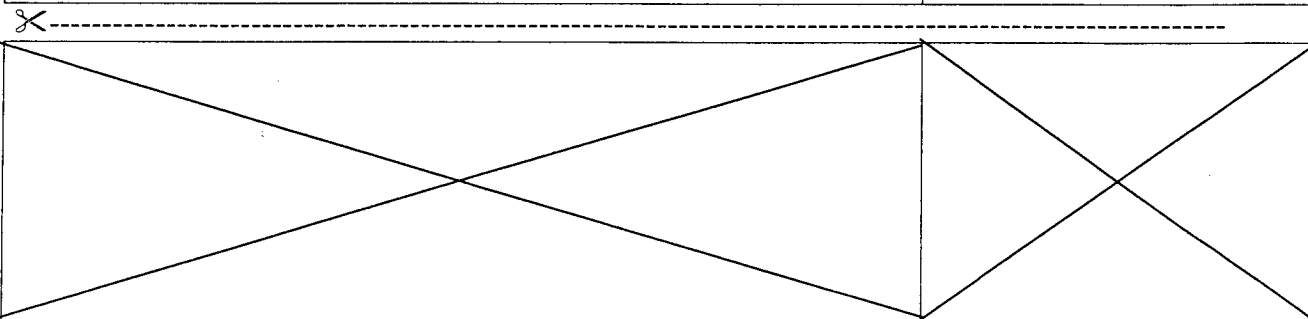
③



Miele W430 630 400 087

Nouveau tambour hydrogliss en nid d'abeille pour le respect du linge. Programmation à monobouton. Capacité variable automatique. Température réglable. Départ différé. Affichage de déroulement à diodes. Programmes laine et lavage main. Mini programme 40°C/34 min. Sécurité Water control. C. eau 45 L. L 59,5 x H 85 x P 58 cm

C.A.P. SECTEUR INDUSTRIEL	N° d'anonymat
Vie sociale et professionnelle	Page 4/5



LES CRÉDITS, J'EN FAIS MON AFFAIRE... }



Payez vos achats en 5 mois *

* Après acceptation du dossier par Cetelem, 5 avenue Kléber 75116 Paris 542 097 902 RCS Paris. Après apport personnel, vous payez 5 mensualités. TEG de 18,42% à 10,89% l'an hors assurance facultative au 01/03/02 variant selon le montant du crédit. Offre valable pour un achat compris entre 180€ et 1499€. Crédit accessoire à une vente d'une durée de 5 mois.

C.A.P. SECTEUR INDUSTRIEL	N° d'anonymat
Vie sociale et professionnelle	Page 5/5

✂

