

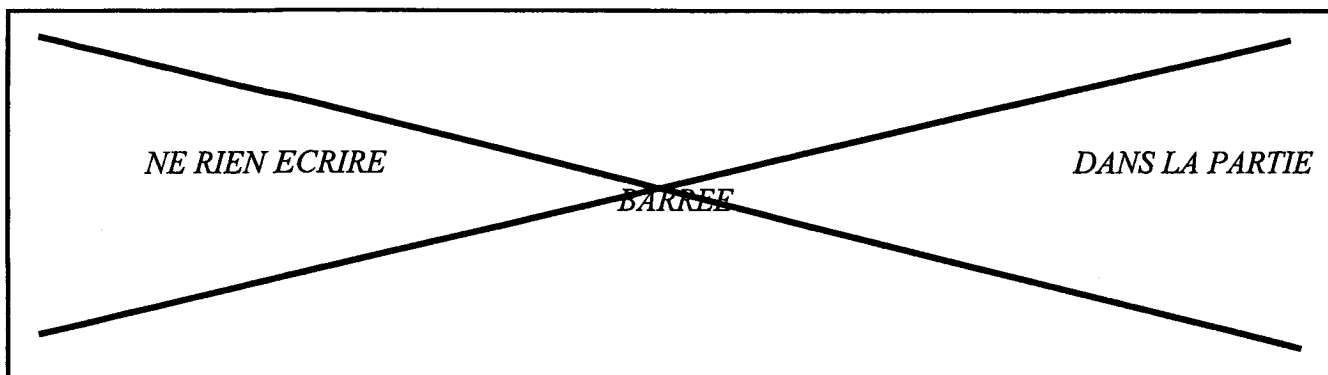
	Académie :	Session :		
	Examen ou Concours :	Série :		
	Spécialité/option :	Repère de l'épreuve :		
NE	Epreuve/sous-épreuve :			
	NOM :			
RIEN	(en majuscule suivi, s'il y a lieu, du nom d'épouse) Prénoms :	N° du candidat		
	Né(e) le :	(le numéro est celui qui figure sur la convocation ou la liste d'appel)		
ECRIRE	-----			
DANS	Examen ou Concours :	Série* :		
	Spécialité/option :			
CE	Repère de l'épreuve :			
	Epreuve/sous-épreuve :			
CADRE	(Préciser, s'il y a lieu, le sujet choisi)			
	Note : <table border="1" style="display: inline-table; vertical-align: middle;"><tr><td style="text-align: center;">/</td></tr><tr><td style="text-align: center;">20</td></tr></table>	/	20	Appréciation du correcteur :
/				
20				
	* Uniquement s'il s'agit d'un examen			

BEP LOGISTIQUE ET COMMERCIALISATION

EP3 CONTROLE PONCTUEL

Dossier Sujet

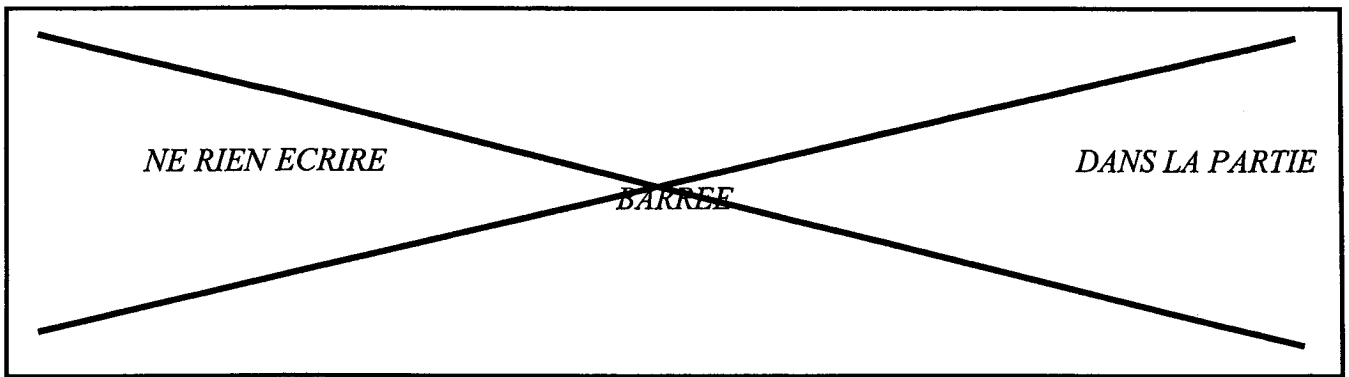
Groupement inter académique II		Session 2003	Facultatif : 175yd03	
Examen et spécialité BEP LOGISTIQUE ET COMMERCIALISATION				
Intitulé de l'épreuve EP3 Epreuve Economique et Juridique1				
Type SUJET	Facultatif : date et heure	Durée 1 heure	Coefficient 2	N° de page / total 1/8



EPREUVE EP3 ENVIRONNEMENT ECONOMIQUE ET JURIDIQUE

TRAVAIL A EFFECTUER		
On donne	On demande	On exige
<p>Documents :</p> <ul style="list-style-type: none"> ▪ Article du Télégramme du 19/9/01 (Annexe 1) ▪ Présentation de situations ▪ Article du Télégramme du 22/06/02 (Annexes 2 et 3) 	<ul style="list-style-type: none"> ▪ d'exploiter un article portant sur le budget de l'Etat. ▪ d'exploiter un article portant sur le salaire Minimum Interprofessionnel de croissance (S.M.I.C.). 	<ul style="list-style-type: none"> ▪ Caractériser les principales recettes et les principales dépenses de l'Etat. ▪ Identifier les principales juridictions et leurs compétences. ▪ Faire application de règles appropriées (légalles ou conventionnelles) à des situations données.

SAVOIRS ASSOCIES A MOBILISER
<p>S.4.1. Environnement économique S.4.1.6. : Le rôle de l'Etat Le budget de l'Etat</p> <p>S.4.2. Environnement juridique et social S.4.2.1. : Le cadre de la vie juridique Le respect du droit : l'organisation judiciaire</p> <p>S.4.2.7. : Le salarié : droit social La rémunération</p>



PREMIERE PARTIE : ENVIRONNEMENT ECONOMIQUE

A partir de vos connaissances et de l'annexe 1, répondez aux questions suivantes :

1.1 - Quelles sont les deux composantes du budget de l'Etat ? /2

.....
.....

1.2 - Qui prépare le budget de l'Etat ? /0,5

.....
.....

1.3 - Quel est l'autre nom donné au budget de l'Etat ? /0,5

.....
.....

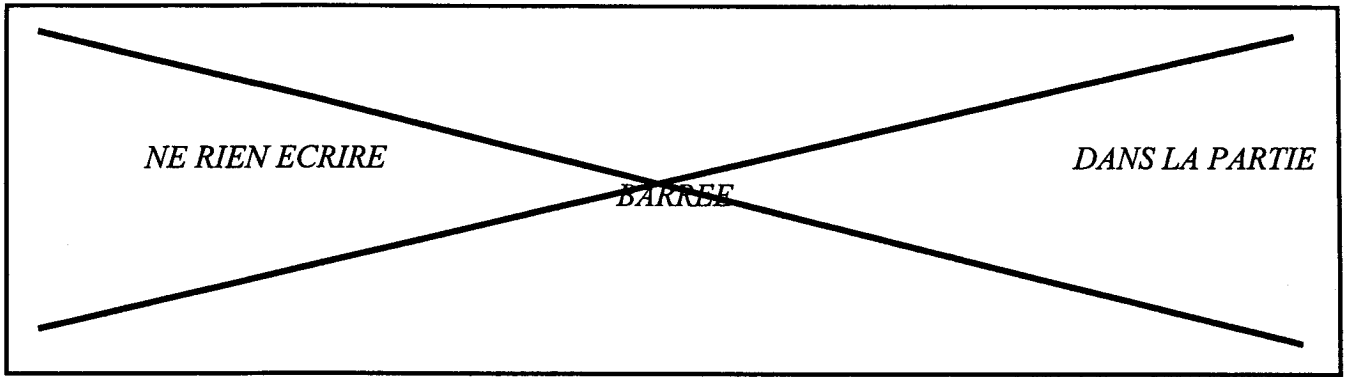
1.4 - Relevez dans le document un exemple : /2
- d'impôt direct :
- d'impôt indirect :

1.5 - Quelles sont les trois principales ressources de l'Etat ? /1,5

.....
.....
.....

1.6 - Quelles sont les trois principales dépenses ? /1,5

.....
.....
.....



1.7 - Quel est le poste de dépenses qui prévoit la plus forte augmentation par rapport au budget 2001 ?

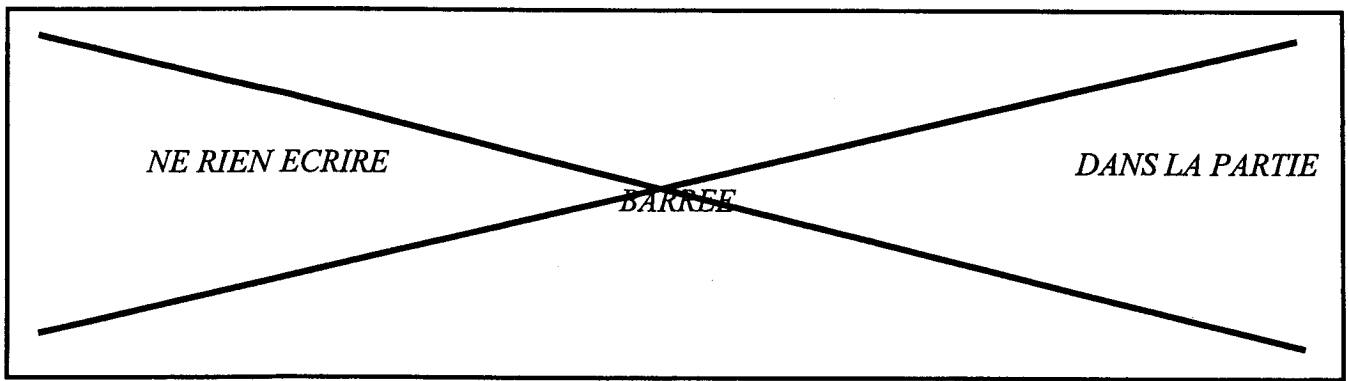
/1

.....
.....

1.8 - Calculez le solde budgétaire prévu pour 2002, en indiquant sa nature (excédent ou déficit) et en justifiant votre réponse ?

/3

.....
.....
.....

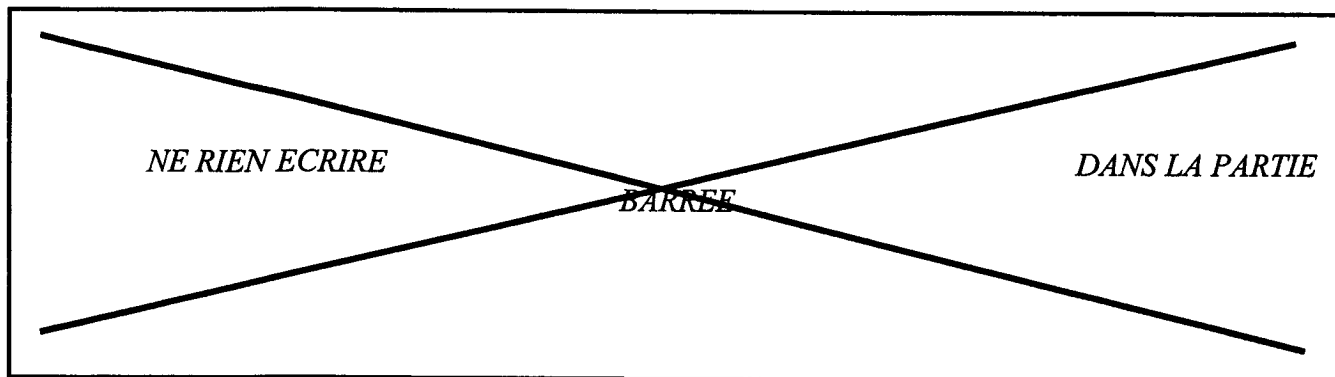


DEUXIEME PARTIE : ENVIRONNEMENT JURIDIQUE ET SOCIAL

2.1 - Pour chacune des situations présentées dans le tableau ci-dessous, indiquez la juridiction compétente en cochant la case correspondant à votre réponse.

/2

Situations	Tribunal d'Instance	Tribunal de Commerce	Cour d'Assises	Conseil des Prud'hommes
Mme Rochard, commerçante, est en conflit avec un de ses fournisseurs au sujet d'une livraison défectueuse.				
Valérie intente une action contre son employeur, pour licenciement abusif.				
Eric et Luc ont un conflit de voisinage concernant la réparation du mur mitoyen.				
Pierre est arrêté pour vol à main armée dans une bijouterie.				



A l'aide de vos connaissances et des annexes 2 et 3, répondez aux questions suivantes :

2.2 - Quels sont les trois facteurs qui contribuent à l'augmentation du SMIC (Salaire Minimum Interprofessionnel de Croissance) ? **/3**

.....
.....
.....

2.3 - Quel est le nombre de «smicards » en 2002 ? **/0,5**

.....
.....

2.4 - En quelle année l'augmentation du SMIC a-t-elle été la plus importante ? De quel pourcentage ? **/1**

.....
.....
.....

2.5 - Pour quelle raison le « coup de pouce » ne semble pas prioritaire au gouvernement en 2002 ? **/1**

.....
.....

2.6 - Quel est le taux horaire du SMIC au 1^{er} juillet 2002 ? **/0,5**

.....
.....

BEP LOGISTIQUE ET COMMERCIALISATION	175yd03
EP3 - Epreuve économique et juridique	6/8

NE RIEN ECRIRE


BARREE

DANS LA PARTIE

Annexe 1

Le budget de l'Etat en 2002

Pour son premier budget libellé en euros, et le dernier avant les élections, le gouvernement donne la priorité à l'emploi, la sécurité et l'environnement. Ainsi, le projet de loi de finances pour 2002 accorde une hausse de crédits de 4,6 % à la police et la gendarmerie, de 5,7 % à la Justice, permettant de créer 4.000 emplois parmi les forces de l'ordre. L'Education n'est pas oubliée avec 7.700 postes supplémentaires dans l'enseignement.



Source : Extraits d'un article du Télégramme, 19 septembre 2001

NE RIEN ECRIRE

DANS LA PARTIE

BARREE

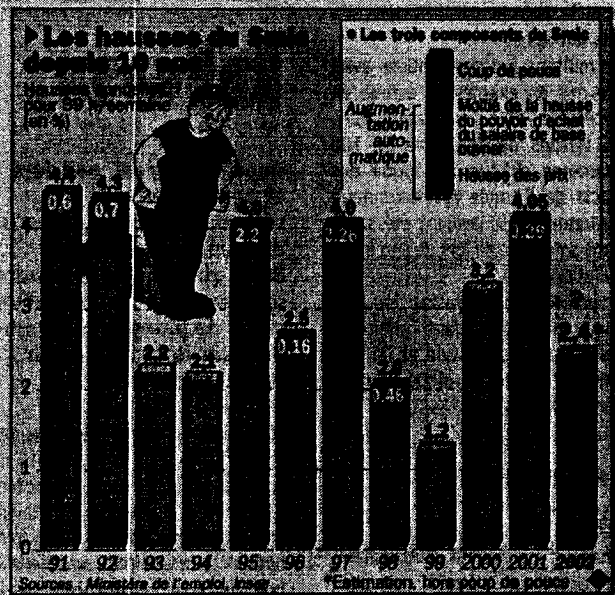
Annexe 2

SMIC

Smic. Le coup de pouce ne semble pas prioritaire

Le Premier ministre a rappelé hier, à trois jours d'une rencontre sur le Smic, que sa « priorité » portait sur l'harmonisation des différents niveaux du salaire minimum, répondant ainsi à une forte revendication des syndicats qui attendent d'abord un « coup de pouce ».

S'exprimant devant des journalistes, dans la cour de l'Hôtel Matignon, Jean-Pierre Raffarin a laissé entendre hier qu'il n'y aurait pas de « coup de pouce » au Smic dès le 1^{er} juillet 2002, déclarant vouloir donner la « priorité » à une harmonisation des différents niveaux du Smic, apparus avec le passage aux 35 heures.



Source : Extrait d'un article du Télégramme, 22 juin 2002

Annexe 3

SMIC

25-06-2002 16:30

SMIC : une augmentation de 2,4%

Le Gouvernement s'est prononcé, mardi 25 juin, pour une revalorisation de 2,4%, du SMIC, qui passe ainsi à un taux horaire de 6,83 euros contre 6,67 euros jusqu'alors.

Source : Site du Premier ministre – portail du Gouvernement français
Adresse internet : <http://www.premier-ministre.gouv.fr>

BEP LOGISTIQUE ET COMMERCIALISATION	175y03
EP3 – Epreuve économique et juridique	8/8