

MENTION COMPLEMENTAIRE COLORISTE PERMANENTISTE

Session 2004

E1B - Réalisation d'une permanente

Durée : 2 heures - Coef. 4

Le modèle masculin ou féminin a une longueur de cheveux de 20 cm au minimum.

Au début de l'épreuve, remplir la fiche technique fournie (feuille 2/3). La remettre au jury **sans rature** avant la réalisation.

Effectuez :

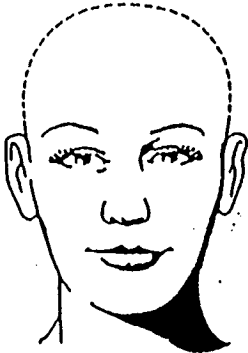

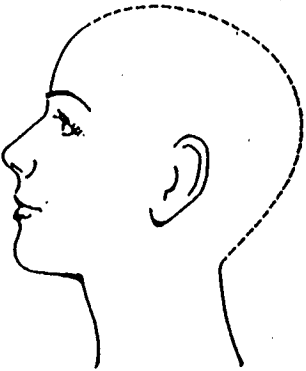
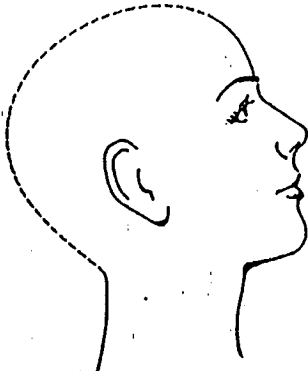
- un montage de permanente sur l'ensemble de la chevelure
- un séchage mettant en valeur le dessin de frisure
- une appréciation écrite (feuille 3/3) du résultat obtenu et une proposition de solutions correctives si nécessaire sera remise au jury en fin d'épreuve..

Après la permanente le séchage se fera uniquement aux doigts avec un séchoir à main.

AUCUNE RATURE N'EST AUTORISEE SUR LES TROIS PREMIERES LIGNES

Sur les gabarits ci-dessous, représentez les zones. Numérotez ces zones.

Pour chaque zone, précisez dans le tableau, le degré de frisure souhaité. Eventuellement précisez le degré de frisure sur la base (racine) et la longueur.

		Zones					
		-----*	-----*	-----*	-----*	-----*	
 <p>Face</p>	 <p>Nuque</p>	Frisure Degré de frisure souhaité sur la base (la racine)					
		Degré de frisure sur la longueur					
 <p>Profil 1</p>	 <p>Profil 2</p>						

MENTION COMPLEMENTAIRE
 COLORISTE PERMANENTISTE

E1B - Réalisation d'une permanente

Durée : 2 heures - Coef. 4

* Une même colonne peut correspondre à plusieurs zones mais à un seul dessin de frisure

MENTION COMPLEMENTAIRE
COLORISTE PERMANENTISTE

E1B - Réalisation d'une permanente

Durée : 2 heures - Coef. 4

N° du candidat : _____

Jury :

A COMPLETER A LA FIN DE L'EPREUVE					
Degré de frisure obtenu sur la : - base - longueur					
Solutions correctives si nécessaire					

* Une même colonne peut correspondre à plusieurs zones mais à un seul dessin de frisure.