

# BREVET DE TECHNICIEN SUPERIEUR

SPECIALITES	COEF.	DUREE
ELECTROTECHNIQUE	1	3
GENIE OPTIQUE	3	3
INFORMATIQUE ET RESEAUX POUR L'INDUSTRIE ET LES SERVICES TECHNIQUES	3	3

## MATHEMATIQUES

Le sujet comprend 4 pages, numérotées de 1/4 à 4/4.  
Le formulaire officiel de mathématiques est joint au sujet.  
Il comprend 7 pages, numérotées de 1 à 7.

*La clarté des raisonnements et la qualité de la rédaction interviendront pour une part importante dans l'appréciation des copies.*

*L'usage des instruments de calcul et du formulaire officiel de mathématiques est autorisé.*

**Code sujet : MATGRA2**

### Exercice 1 (8 points)

Les questions 1°), 2°) et 3°) peuvent être traitées indépendamment l'une de l'autre.

Une entreprise fabrique des pièces. Ces pièces sont considérées comme conformes si leur longueur est comprise entre 79,8 mm et 80,2 mm.

1°) On note  $L$  la variable aléatoire qui, à chaque pièce fabriquée, associe sa longueur en mm. On admet que la variable  $L$  suit une loi normale de moyenne 80 et d'écart type 0,0948. On prélève une pièce au hasard dans la production. Déterminer, en utilisant la table de la loi normale centrée réduite, la probabilité que cette pièce soit conforme.

2°) On admet que si on prélève, au hasard, une pièce dans la production, la probabilité que cette pièce ne soit pas conforme est  $p = 0,035$ .

a) On note  $X$  la variable aléatoire représentant le nombre de pièces défectueuses dans un lot de 100 pièces. Les pièces sont prélevées au hasard et le tirage est assimilé à un tirage avec remise. Justifier que  $X$  suit une loi binomiale de paramètres  $n = 100$  et  $p = 0,035$ .

b) Le tableau ci-dessous donne la probabilité des événements «  $X = k$  » pour  $k$  variant de 0 à 9, à l'exception de l'événement «  $X = 2$  ».

$k$	0	1	2	3	4	5	6	7	8	9
$P(X = k)$	0,0284	0,1029		0,2188	0,1924	0,1340	0,0770	0,0375	0,0158	0,0059

On considère les événements :

$A$  : « le nombre de pièces défectueuses du lot est égal à 2 » ;

$B$  : « le nombre de pièces défectueuses du lot est au moins égal à 2 ».

Calculer  $P(A)$  au dix millièmes près, puis  $P(B)$  au millième près.

c) Un lot de 100 pièces est envoyé à un client, le lot est accepté s'il contient au plus 4 pièces défectueuses.

En utilisant le tableau ci-dessus, déterminer, au millième près, la probabilité que le client refuse ce lot.

d) En utilisant le tableau ci-dessus, déterminer la plus petite valeur entière  $n$  telle que  $P(X > n) < 0,03$ .

3°) L'entreprise souhaite améliorer la qualité de la production. Pour cela on projette de changer le processus de fabrication des pièces.


On définit alors une nouvelle variable  $L_1$  qui à chaque pièce à construire selon le nouveau processus associera sa longueur en mm.

La variable aléatoire  $L_1$  suit une loi normale de moyenne  $m = 80$  et d'écart type  $\sigma'$ .

Déterminer  $\sigma'$  pour que, en prenant une pièce au hasard dans la future production, la probabilité d'obtenir une pièce conforme soit égale à 0,99.

## Exercice 2 (12 points)

Les parties A et B peuvent être traitées indépendamment l'une de l'autre.



Dans le système représenté ci-dessus,  $e$  et  $s$  sont respectivement les signaux d'entrée et de sortie, causaux (nuls pour  $t$  négatif).

On suppose que le système est régi par l'équation différentielle :

$$LC \frac{d^2 s}{dt^2}(t) + RC \frac{ds}{dt}(t) + s(t) = e(t) \quad (1).$$

$L$ ,  $R$  et  $C$  sont des constantes réelles strictement positives. De plus à l'instant initial :

$$s(0^+) = 0 \text{ et } \frac{ds}{dt}(0^+) = 0.$$

### PARTIE A

On suppose que les fonctions  $e$  et  $s$  admettent des transformées de Laplace notées respectivement  $E$  et  $S$ .

1°) La fonction de transfert  $H$  du système est définie par  $S(p) = H(p) \times E(p)$ .

En appliquant la transformation de Laplace aux deux membres de l'équation (1), exprimer  $H(p)$  en fonction de  $R$ ,  $L$  et  $C$ .

2°) On suppose que  $e(t) = \mathcal{U}(t-1) - \mathcal{U}(t-2)$

où  $\mathcal{U}$  est la fonction échelon unité : 
$$\begin{cases} \mathcal{U}(t) = 0 & \text{si } t < 0 \\ \mathcal{U}(t) = 1 & \text{si } t \geq 0 \end{cases}$$

a) Tracer la courbe représentative de la fonction  $e$  dans un repère du plan.

b) Déterminer  $E(p)$ .

3°) **Dans la suite de l'exercice, on considère que  $L = 2$ ,  $R = 1000$  et  $C = 2 \cdot 10^{-6}$ .**

a) Vérifier que 
$$H(p) = \frac{500^2}{(p+250)^2 + (250\sqrt{3})^2}.$$

b) On admet que :

$$\frac{1}{p} H(p) = \frac{1}{p} - \frac{p+250}{(p+250)^2 + (250\sqrt{3})^2} - \frac{250}{(p+250)^2 + (250\sqrt{3})^2}.$$

Déterminer l'original  $h_1$  de la fonction  $p \mapsto \frac{1}{p} H(p)$ .

Exprimer  $s(t)$  à l'aide de  $h_1(t)$ .

c) Donner l'expression de  $s(t)$  sur chacun des intervalles  $] -\infty, 1[$ ,  $[1, 2[$  et  $[2, +\infty[$ .

## PARTIE B

On rappelle que  $H(p) = \frac{500^2}{(p + 250)^2 + (250\sqrt{3})^2}$ .

1°) On considère la fonction  $r$  définie pour tout réel  $\omega > 0$  par :

$$r(\omega) = |H(j\omega)|$$

où  $j$  est le nombre complexe de module 1 et d'argument  $\frac{\pi}{2}$ .

Montrer que  $r(\omega) = \frac{500^2}{\sqrt{\omega^4 - 500^2\omega^2 + 500^4}}$ .

2°) On considère la fonction  $f$  définie pour tout réel  $\omega > 0$  par :

$$f(\omega) = \omega^4 - 500^2\omega^2 + 500^4.$$

Montrer que  $f'(\omega) = 4\omega(\omega - 250\sqrt{2})(\omega + 250\sqrt{2})$ .

3°) Montrer que  $r'(\omega)$  est du signe de  $-f'(\omega)$ .

4°) En déduire que  $r(\omega)$  est maximal pour une valeur  $\omega_0$  de  $\omega$ . Donner la valeur de  $\omega_0$  et calculer  $r(\omega_0)$ .

*La partie B permet de déterminer le maximum du gain pour le système étudié en régime harmonique.*

# FORMULAIRE DE MATHÉMATIQUES

---

## **BTS : GROUPEMENT A**

CONTROLE INDUSTRIEL ET REGULATION AUTOMATIQUE

ELECTRONIQUE

ELECTROTECHNIQUE

GENIE OPTIQUE

INFORMATIQUE ET RESEAUX POUR L'INDUSTRIE  
ET LES SERVICES TECHNIQUES

TECHNIQUES PHYSIQUES POUR L'INDUSTRIE ET LE LABORATOIRE

Plusieurs résultats figurant dans ce formulaire ne sont pas au programme de TOUTES les spécialités de BTS appartenant à ce groupement.

### 1. RELATIONS FONCTIONNELLES

$$\ln(ab) = \ln a + \ln b, \text{ où } a > 0 \text{ et } b > 0$$

$$\exp(a+b) = \exp a \times \exp b$$

$$a^t = e^{t \ln a}, \text{ où } a > 0$$

$$t^\alpha = e^{\alpha \ln t}, \text{ où } t > 0$$

$$\cos(a+b) = \cos a \cos b - \sin a \sin b$$

$$\sin(a+b) = \sin a \cos b + \cos a \sin b$$

$$\cos(2t) = 2 \cos^2 t - 1 = 1 - 2 \sin^2 t$$

$$\sin(2t) = 2 \sin t \cos t$$

$$\sin p + \sin q = 2 \sin \frac{p+q}{2} \cos \frac{p-q}{2}$$

$$\sin p - \sin q = 2 \sin \frac{p-q}{2} \cos \frac{p+q}{2}$$

$$\cos p + \cos q = 2 \cos \frac{p+q}{2} \cos \frac{p-q}{2}$$

$$\cos p - \cos q = -2 \sin \frac{p+q}{2} \sin \frac{p-q}{2}$$

$$\cos a \cos b = \frac{1}{2} [\cos(a+b) + \cos(a-b)]$$

$$\sin a \sin b = \frac{1}{2} [\cos(a-b) - \cos(a+b)]$$

$$\sin a \cos b = \frac{1}{2} [\sin(a+b) + \sin(a-b)]$$

$$e^{it} = \cos t + i \sin t$$

$$\cos t = \frac{1}{2} (e^{it} + e^{-it})$$

$$\sin t = \frac{1}{2i} (e^{it} - e^{-it})$$

$$e^{a+it} = e^{\alpha t} (\cos(\beta t) + i \sin(\beta t)), \text{ où } a = \alpha + i\beta$$

### 2. CALCUL DIFFERENTIEL ET INTEGRAL

#### a) Limites usuelles

##### Comportement à l'infini

$$\lim_{t \rightarrow +\infty} \ln t = +\infty ;$$

$$\lim_{t \rightarrow +\infty} e^t = +\infty ;$$

$$\lim_{t \rightarrow -\infty} e^t = 0 ;$$

$$\text{Si } \alpha > 0, \lim_{t \rightarrow +\infty} t^\alpha = +\infty ; \quad \text{si } \alpha < 0, \lim_{t \rightarrow +\infty} t^\alpha = 0$$

##### Croissances comparées à l'infini

$$\text{Si } \alpha > 0, \lim_{t \rightarrow +\infty} \frac{e^t}{t^\alpha} = +\infty$$

$$\text{Si } \alpha > 0, \lim_{t \rightarrow +\infty} \frac{\ln t}{t^\alpha} = 0$$

##### Comportement à l'origine

$$\lim_{t \rightarrow 0} \ln t = -\infty$$

$$\text{Si } \alpha > 0, \lim_{t \rightarrow 0} t^\alpha = 0 ; \quad \text{si } \alpha < 0, \lim_{t \rightarrow 0} t^\alpha = +\infty$$

$$\text{Si } \alpha > 0, \lim_{t \rightarrow 0} t^\alpha \ln t = 0.$$

**b) Dérivées et primitives**

Fonctions usuelles

$f(t)$	$f'(t)$	$f(t)$	$f'(t)$
$\ln t$	$\frac{1}{t}$	Arc sin $t$	$\frac{1}{\sqrt{1-t^2}}$
$e^t$	$e^t$	Arc tan $t$	$\frac{1}{1+t^2}$
$t^\alpha$ ( $\alpha \in \mathbb{R}$ )	$\alpha t^{\alpha-1}$	$e^{at}$ ( $a \in \mathbb{C}$ )	$ae^{at}$
$\sin t$	$\cos t$		
$\cos t$	$-\sin t$		
$\tan t$	$\frac{1}{\cos^2 t} = 1 + \tan^2 t$		

Opérations

$$(u + v)' = u' + v'$$

$$(ku)' = k u'$$

$$(uv)' = u'v + uv'$$

$$\left(\frac{1}{u}\right)' = -\frac{u'}{u^2}$$

$$\left(\frac{u}{v}\right)' = \frac{u'v - uv'}{v^2}$$

$$(v \circ u)' = (v' \circ u)u'$$

$$(e^u)' = e^u u'$$

$$(\ln u)' = \frac{u'}{u}, \quad u \text{ à valeurs strictement positives}$$

$$(u^\alpha)' = \alpha u^{\alpha-1} u'$$

**c) Calcul intégral**

Valeur moyenne de  $f$  sur  $[a, b]$  :

$$\frac{1}{b-a} \int_a^b f(t) dt$$

Intégration par parties :

$$\int_a^b u(t) v'(t) dt = [u(t)v(t)]_a^b - \int_a^b u'(t) v(t) dt$$

**d) Développement limités**

$$e^t = 1 + \frac{t}{1!} + \frac{t^2}{2!} + \dots + \frac{t^n}{n!} + t^n \varepsilon(t)$$

$$\frac{1}{1+t} = 1 - t + t^2 - \dots + (-1)^n t^n + t^n \varepsilon(t)$$

$$\ln(1+t) = t - \frac{t^2}{2} + \frac{t^3}{3} - \dots + (-1)^{n-1} \frac{t^n}{n} + t^n \varepsilon(t)$$

$$\sin t = \frac{t}{1!} - \frac{t^3}{3!} + \frac{t^5}{5!} - \dots + (-1)^p \frac{t^{2p+1}}{(2p+1)!} + t^{2p+1} \varepsilon(t)$$

$$\cos t = 1 - \frac{t^2}{2!} + \frac{t^4}{4!} - \dots + (-1)^p \frac{t^{2p}}{(2p)!} + t^{2p} \varepsilon(t)$$

$$(1+t)^\alpha = 1 + \frac{\alpha}{1!} t + \frac{\alpha(\alpha-1)}{2!} t^2 + \dots + \frac{\alpha(\alpha-1)\dots(\alpha-n+1)}{n!} t^n + t^n \varepsilon(t)$$

**e) Equations différentielles**

Équations	Solutions sur un intervalle I
$a(t)x' + b(t)x = 0$	$f(t) = ke^{-G(t)}$ où $G$ est une primitive de $t \mapsto \frac{b(t)}{a(t)}$
$ax'' + bx' + cx = 0$	Si $\Delta > 0$ , $f(t) = \lambda e^{r_1 t} + \mu e^{r_2 t}$ ..... où $r_1$ et $r_2$ sont les racines de l'équation caractéristique
équation caractéristique :	Si $\Delta = 0$ , $f(t) = (\lambda t + \mu)e^{rt}$ ..... où $r$ est la racine double de l'équation caractéristique
$ar^2 + br + c = 0$	Si $\Delta < 0$ , $f(t) = [\lambda \cos(\beta t) + \mu \sin(\beta t)]e^{\alpha t}$ où $r_1 = \alpha + i\beta$ et $r_2 = \alpha - i\beta$ sont les racines complexes conjuguées de l'équation caractéristique.
de discriminant $\Delta$	

### 3. SERIES DE FOURIER

$f$ : fonction périodique de période  $T$ ;

développement en série de Fourier :

$$s(t) = a_0 + \sum_{n=1}^{+\infty} (a_n \cos(n\omega t) + b_n \sin(n\omega t)) = \sum_{k=-\infty}^{+\infty} c_k e^{ik\omega t}, \quad (n \in \mathbb{N}^*, k \in \mathbb{Z}).$$

$$a_0 = \frac{1}{T} \int_a^{a+T} f(t) dt; \quad a_n = \frac{2}{T} \int_a^{a+T} f(t) \cos(n\omega t) dt; \quad b_n = \frac{2}{T} \int_a^{a+T} f(t) \sin(n\omega t) dt.$$

$$c_k = \frac{1}{T} \int_a^{a+T} f(t) e^{-ik\omega t} dt \quad (k \in \mathbb{Z}); \quad c_0 = a_0; \quad \frac{a_n - ib_n}{2} = c_n; \quad \frac{a_n + ib_n}{2} = c_{-n} \quad (n \in \mathbb{N}^*).$$

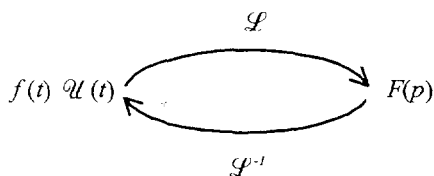
### 4. TRANSFORMATION DE LAPLACE

Fonctions usuelles

$$\mathcal{L}(\mathcal{U}(t)) = \frac{1}{p}; \quad \mathcal{L}(t^n \mathcal{U}(t)) = \frac{1}{p^{n+1}}; \quad \mathcal{L}(t^n \mathcal{U}(t)) = \frac{n!}{p^{n+1}} \quad (n \in \mathbb{N});$$

$$\mathcal{L}(e^{-at} \mathcal{U}(t)) = \frac{1}{p+a}; \quad \mathcal{L}(\sin(\omega t) \mathcal{U}(t)) = \frac{\omega}{p^2 + \omega^2}; \quad \mathcal{L}(\cos(\omega t) \mathcal{U}(t)) = \frac{p}{p^2 + \omega^2}.$$

Propriétés



$f(\alpha t) \mathcal{U}(t) \quad \alpha > 0$	$\frac{1}{\alpha} F\left(\frac{p}{\alpha}\right)$
$f(t-\tau) \mathcal{U}(t-\tau)$	$F(p) e^{-\tau p}$
$f(t) e^{-at} \mathcal{U}(t)$	$F(p+a)$
$f'(t) \mathcal{U}(t)$	$pF(p) - f(0^+)$
$f''(t) \mathcal{U}(t)$	$p^2 F(p) - p f(0^+) - f'(0^+)$
$-t f(t) \mathcal{U}(t)$	$F'(p)$
$\int_0^t f(u) \mathcal{U}(u) du$	$\frac{F(p)}{p}$



5. TRANSFORMATION EN Z

Signal causal $n \mapsto x(n)$ pour $n \in \mathbb{N}$	Transformée en Z $z \mapsto (Zx)(z)$
$e(n) = 1$	$(Ze)(z) = \frac{z}{z-1}$
$\begin{cases} d(0) = 1 \\ d(n) = 0 \text{ si } n \neq 0 \end{cases}$	$(Zd)(z) = 1$
$r(n) = n$	$(Zr)(z) = \frac{z}{(z-1)^2}$
$c(n) = n^2$	$(Zc)(z) = \frac{z(z+1)}{(z-1)^3}$
$f(n) = a^n, a \in \mathbb{R} - \{0\}$	$(Zf)(z) = \frac{z}{z-a}$
$y(n) = a^n x(n), a \in \mathbb{R} - \{0\}$	$(Zy)(z) = (Zx)\left(\frac{z}{a}\right)$
$y(n) = x(n-n_0), (n-n_0) \in \mathbb{N}$ ou $y(n) = x(n-n_0)e(n-n_0)$	$(Zy)(z) = z^{-n_0} (Zx)(z)$
$y(n) = x(n+1)$	$(Zy)(z) = z[(Zx)(z) - x(0)]$
$y(n) = x(n+2)$	$(Zy)(z) = z^2[(Zx)(z) - x(0) - x(1)z^{-1}]$
$y(n) = x(n+n_0), n_0 \in \mathbb{N}^*$	$(Zy)(z) = z^{n_0} [(Zx)(z) - x(0) - x(1)z^{-1} - x(2)z^{-2} \dots - x(n_0-1)z^{-(n_0-1)}]$

6. **PROBABILITES**

a) **Loi binomiale**  $P(X = k) = C_n^k p^k q^{n-k}$  où  $C_n^k = \frac{n!}{k!(n-k)!}$  ;  $E(X) = np$  ;  $\sigma(X) = \sqrt{npq}$

b) **Loi de Poisson**

$$P(X = k) = \frac{e^{-\lambda} \lambda^k}{k!}$$

$$E(X) = \lambda$$

$$V(X) = \lambda$$

$k \backslash \lambda$	0,2	0,3	0,4	0,5	0,6
0	0,8187	0,7408	0,6703	0,6065	0,5488
1	0,1637	0,2222	0,2681	0,3033	0,3293
2	0,0164	0,0333	0,0536	0,0758	0,0988
3	0,0011	0,0033	0,0072	0,0126	0,0198
4	0,0000	0,0003	0,0007	0,0016	0,0030
5		0,0000	0,0001	0,0002	0,0004
6			0,0000	0,0000	0,0000

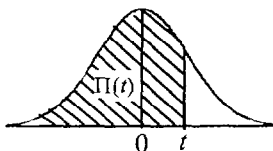
$k \backslash \lambda$	1	1,5	2	3	4	5	6	7	8	9	10
0	0.368	0.223	0.135	0.050	0.018	0.007	0.002	0.001	0.000	0.000	0.000
1	0.368	0.335	0.271	0.149	0.073	0.034	0.015	0.006	0.003	0.001	0.000
2	0.184	0.251	0.271	0.224	0.147	0.084	0.045	0.022	0.011	0.005	0.002
3	0.061	0.126	0.180	0.224	0.195	0.140	0.089	0.052	0.029	0.015	0.008
4	0.015	0.047	0.090	0.168	0.195	0.176	0.134	0.091	0.057	0.034	0.019
5	0.003	0.014	0.036	0.101	0.156	0.176	0.161	0.128	0.092	0.061	0.038
6	0.001	0.004	0.012	0.050	0.104	0.146	0.161	0.149	0.122	0.091	0.063
7	0.000	0.001	0.003	0.022	0.060	0.104	0.138	0.149	0.140	0.117	0.090
8		0.000	0.001	0.008	0.030	0.065	0.103	0.130	0.140	0.132	0.113
9			0.000	0.003	0.013	0.036	0.069	0.101	0.124	0.132	0.125
10				0.001	0.005	0.018	0.041	0.071	0.099	0.119	0.125
11				0.000	0.002	0.008	0.023	0.045	0.072	0.097	0.114
12					0.001	0.003	0.011	0.026	0.048	0.073	0.095
13					0.000	0.001	0.005	0.014	0.030	0.050	0.073
14						0.000	0.002	0.007	0.017	0.032	0.052
15							0.001	0.003	0.009	0.019	0.035
16							0.000	0.001	0.005	0.011	0.022
17								0.001	0.002	0.006	0.013
18								0,000	0,001	0,003	0,007
19									0,000	0,001	0,004
20										0,001	0,002
21										0,000	0,001
22											0,000

c) Loi normale

La loi normale centrée réduite est caractérisée par la densité de probabilité :  $f(x) = \frac{1}{\sqrt{2\pi}} e^{-\frac{x^2}{2}}$

EXTRAITS DE LA TABLE DE LA FONCTION INTEGRALE DE LA LOI NORMALE CENTREE, REDUITE  $\mathcal{N}(0,1)$

$$\Pi(t) = P(T \leq t) = \int_{-\infty}^t f(x) dx$$



t	0,00	0,01	0,02	0,03	0,04	0,05	0,06	0,07	0,08	0,09
0,0	0,500 0	0,504 0	0,508 0	0,512 0	0,516 0	0,519 9	0,523 9	0,527 9	0,531 9	0,535 9
0,1	0,539 8	0,543 8	0,547 8	0,551 7	0,555 7	0,559 6	0,563 6	0,567 5	0,571 4	0,575 3
0,2	0,579 3	0,583 2	0,587 1	0,591 0	0,594 8	0,598 7	0,602 6	0,606 4	0,610 3	0,614 1
0,3	0,617 9	0,621 7	0,625 5	0,629 3	0,633 1	0,636 8	0,640 6	0,644 3	0,648 0	0,651 7
0,4	0,655 4	0,659 1	0,662 8	0,666 4	0,670 0	0,673 6	0,677 2	0,680 8	0,684 4	0,687 9
0,5	0,691 5	0,695 0	0,698 5	0,701 9	0,705 4	0,708 8	0,712 3	0,715 7	0,719 0	0,722 4
0,6	0,725 7	0,729 0	0,732 4	0,735 7	0,738 9	0,742 2	0,745 4	0,748 6	0,751 7	0,754 9
0,7	0,758 0	0,761 1	0,764 2	0,767 3	0,770 4	0,773 4	0,776 4	0,779 4	0,782 3	0,785 2
0,8	0,788 1	0,791 0	0,793 9	0,796 7	0,799 5	0,802 3	0,805 1	0,807 8	0,810 6	0,813 3
0,9	0,815 9	0,818 6	0,821 2	0,823 8	0,825 4	0,828 9	0,831 5	0,834 0	0,836 5	0,838 9
1,0	0,841 3	0,843 8	0,846 1	0,848 5	0,850 8	0,853 1	0,855 4	0,857 7	0,859 9	0,862 1
1,1	0,864 3	0,866 5	0,868 6	0,870 8	0,872 9	0,874 9	0,877 0	0,879 0	0,881 0	0,883 0
1,2	0,884 9	0,886 9	0,888 8	0,890 7	0,892 5	0,894 4	0,896 2	0,898 0	0,899 7	0,901 5
1,3	0,903 2	0,904 9	0,906 6	0,908 2	0,909 9	0,911 5	0,913 1	0,914 7	0,916 2	0,917 7
1,4	0,919 2	0,920 7	0,922 2	0,923 6	0,925 1	0,926 5	0,927 9	0,929 2	0,930 6	0,931 9
1,5	0,933 2	0,934 5	0,935 7	0,937 0	0,938 2	0,939 4	0,940 6	0,941 8	0,942 9	0,944 1
1,6	0,945 2	0,946 3	0,947 4	0,948 4	0,949 5	0,950 5	0,951 5	0,952 5	0,953 5	0,954 5
1,7	0,955 4	0,956 4	0,957 3	0,958 2	0,959 1	0,959 9	0,960 8	0,961 6	0,962 5	0,963 3
1,8	0,964 1	0,964 9	0,965 6	0,966 4	0,967 1	0,967 8	0,968 6	0,969 3	0,969 9	0,970 6
1,9	0,971 3	0,971 9	0,972 6	0,973 2	0,973 8	0,974 4	0,975 0	0,975 6	0,976 1	0,976 7
2,0	0,977 2	0,977 9	0,978 3	0,978 8	0,979 3	0,979 8	0,980 3	0,980 8	0,981 2	0,981 7
2,1	0,982 1	0,982 6	0,983 0	0,983 4	0,983 8	0,984 2	0,984 6	0,985 0	0,985 4	0,985 7
2,2	0,986 1	0,986 4	0,986 8	0,987 1	0,987 5	0,987 8	0,988 1	0,988 4	0,988 7	0,989 0
2,3	0,989 3	0,989 6	0,989 8	0,990 1	0,990 4	0,990 6	0,990 9	0,991 1	0,991 3	0,991 6
2,4	0,991 8	0,992 0	0,992 2	0,992 5	0,992 7	0,992 9	0,993 1	0,993 2	0,993 4	0,993 6
2,5	0,993 8	0,994 0	0,994 1	0,994 3	0,994 5	0,994 6	0,994 8	0,994 9	0,995 1	0,995 2
2,6	0,995 3	0,995 5	0,995 6	0,995 7	0,995 9	0,996 0	0,996 1	0,996 2	0,996 3	0,996 4
2,7	0,996 5	0,996 6	0,996 7	0,996 8	0,996 9	0,997 0	0,997 1	0,997 2	0,997 3	0,997 4
2,8	0,997 4	0,997 5	0,997 6	0,997 7	0,997 7	0,997 8	0,997 9	0,997 9	0,998 0	0,998 1
2,9	0,998 1	0,998 2	0,998 2	0,998 3	0,998 4	0,998 4	0,998 5	0,998 5	0,998 6	0,998 6

TABLE POUR LES GRANDES VALEURS DE t

t	3,0	3,1	3,2	3,3	3,4	3,5	3,6	3,8	4,0	4,5
$\Pi(t)$	0,998 65	0,999 04	0,999 31	0,999 52	0,999 66	0,999 76	0,999 841	0,999 928	0,999 968	0,999 997

Nota :  $\Pi(-t) = 1 - \Pi(t)$