

baccalauréat professionnel

AMENAGEMENT-FINITION

sous-épreuve C2-U23

ANALYSE FORMELLE ET ARCHITECTURALE

1/6	Page de garde	
2/6	1 Repérage	/ 3 points
3/6	2 Observation	/ 4 points
4/6	3 Analyse	/ 6 points
5/6	4 Réalisation graphique	/ 7 points
6/6	Realisation graphique	
	TOTAL	/ 20 POINTS

RENDRE L'ENSEMBLE DU DOSSIER À LA FIN DE L'ÉPREUVRE.

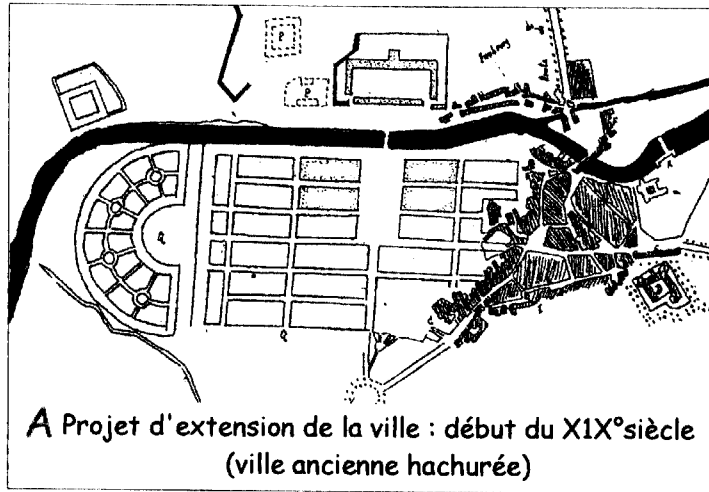
durée:2 heures
coefficient:1

session	code	feuille
2004	E2-C2	1 / 6

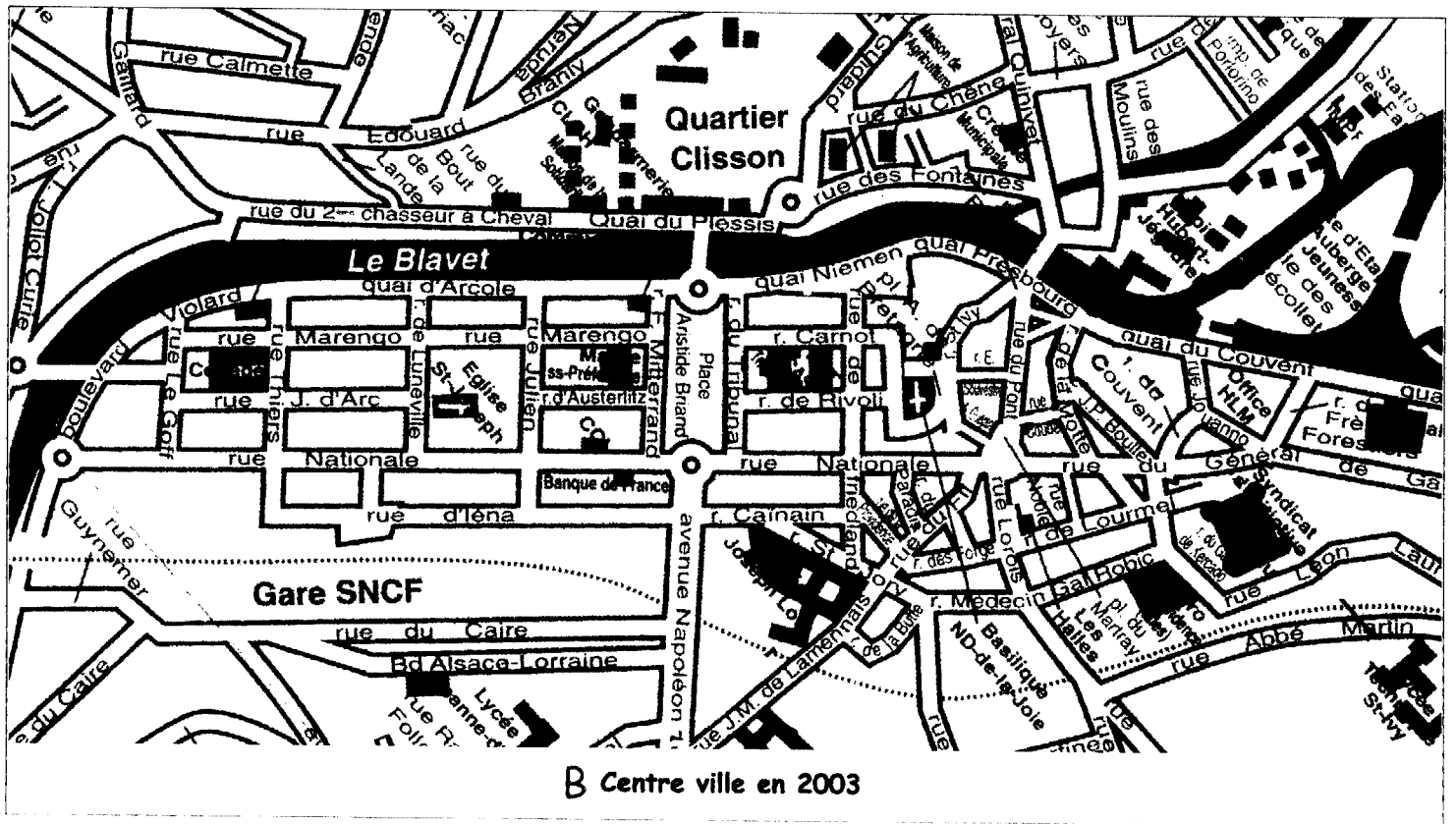
0406 .AF TC

1 Repérage

Village de 3400 habitants à la fin du XVIII^e siècle,
 cette ville de 15000 habitants en 2003 doit son essor à NAPOLEON.
 Craignant une attaque des Anglais, celui-ci décida ,dès le début du XIX^e siècle d'y implanter
 une garnison et d'en faire une Sous-Préfecture.
 Après un siècle de travaux, longtemps après la mort de NAPOLEON (1821) ,
 le projet est inachevé .



A Projet d'extension de la ville : début du XIX^e siècle
 (ville ancienne hachurée)



B Centre ville en 2003

Observez bien ces 2 plans..





- Sur le plan B (2003) , coloriez : en rouge , la zone la plus ancienne de la ville ;
 en jaune , la zone où des constructions décidées au début du XIX^e siècle ont été réalisées.
- Sur le plan A , en bleu , ce qui était prévu et non réalisé .

3 points

session	code	feuille
2004	E2-C2	2 / 6

2 Observation

D'après vous, à quelle période de construction correspondent ou font référence les quatre bâtiments proposés ? Cochez la bonne réponse.

Bâtiments	avant le XIX ^e siècle	au XIX ^e siècle	après le XIX ^e siècle
			
			
			
			

4 points

session	code	feuille
2004	E2-C2	3 / 6

0406. AF TC

3 Analyse

Y-a-t'il un point commun entre ces trois documents ?


OUI / NON ,entourez votre réponse .Si oui lequel ?.....



De quelle époque s'inspire cette architecture ?

Relevez 3 éléments architecturaux caractéristiques de cette époque

nommez et dessinez l'un d'entre eux



Quelles sont les fonctions de ce type d'assemblage?



Quels sont les matériaux employés pour la construction de ce bâtiment ?

offrent t'ils des avantages ?
OUI / NON
si oui lesquels?



6 points

session	code	feuille
2004	E2-C2	4 / 6

0406. AF TC

4 Réalisation graphique

Les maisons à pans de bois offrent un répertoire varié de formes géométriques ,
exemples ci-dessous :



Relevez 4 formes géométriques issues de ces exemples que vous combinerez en choisissant au moins 2 principes décoratifs parmi les 6 suivants :

- répétition ,
- alternance ,
- inversion ,
- superposition ,
- symétrie ,
- dissymétrie .

(Rayez les principes décoratifs non retenus) .

Aux crayons de couleur ,
vous proposerez , pour cet avant projet , une harmonie colorée :

ambiance chaude avec une pointe de couleur complémentaire .

ou

ambiance froide avec une pointe de couleur complémentaire .

Vous pouvez garder des parties blanches .

Rayez la solution non retenue .

Vous réaliserez ce travail dans le rectangle de la feuille 6 / 6

7 points	session	code	feuille
	2004	E2-C2	5 / 6

0406. AF TC



session	code	feuille
2004	E2-C2	6/6

0406.AF TC