

« SIGNES TRIBAUX »

A l'occasion d'une réception prévue pour un grand groupe de Rock, l'organisateur de la soirée souhaite une décoration pour un plat original faisant référence au style du groupe.

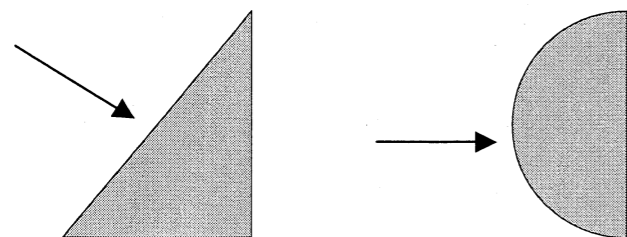
Vous lui proposez un fond de plat géométrique de forme triangulaire ou circulaire sur le thème des **signes tribaux**.

En vous inspirant des exemples de signes ci-contre, vous devez créer votre propre signe « tribal ». Il doit être symétrique. Pour ce faire, on vous demande :

1- de rechercher dans le demi triangle ou dans le demi cercle dessinés sur le folio 2/2 (partie gauche), la moitié de votre signe (le motif doit occuper tout l'espace proposé).

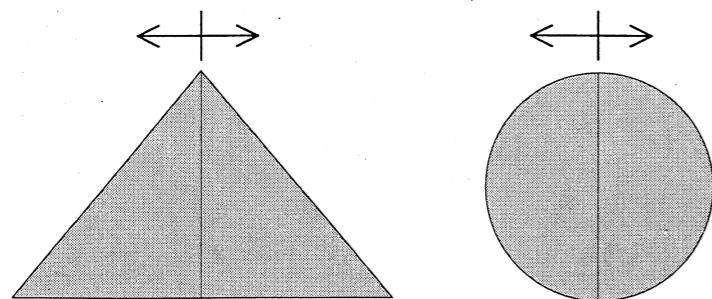
Réalisation au crayon HB.

Parties à occuper :



2- de décalquer votre recherche et de la mettre en situation sur le plat (moitié de triangle ou moitié de cercle) folio 2/2 (partie droite).

3- de réaliser la mise en symétrie avec le papier calque pour reconstituer l'ensemble du signe. Réalisation au crayon HB puis au feutre noir .



Évaluation :

Recherches :

Prise en compte des exemples et respect des consignes.....10 points

Mise en situation :

Respect de la symétrie..... 4 points

Qualités graphique et technique.....6 points



B.E.P.
C.A.P.

Spécialité : alimentation dominante charcutier traiteur

code Spécialité : 51 22 104

Durée :
1h

Session :
2004

Épreuve : EP2 : Arts appliqués.

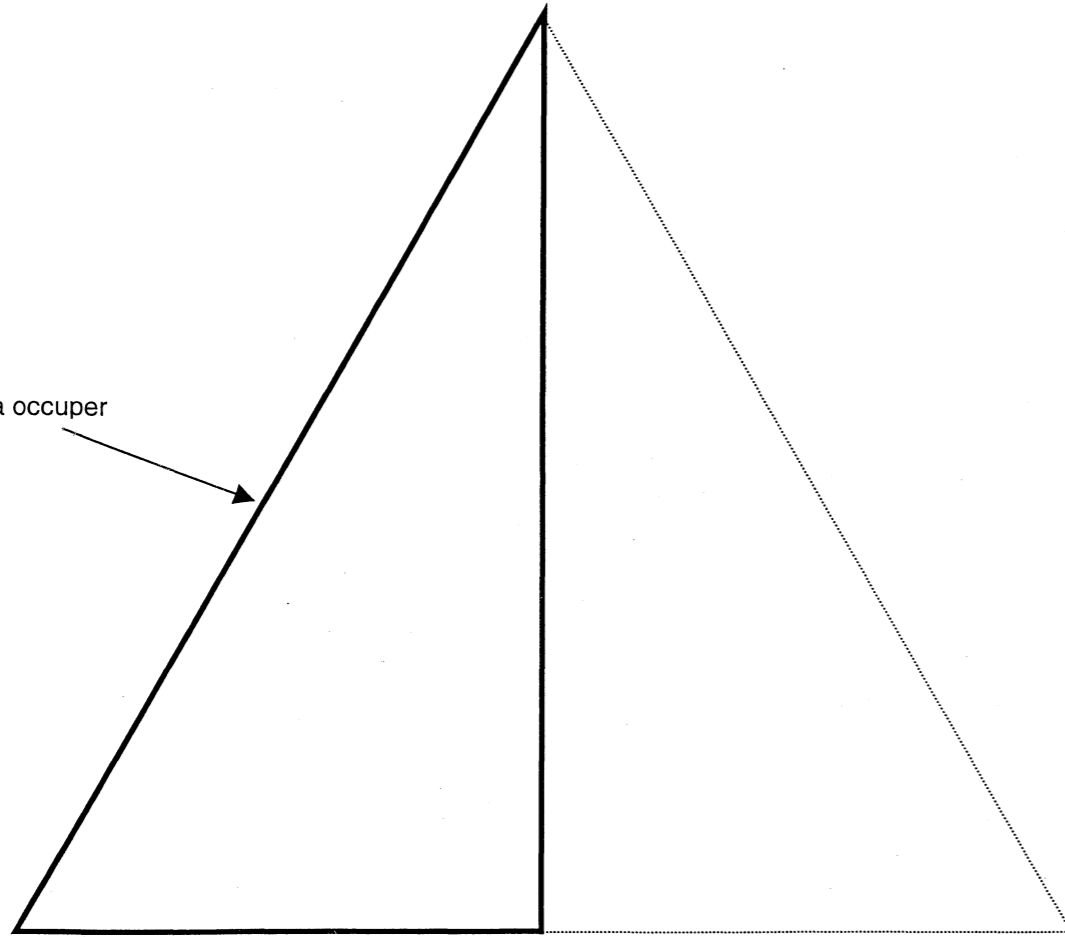
N° Sujet : 04 2068

Coefficient:
4 points

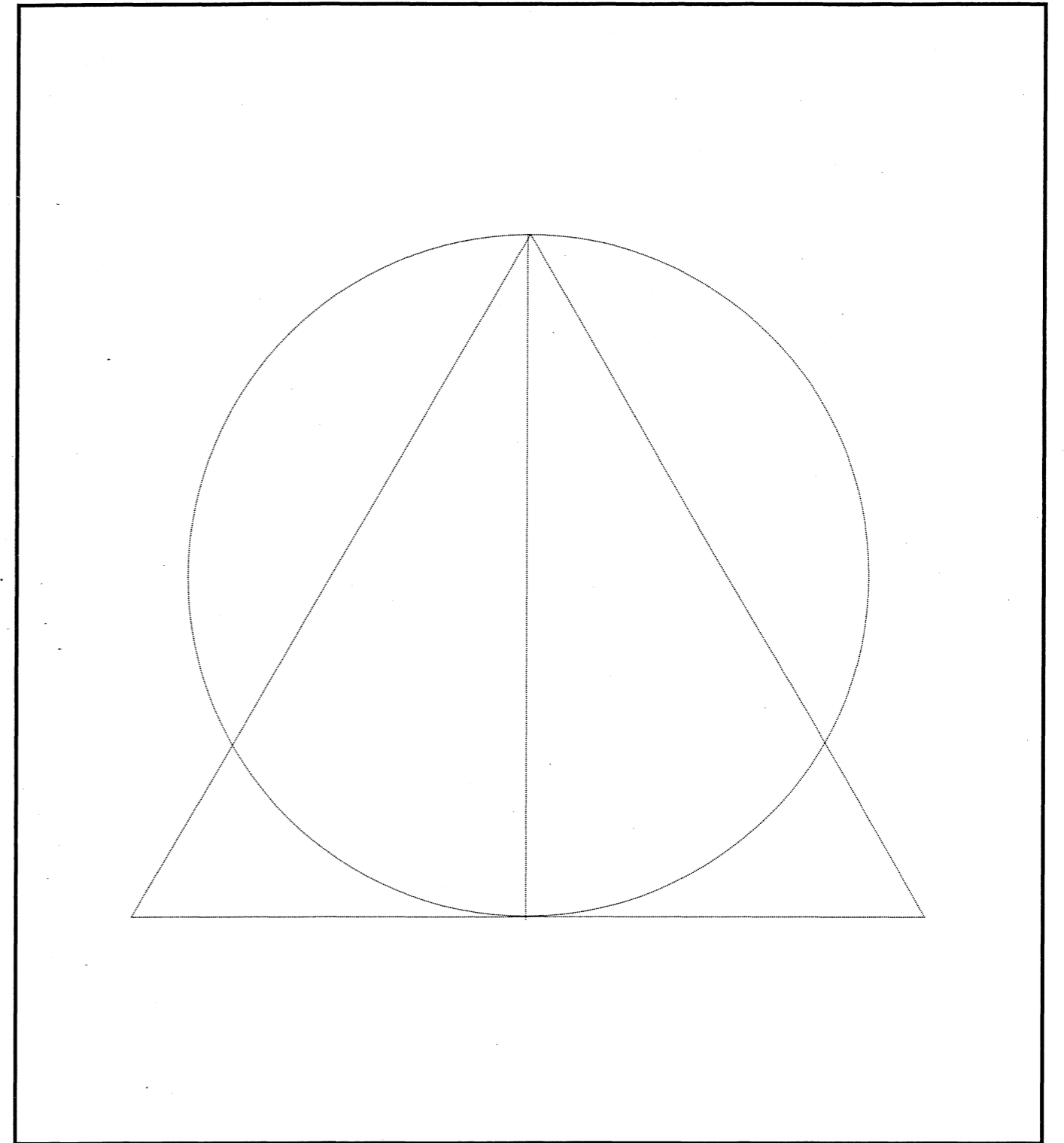
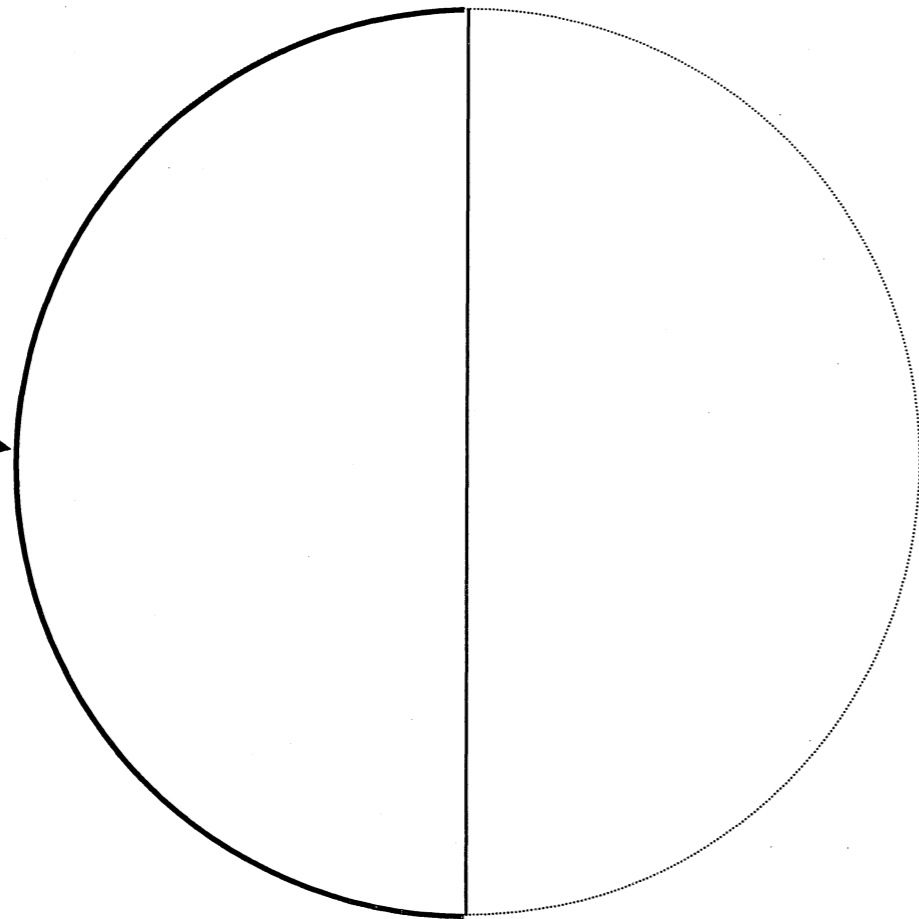
Folio
1 / 2

Mise en situation

Partie à occuper



Partie à occuper



B.E.P.
C.A.P.

Spécialité : alimentation dominante charcutier traiteur
Code Spécialité : 51 22 104

Durée :
1h

Session :
2004

Épreuve : EP2 : Arts appliqués

N° Sujet : 04 2068

Coefficient:
4 points

Folio
2 / 2