

C.A.P. DE TAILLEUR DE PIERRE ET MARBRIER DU BATIMENT ET DE DECORATION

Epreuve : EP3 Réalisation de tracés professionnels

Durée : 4h

Coef. : 4

Travail à réaliser :

Recherche de panneau de joint, profil(s), contre-profils

On donne :

- Le plan de l'élément à réaliser
- Une feuille de papier Canson
- Une feuille de zinc
- Une feuille de polyester

On demande :

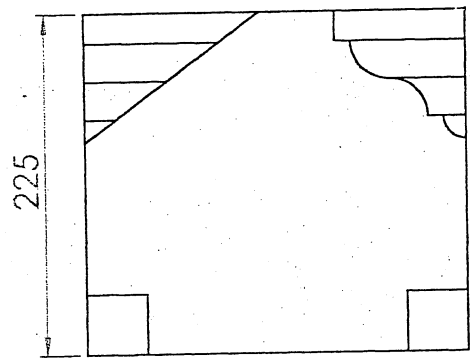
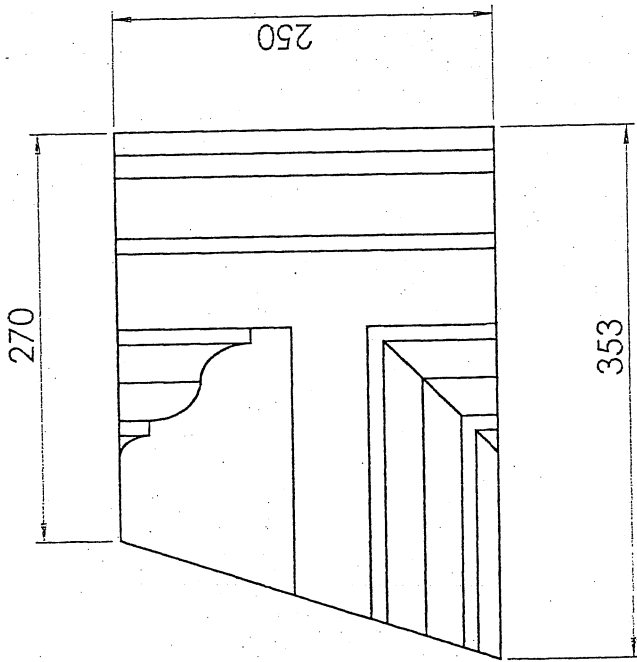
- De réaliser (pour le principe) à l'échelle $\frac{1}{2}$, la recherche du panneau de joint J1 en laissant apparent tous les tracés
- De réaliser le(s) profil(s) nécessaires à la taille
- De réaliser tous les contre-profils nécessaires à la taille

On exige :

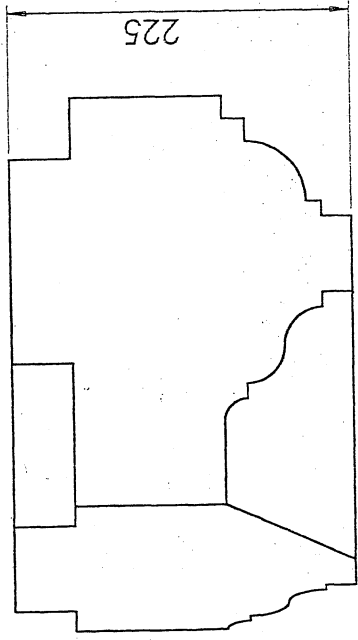
- Que le principe de la recherche vraie grandeur du panneau de joint J1 soit précis et que les constructions soient apparentes et justes
- Que le(s) profil(s) soit conforme au plan
- Que tous les contre-profils soient conformes au profil

LE DOSSIER EST A RENDRE AGRAFÉ DANS UNE COPIE ANONYMÉE MODÈLE E.N

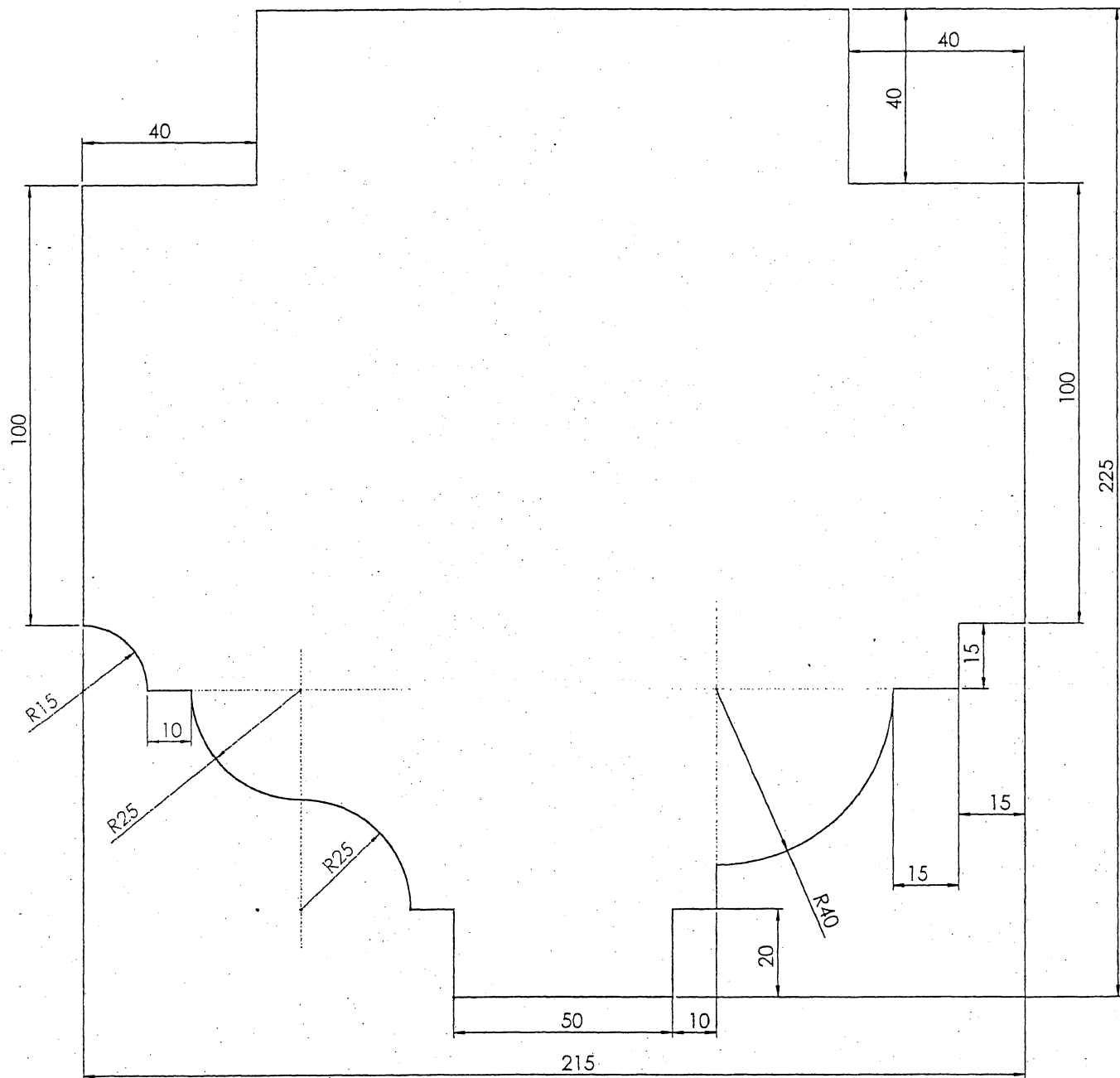
C.A.P. DE TAILLEUR DE PIERRE ET MARBRIER DU BATIMENT ET DE DECORATION		
EP3 Réalisation de tracés professionnels	Durée : 4H	Coeff. : 4
Session : 2004	50 23206	1/3



les arêtes cachées ne sont pas représentées



C.A.P. DE TAILLEUR DE PIERRE ET MARBRIER DU BATIMENT ET DE DECORATION		
EP3 Réalisation de tracés professionnels	Durée : 4H	Coeff. : 4
Session : 2004	50 23206	2/3



C.A.P. DE TAILLEUR DE PIERRE et MARBRIER DU BATIMENT ET DE DECORATION		
EP3 Réalisation de tracés professionnels	Durée : 4H	Coeff. :4
Session : 2004	50 23206	3/3