
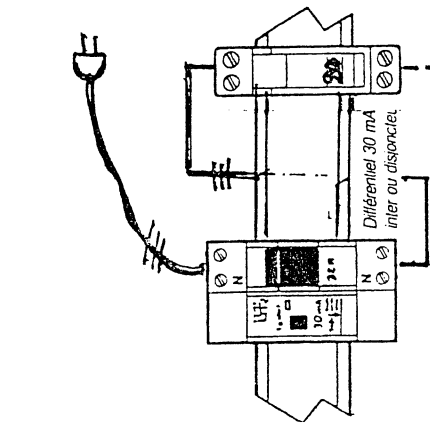


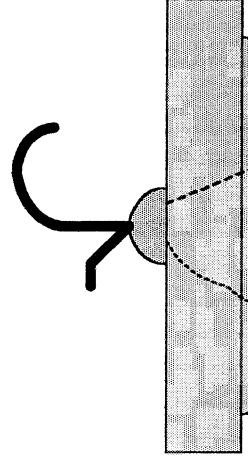
DOCUMENT POUR LE CANDIDAT

Pose : d'un disjoncteur différentiel 30mA et d'un sectionneur à fusible de 20A et réaliser les différents raccordements électriques en 2,5 mm²



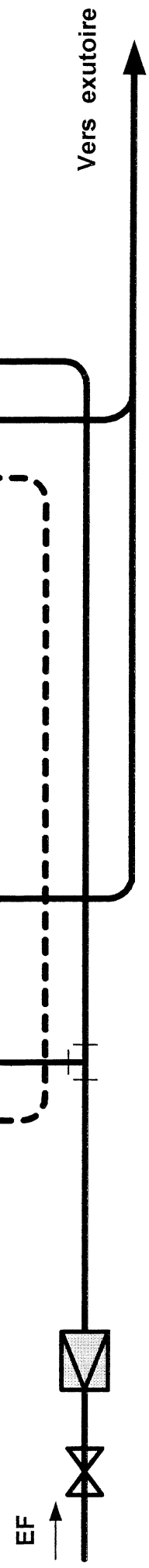
Pose : d'un G.S d'un robinet d'arrêt, d'un réducteur de pression muni d'un manomètre pour les réglages

Pose d' un:
Accumulateur E.C.S
Electrique de 50 ou 75 L



Pose d'un lavabo
avec mitigeur
mécanique

Prévoir un G.S supplémentaire pour un éventuel remplacement



C.A.P INSTALLATEUR SANITAIRE	Session 2004	E.P.3 Contrôle et mise en Service	coef : 4	Sujet N°04-121	Folio 1/5
------------------------------	--------------	-----------------------------------	----------	----------------	-----------

N° DU CANDIDAT : NOTE : / 20

SITUATION D'EVALUATION N° 1 (temps alloué : 2 heures)

- On met à votre disposition :

Un plan de l'installation

Une installation conforme au plan

- Vous devez :

Vérifier en continuité (ohmmètre) les différents éléments électriques de cette installation (ex : fusible - thermostat - résistance etc)

DYSFONCTIONNEMENT(S) DECELE(S)

/ 15 points

**DECRIEZ LES OPERATIONS CHRONOLOGIQUEMENT
POUR LA MISE EN SERVICE**

/ 5 points

C.A.P INSTALLATEUR SANITAIRE	coef : 4	Session 2004
E.P.3 Contrôle et mise en Service	Sujet N° 04-121	Folio 2/5

N° DU CANDIDAT : NOTE : /20

SITUATION D'EVALUATION N° 2 (temps alloué : 2 heures)

- On met à votre disposition :

Un plan de l'installation

Une installation conforme au plan

- Vous devez :

Couper l'eau , vidanger, démonter la trappe d'accès, simuler un détartrage

remonter correctement l'ensemble, et faire les essais

TRAVAUX REALISES

/ 15 points

**DECRIVEZ LES OPERATIONS CHRONOLOGIQUEMENT
POUR LA MISE EN SERVICE**

/ 5 points

C.A.P INSTALLATEUR SANITAIRE	coef : 4	Session 2004
E.P.3 Contrôle et mise en Service	Sujet N° 04-121	Folio 3/5

N° DU CANDIDAT : NOTE : /20

SITUATION D'EVALUATION N° 3 (temps alloué : 2 heures)

- On met à votre disposition :

Un plan de l'installation

Une installation conforme au plan

- Vous devez :

Remplacer le G.S , réaliser les essais

et consigner les opérations sur le document

TRAVAUX REALISES

/ 15 points

**DECRIEZ LES OPERATIONS CHRONOLOGIQUEMENT
POUR LA MISE EN SERVICE**

/ 5 points

C.A.P INSTALLATEUR SANITAIRE	coef : 4	Session 2004
E.P.3 Contrôle et mise en Service	Sujet N° 04-121	Folio 4/5

N° DU CANDIDAT : NOTE : /20

SITUATION D'EVALUATION N° 4 (temps alloué : 2 heures)

- On met à votre disposition :

- Un plan de l'installation
- Une installation conforme au plan

- Vous devez :

Régler la pression ex : (2,5 bar) la pression du réseau étant par ex : (4 bar)
vérifier après différents puisages . Consigner les différentes opérations

REGLAGE REALISE / 15 points

**DECRIEZ LES OPERATIONS CHRONOLOGIQUEMENT
POUR LA MISE SERVICE / 5 points**

C.A.P INSTALLATEUR SANITAIRE	coef : 4	Session 2004
E.P.3 Contrôle et mise en Service	Sujet N°04-121	Folio 5/5