

# CORRIGÉ

**Ces éléments de correction n'ont qu'une valeur indicative. Ils ne peuvent en aucun cas engager la responsabilité des autorités académiques, chaque jury est souverain.**

CERTIFICAT D'APTITUDE PROFESSIONNELLE  
PEINTRE APPLICATEUR DE REVETEMENT

EPREUVE EP1 Ecrit: Analyse d'une situation professionnelle


# DOSSIER CORRIGE

Ce dossier contient les documents :  
2/7 ; 3/7 ; 4/7 ; 5/7 ; 6/7 et 7/7

- ⇒ Votre entreprise doit intervenir dans cette construction pour exécuter les travaux de finition intérieure demandés par le client.
- ⇒ Vous interviendrez personnellement sur deux postes de travail : la porte d'entrée et la chambre 2.
- ⇒ En vous aidant du dossier ressource et en faisant appel à vos connaissances professionnelles complétez ce dossier de travail.





CODES	ON DONNE	ON DEMANDE	ON EXIGE	PTS
C1.2	Plan de masse 2/13	Lire et indiquer l'échelle du plan de masse ... 1/200 ...	Ecriture normalisée	0 ou 1
		Lire et indiquer la superficie du terrain lot 26 ... 1090 m2 ... M2	Surface exacte	0 ou 1
C1.2	Plan de masse 2/13 Rez de chaussée 3/13	Indiquer l'orientation géographique de : <input type="checkbox"/> La CH2 : .....SUD  <input type="checkbox"/> La porte d'entrée : ...NORD	Aucune erreur Indication des noms en toutes lettres	0 à 2
C1.2	Les plans architecte Tous les documents graphiques	Etablir la correspondance entre les lettres majuscules et les chiffres représentant le même détail de construction exemple : E=10 F=11 ..... G=... 12 ..... H=13 ..... J=... 14 .....	Aucune erreur	0 à 4
C1.2	Les plans architecte Le plan des combles et façades	Nommer les éléments simples de construction repérés par une lettre dans un cercle. L=tableau..... M=faîtage.... V=fenêtre de toit.....R=...volet roulant.....	Les noms sont exacts	0 à 4
C2.3	Rez de chaussée 3/13	Le sol du garage devant être peint avec une peinture spéciale, on vous demande d'en déterminer sa surface. 6.56x4.00 ..... surface du garage =26.24 ..... m2	10° d'erreur en plus sur les quantités	0 ou 2
C1.2	R.d.ch ; combles ; coupe AA	rechercher la hauteur de l'allège des fenêtres des chambre 2 et 3 Allège =... 1.00m .....	Hauteur exacte	0 ou 1
C1.2	Rez de chaussée ; coupe AA	Quelle est la hauteur sous plafond du hall d'entrée ? 2.50 ..... m		0 ou 1





*Laissé à l'appréciation des correcteurs*

<b>CODES</b>	<b>ON DONNE</b>	<b>ON DEMANDE</b>	<b>ON EXIGE</b>	<b>PTS</b>
C1.2	Le descriptif 8/13-9/13 La fiche technique 11/13	Quelle opération devrez-vous effectuer sur la porte d'entrée avant l'application du lasure ? <u>Réponse</u> : <b>Dégraisser</b>	Le nom de l'opération est donné	0 ou 3
C1.2	La fiche technique 11/13	Donnez deux avantages présentés par un lasure. <u>Réponse</u> : avantages : <b>excellente protection anti-U .V.</b> <b>Grande souplesse</b> <b>Microporeux</b> <b>Application aisée</b> <b>Protection durable et efficace</b>	Deux avantages sont donnés.	0 à 2 0 à 2
C1.2	La fiches technique 11/13 Connaissances professionnelles	Il est indiqué que le lasure est microporeux. Que signifie ce terme ? <u>Réponse</u> : <b>permet une application sur bois contenant 20% d'humidité maxi</b> <b>Permet les échanges de vapeur,laisse respirer le support</b>	Une explication claire et brève est donnée.	0 à 5
C 2.1	Le descriptif 8/13-9/13 La fiche technique 12/13	Quel type de revêtement est-il prévu de poser sur les murs de la chambre 2 ? <u>Réponse</u> : <b>revêtement non tissé, structure à peindre</b>	Le nom du revêtement est donné	0 ou 3
C1.2	Le descriptif 8/13-9/13 La fiche technique 12/13 La fiche technique 10/13	Avec quel produit allez-vous recouvrir ce revêtement ? <u>Réponse</u> : <b>peinture acrylique satinée</b>	Le nom du produit est donné	0 ou 3
C1.2	La fiche technique 10/13	Sachant qu'il faudra utiliser 9,86 litres de produit, combien en commanderez-vous et dans quel conditionnement ? <u>Réponse</u> : <b>12 litres</b> <b>3 boîtes de 4 litres</b>	La quantité est exacte Le type de conditionnement est donné	0 ou 3 0 ou 3

C1.2	<p>Le descriptif 8/13-9/13 Les fiches techniques Connaissances professionnelles</p>	<p>Remettez dans l'ordre, en les numérotant, les différents travaux exécutés sur les murs de la chambre 2.</p> <ol style="list-style-type: none"> <li>7 finition peinture</li> <li>8 nettoyage des sols</li> <li>2 Egrenage, époussetage</li> <li>1 protection des sols</li> <li>3 rebouchage</li> <li>4 ponçage, époussetage</li> <li>5 pose du revêtement non tissé</li> <li>6 sous couche peinture</li> </ol>	<p>L'ordre est respecté. Aucune erreur</p>	<p>0 ou 4</p>
S4 7	<p>Connaissances professionnelles</p> <p><u>Légendes proposées :</u></p> <ol style="list-style-type: none"> <li>1 -inflammable</li> <li>2 -dangereux pour l'environnement</li> <li>3 -toxique</li> <li>4 -nocif</li> <li>5 -corrosif</li> <li>6 -explosif</li> </ol>	<p>Sur le chantier vous utilisez des fûts et des bidons sur lesquels figurent des étiquettes de prévention. Redonner à chaque étiquette sa signification exacte.</p> <div style="display: flex; justify-content: space-around; align-items: flex-start;"> <div style="text-align: center;">   <p>Réponse : inflammable</p> </div> <div style="text-align: center;">   <p>nocif</p> </div> <div style="text-align: center;">   <p>Réponse : toxique</p> </div> <div style="text-align: center;">   <p>dangereux pour l'environnement</p> </div> </div>	<p>La signification de chaque étiquette est exacte.</p>	<p>0,1,2,3 ou 4</p>
C3 2	<p>Le document technique 13/13</p>	<p>Lors de vos travaux vous utilisez une plate-forme de travail. Repérez et nommez quatre éléments de sécurité propres à cette plate-forme.</p> <p>Réponse : 1 roues non porteuses et stabilisateurs 2 rambardes latérales 3 accès par échelle 4 plinthes au pourtour</p>	<p>Quatre éléments sont nommés</p>	<p>0,1,2 3 ou 4</p>

C3 2	Le document technique 13/13	Pour respecter la sécurité sur cette plate-forme de travail, quel élément faudra t'il obligatoirement mettre en place lors de son utilisation ?  <u>Réponse</u> : <b>une chaînette ou un bras amovible coté accès</b>	Une solution est proposée.	0 à 4
------	--------------------------------	---	----------------------------	-------