

**C.A.P. PEINTRE APPLICATEUR DE REVETEMENTS****EPREUVE EP1****Coefficient 4****Durée 3 heures**

# DOSSIER SUJET

**Ce dossier contient les documents :**

2/7 ; 3/7 ; 4/7 ; 5/7 ; 6/7 et 7/7

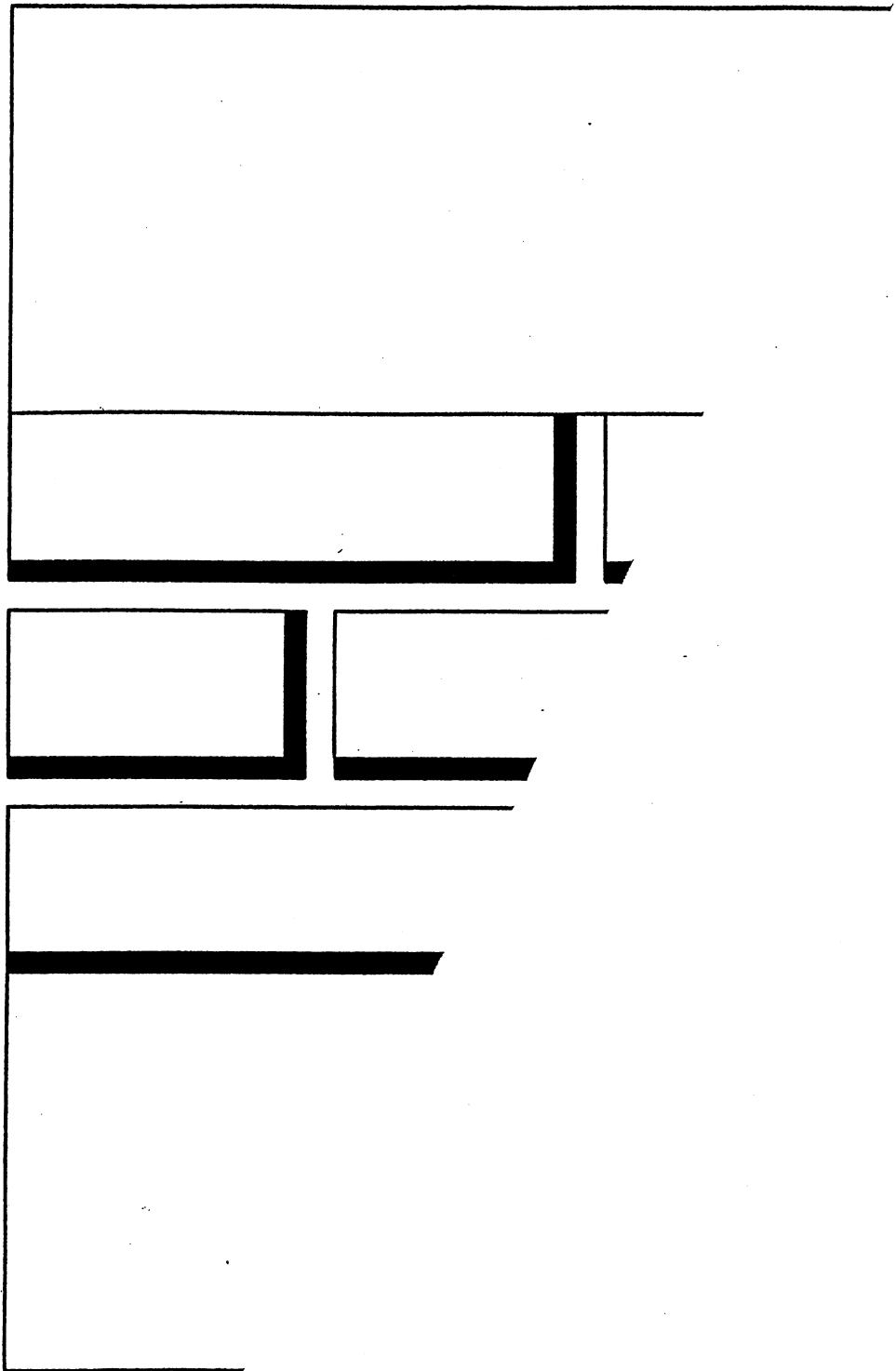
Note obtenue : /

**Note / 20** (arrondie au ½ point supérieur)

- ⇒ *Votre entreprise doit intervenir sur cette construction pour exécuter les travaux de finition intérieure et extérieure demandés par le client.*
- ⇒ *Vous interviendrez personnellement sur deux postes de travail : 1 - les ouvrages extérieurs (porte d'entrée, croisées et châssis, façades.)  
2 - la pose de revêtement non-tissé intérieur*


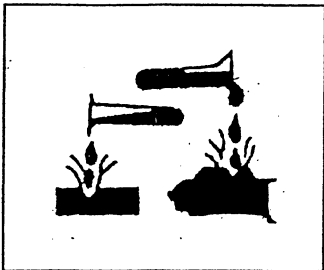


**En vous aidant du dossier ressource et en faisant appel à vos connaissances professionnelles, complétez ce dossier de travail.**

CODES	ON DONNE	ON DEMANDE	ON EXIGE	PTS
C1.1	Plan de masse 2/14	<u>LIRE ET INDIQUER</u> l'échelle du plan de masse Réponse : .....	Ecriture normalisée	0 ou 1
		<u>LIRE ET INDIQUER</u> la superficie du terrain de la propriété de Mr Lebas Réponse : ..... M2	Surface exacte	0 ou 1
C1.1	Plan de masse 2/14 Rez-de-chaussée 3/14	<u>INDIQUER</u> l'orientation géographique de la façade principale Réponse : ..... <u>INDIQUER</u> l'orientation géographique du pignon repéré « C » Réponse : .....	Aucune erreur Indication des noms en toutes lettres	0 ou 2 ou 4
C1.1	Les plans architecte Tous les documents graphiques	<u>ETABLIR</u> la correspondance entre les lettres majuscules et les chiffres représentant le même détail de construction exemple : E=2 Réponse : F =..... G =..... S = .....	Aucune erreur	0 ou 2 ou 4 ou 6
C1.1	Les plans architecte Les plans des façades	<u>NOMMER</u> les éléments simples de construction repérés par une lettre dans un cercle. Réponse : L=..... M=..... V=..... R=.....	Les noms sont exacts	0 ou 1 ou 2 ou 3 ou 4
C1.1	Rez-de-chaussée 3/14 Plan de coupes verticales 6/14	<u>RECHERCHER ET INDIQUER</u> la hauteur de l'allège des fenêtres des chambre 2 et 3 Réponse : Allège =.....	La hauteur est exacte et est exprimée en mètre	0 ou 2
C2.1	Plan des pignons 7/14 Descriptif 8/14 Fiche technique 12/14	Vous devez intervenir sur les pignons de façade pour appliquer un revêtement plastique épais à gréser en faux parement de briques On vous demande : 1 - de <u>COMPLETER</u> l'implantation de ces briques sur le document 3/7 2 - de <u>COLORIER</u> l'ensemble en respectant les teintes suivantes mur : ton pierre briques : ton brique joints : ton gris ciment ombre des briques : noir  l'utilisation de crayons de couleurs, de feutres , de gouache est autorisée	Le tracé des briques et des joints se fera à la règle et au crayon papier. ○ Tracé soigné ○ Respect du motif ○ Respect des cotes  Les couleurs sont respectées L'ensemble est propre	0 à 5       0 à 10





CODES	ON DONNE	ON DEMANDE	ON EXIGE	PTS
C1.2	Le descriptif 8/14 La fiche technique 10/14	<u>INDIQUER</u> quel produit est employé pour le recouvrement du revêtement non-tissé  Réponse : .....	Le nom du produit est donné	0 ou 2
C1.2	La fiche technique 10/14	Sachant qu'il faudra utiliser 17.5 litres de ce produit  <u>INDIQUER</u> quelle quantité vous devrez commander et <u>INDIQUER</u> le type de conditionnement utilisé Réponse : quantité : .....  conditionnement : .....	La quantité est exacte Le type de conditionnement est donné	0 ou 2 0 ou 2
C1.2	La fiche technique 10/14	<u>INDIQUER</u> le nom du solvant à employer pour nettoyer le matériel d'application de ce produit  Réponse : .....	Le nom du solvant est donné	0 ou 1
C1.2	Le descriptif 8/14 La fiche technique 12/14	<u>INDIQUER</u> le nom du produit employé pour exécuter le faux parement de brique sur les pignons Réponse : .....  <u>INDIQUER</u> le rendement de ce produit Réponse : .....  <u>RECHERCHER ET INDIQUER</u> le nom du produit à employer avant son application sur le support Réponse : .....	Le nom du produit est donné  Le rendement est exact  Le nom du produit est donné	0 ou 1  0 ou 1  0 ou 1

CODES	ON DONNE	ON DEMANDE	ON EXIGE	PTS
CI. 2	<p>Le descriptif 8/14 Les fiches techniques Connaissances professionnelles</p>	<p>Remettez dans l'ordre, en les numérotant de 1 à 9 , les différents travaux exécutés sur les murs du bureau .</p> <ul style="list-style-type: none"> <li>..... finition peinture</li> <li>..... ponçage, époussetage</li> <li>..... nettoyage des sols</li> <li>..... Egrenage, époussetage</li> <li>..... protection des sols</li> <li>..... rebouchage</li> <li>..... ponçage, époussetage</li> <li>..... pose du revêtement non tissé</li> <li>..... sous couche peinture</li> </ul>	<p>L'ordre est respecté. Aucune erreur</p>	<p>0 ou 3</p>
	<p>Connaissances professionnelles</p> <p><u>Légendes proposées :</u></p> <ul style="list-style-type: none"> <li>1 - inflammable</li> <li>2 - dangereux pour l'environnement</li> <li>3 - toxique</li> <li>4 - nocif</li> <li>5 - corrosif</li> <li>6 - explosif</li> </ul>	<p>Sur le chantier vous utilisez des fûts et des bidons sur lesquels figurent des étiquettes de prévention. <b>INDIQUER</b> la signification exacte de chaque étiquette.</p> <div style="display: flex; justify-content: space-around; align-items: flex-start;"> <div style="text-align: center;">  <p>Réponse : .....</p> </div> <div style="text-align: center;">  <p>.....</p> </div> <div style="text-align: center;">  <p>Réponse : .....</p> </div> <div style="text-align: center;">  <p>.....</p> </div> </div>	<p>La signification de chaque étiquette est exacte.</p>	<p>0,1,2,3 ou 4</p>

<b>Récapitulatif des points</b>	
<i>PAGE 2/7 :</i>	/18 pts
<i>PAGE 3/7 :</i>	/15 pts
<i>PAGE 4/7 :</i>	/20 pts
<i>PAGE 5/7 :</i>	/10 pts
<i>PAGE 6/7 :</i>	/7 pts
<b><u>TOTAL DES POINTS :</u></b>	/70 pts
<b><u>NOTE SUR 20 pts</u></b>	