

CERTIFICAT D'APTITUDE PROFESSIONNELLE
PEINTRE APPLICATEUR DE REVETEMENT

EPREUVE EP1 Ecrit: Analyse d'une situation professionnelle
Coefficient 4 Durée 3 heures

DOSSIER SUJET

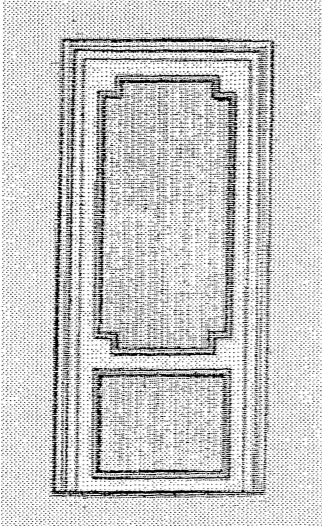
Ce dossier contient les documents :
2/7 ; 3/7 ; 4/7 ; 5/7 ; 6/7 et 7/7

A l'issue de cette épreuve, vous remettrez tous les documents :
agrafés dans la copie d'examen.


Note obtenue : / Note / 20 (arrondie au ½ point supérieur)





- ⇒ Votre entreprise doit intervenir dans cette construction pour exécuter les travaux de finition intérieure demandés par le client.
- ⇒ Vous interviendrez personnellement sur deux postes de travail : la porte d'entrée et la chambre 2.
- ⇒ En vous aidant du dossier ressource et en faisant appel à vos connaissances professionnelles complétez ce dossier de travail.

CODES	ON DONNE	ON DEMANDE	ON EXIGE	PTS
C1.2	Plan de masse 2/13	Lire et indiquer l'échelle du plan de masse	Écriture normalisée	0 ou 1
		Lire et indiquer la superficie du terrain lot 26 M2	Surface exacte	0 ou 1
C1.2	Plan de masse 2/13 Rez de chaussée 3/13	Indiquer l'orientation géographique de : <input type="checkbox"/> La CH2 : <input type="checkbox"/> La porte d'entrée :	Aucune erreur Indication des noms en toutes lettres	0 à 2
C1.2	Les plans architecte Tous les documents graphiques	Etablir la correspondance entre les lettres majuscules et les chiffres représentant le même détail de construction exemple : E=10 F=..... G=..... H=..... J=.....	Aucune erreur	0 à 4
C1.2	Les plans architecte Le plan des combles et façades	Nommer les éléments simples de construction repérés par une lettre dans un cercle. L=..... M=..... V=..... R=.....	Les noms sont exacts	0 à 4
C2.3	Rez de chaussée 3/13	Le sol du garage devant être peint avec une peinture spéciale , on vous demande d'en déterminer sa surface surface du garage = m2	10°/° d'erreur en plus sur les quantités	0 ou 2
C1.2	R.d.ch ; combles ; coupe AA	rechercher la hauteur de l'allège des fenêtres des chambre 2 et 3 Allège =	Hauteur exacte	0 ou 1
C1.2	Rez de chaussée ; coupe AA	Quelle est la hauteur sous plafond du hall d'entrée ? m		0 ou 1

<p>C2.4</p> <p>SI</p>		<p><i>Vous devez intervenir dans la chambre 2 pour :</i></p> <p><i>1° exécuter un croquis (sur le document 4/7) représentant l'implantation des moulures sur les portes coulissantes du placard de la chambre à partir du motif retenu par le client (voir image ci-dessous).</i></p> <p><i>2° De rechercher et d'harmoniser (sur le document 4/7) les murs et les portes coulissantes de la chambre 2 sachant que le sol sera recouvert de dalles de moquette « vert bouteille »</i></p> 	<p><i>Le tracé des moulures sur les portes se fera à la règle et au crayon papier.</i></p> <ul style="list-style-type: none"> ○ <i>Tracé soigné</i> ○ <i>Respect du motif</i> ○ <i>Respect des proportions sur les deux portes</i> ○ <i>Traits alignés verticalement / horizontalement</i> <p><i>L'harmonie se fera à la gouache :</i></p> <ul style="list-style-type: none"> ✓ <i>Travail soigné</i> ✓ <i>Harmonie colorée réussie</i> 	<p>0 à 3</p> <p>0 à 3</p>
-----------------------	--	--	---	---------------------------

DOCUMENT PRE-IMPRIME SUR
CANSON



C 1. 2	Le descriptif 8/13-9/13 Fiches techniques Connaissances professionnelles	Remettez dans l'ordre, en les numérotant, les différents travaux exécutés sur les murs de la chambre 2. finition peinture nettoyage des sols Egrenage, époussetage protection des sols rebouchage ponçage, époussetage pose du revêtement non tissé sous couche peinture	L'ordre est respecté. Aucune erreur	0 ou 4
S 4.7	Connaissances professionnelles <u>Légendes proposées :</u> 1 -inflammable 2 -dangereux pour l'environnement 3 -toxique 4 -nocif 5 -corrosif 6 -explosif	Sur le chantier vous utilisez des fûts et des bidons sur lesquels figurent des étiquettes de prévention. Redonner à chaque étiquette sa signification exacte. <div style="display: flex; justify-content: space-around; align-items: center;"> <div style="text-align: center;">  Réponse : </div> <div style="text-align: center;">  Réponse : </div> </div> <div style="display: flex; justify-content: space-around; align-items: center;"> <div style="text-align: center;">  Réponse : </div> <div style="text-align: center;">  Réponse : </div> </div>	La signification de chaque étiquette est exacte.	0,1,2,3 ou 4
C 3 2	Le document technique 13/13	Lors de vos travaux vous utilisez une plate-forme de travail. Repérez et nommez quatre éléments de sécurité propres à cette plate-forme. <u>Réponse :</u> 1 2 3 4	Quatre éléments sont nommés	0,1,2,3 ou 4

C 3 2	Le document technique 13/13	Pour respecter la sécurité sur cette plate-forme de travail, quel élément faudra t'il obligatoirement mettre en place lors de son utilisation ?	La solution est donnée..	0 à 4
		<u>Réponse</u> :		