

C.A.P. solier moquettiste

SESSION 2004

REZ DE CHAUSSEE	ETAGE	ANNEXES
Salon : _____		Garage : <u>15.60</u>
Séjour : <u>53.27</u>		Cave : _____
Repas : _____		Chaudière : _____
Chambre 1: <u>12.00</u>	Chambre : _____	Buanderie : _____
Chambre 2: <u>11.48</u>	Chambre : _____	Atelier : _____
Chambre 3: <u>12.55</u>	Chambre : _____	Sous sol : _____
Chambre 4: _____	Chambre : _____	
Bureau : _____	Bureau : _____	
Cuisine : <u>11.82</u>	Mezzanine : _____	
Bains : <u>6.49</u>	Bains : _____	
Toilette : _____	Toilette : _____	
Wc 1 : <u>2.04</u>	Wc : _____	
Rangement : _____	Rgt : _____	
Dégagement : _____	Dgt : _____	
Entrée : _____	Lingerie : _____	
Cellier : <u>4.50</u>	Combles : _____	
Lingerie : <u>7.65</u>	Aménageables : _____	
WC 2 : <u>1.36</u>		
TOTAL : <u>122.16 m²</u>	TOTAL : _____	TOTAL : <u>15.60</u>

SURFACE HABITABLE TOTALE : 122.16 m²

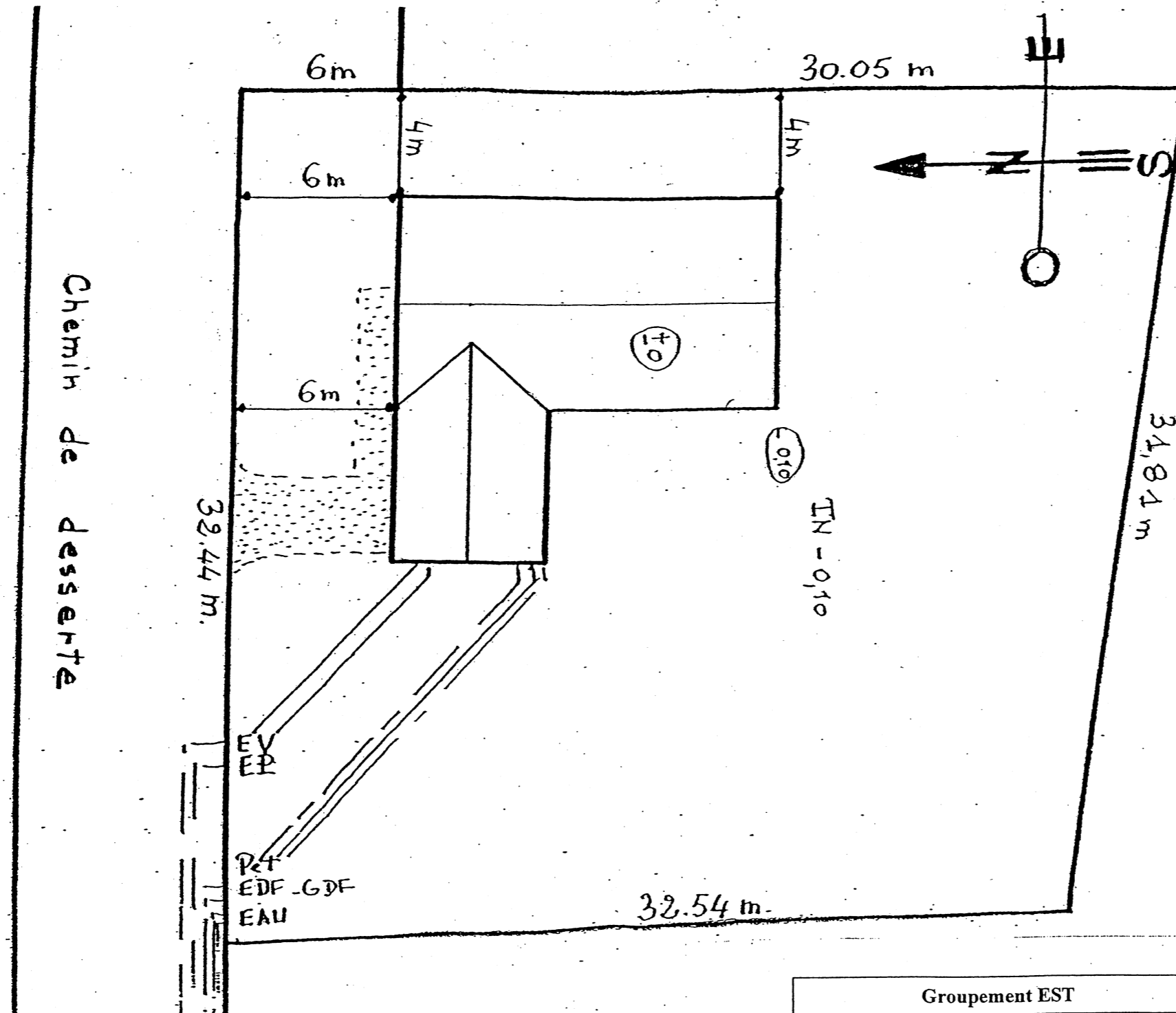
Groupement EST	Session 2004	SUJET
CAP Solier moquettiste		Page : 1 / 6
Épreuve : EP1 - Analyse d'une situation professionnelle		Durée : 3h
		Coef. :

70 bis, Route de Corcelles

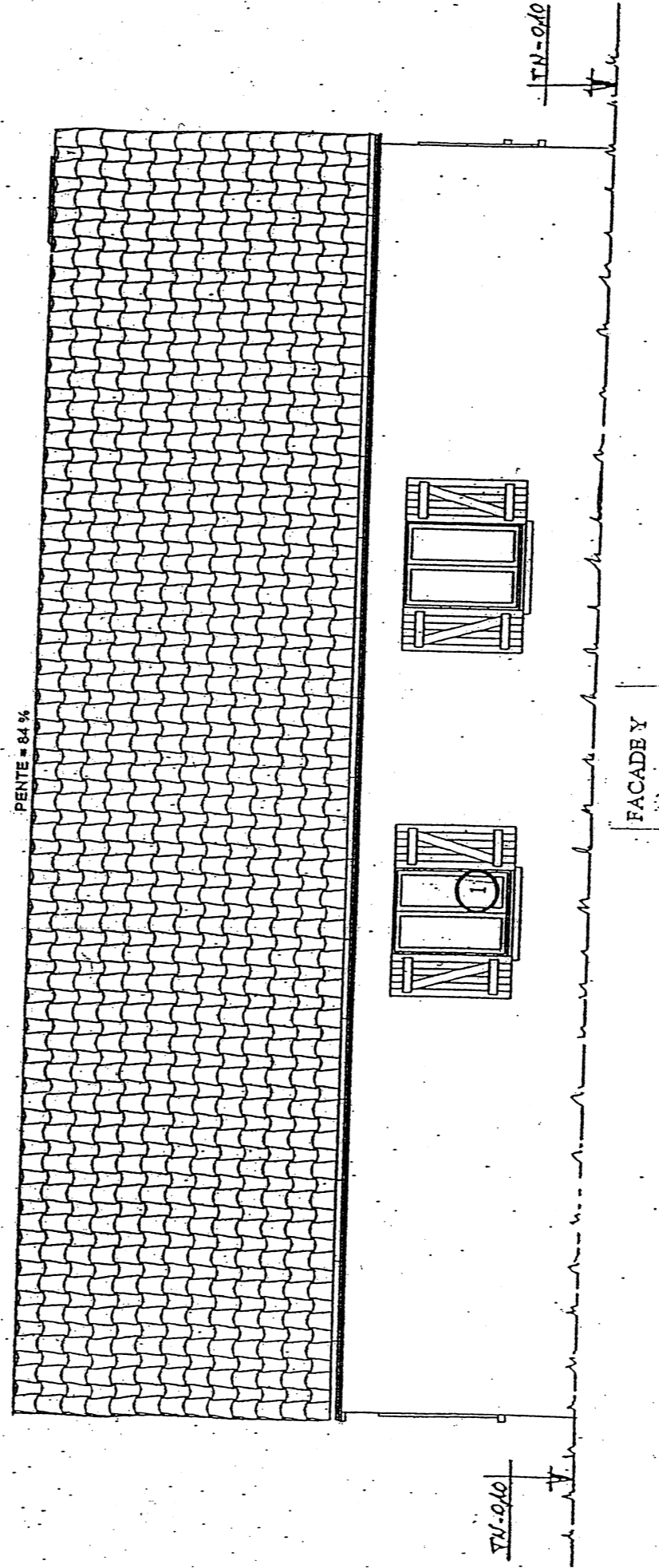
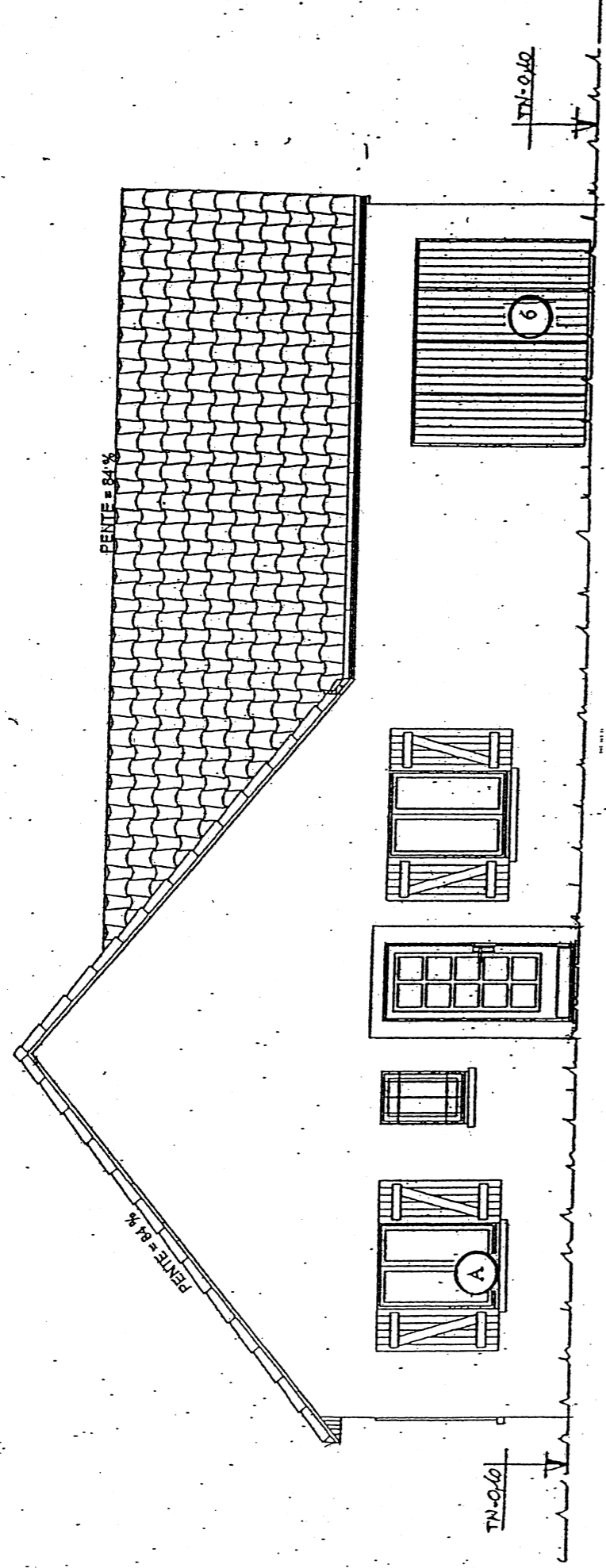
Commune de MARZY

Section C- Parcelle n° 2551 -2389 pour partie
Superficie : 1101 m²

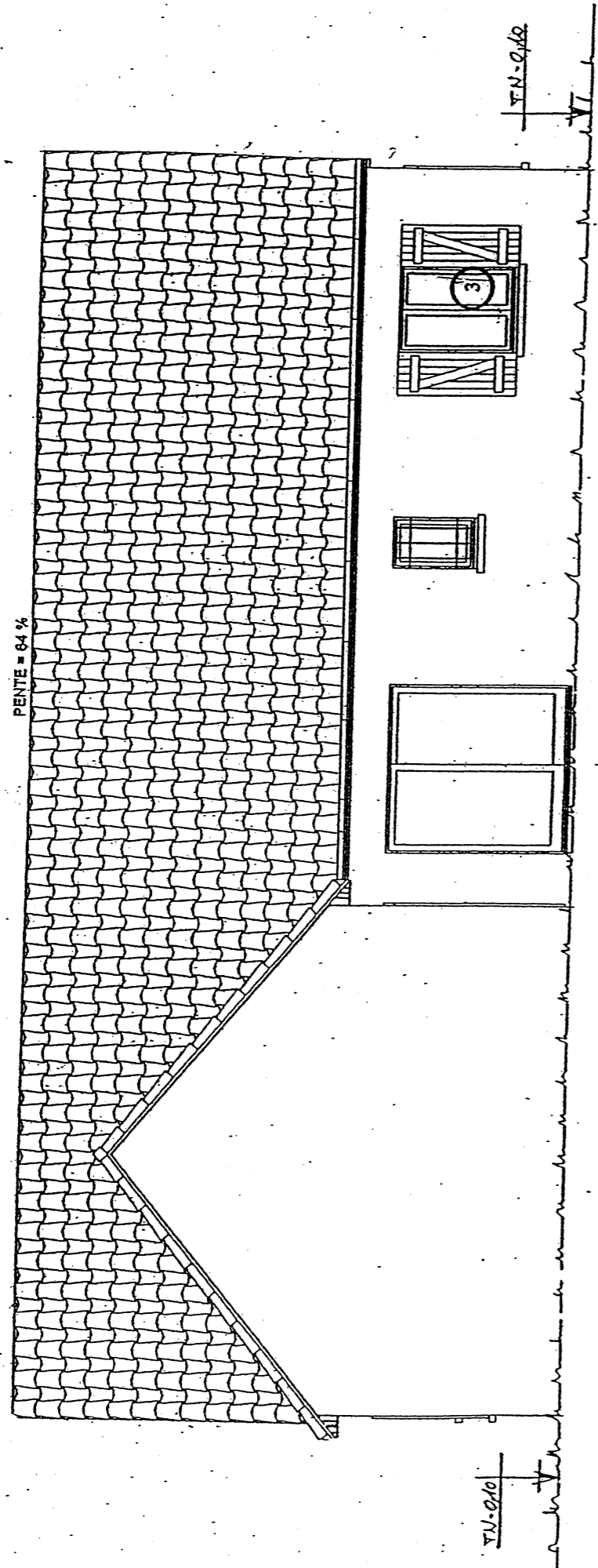
Echelle 1/500^{ème}



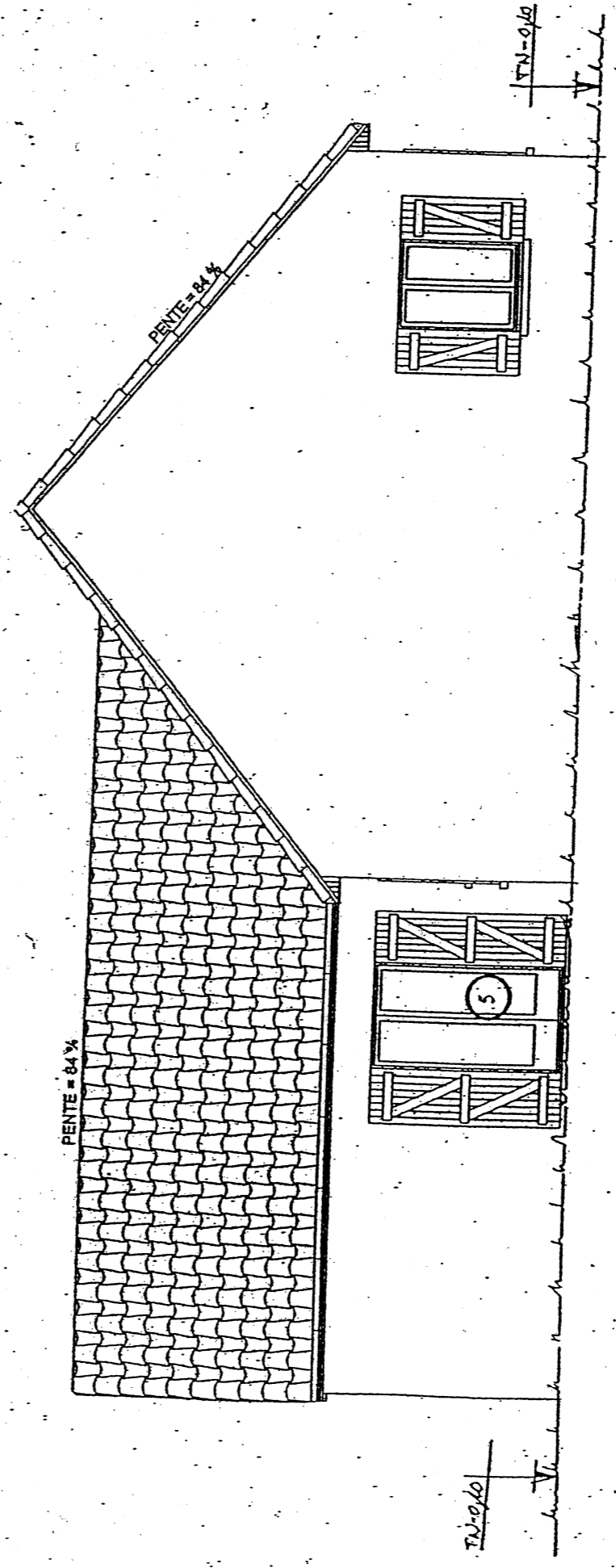
Groupement EST	Session 2004	SUJET
CAP Solier moquettiste		Page : 2 / 6
Épreuve : EP1 - Analyse d'une situation professionnelle		Durée : 3h
		Coef. :



Groupement EST	Session 2004	SUJET
CAP Solier moquettiste		Page : 3 / 6
Épreuve : EP1 - Analyse d'une situation professionnelle		Durée : 3h
		Coef. :



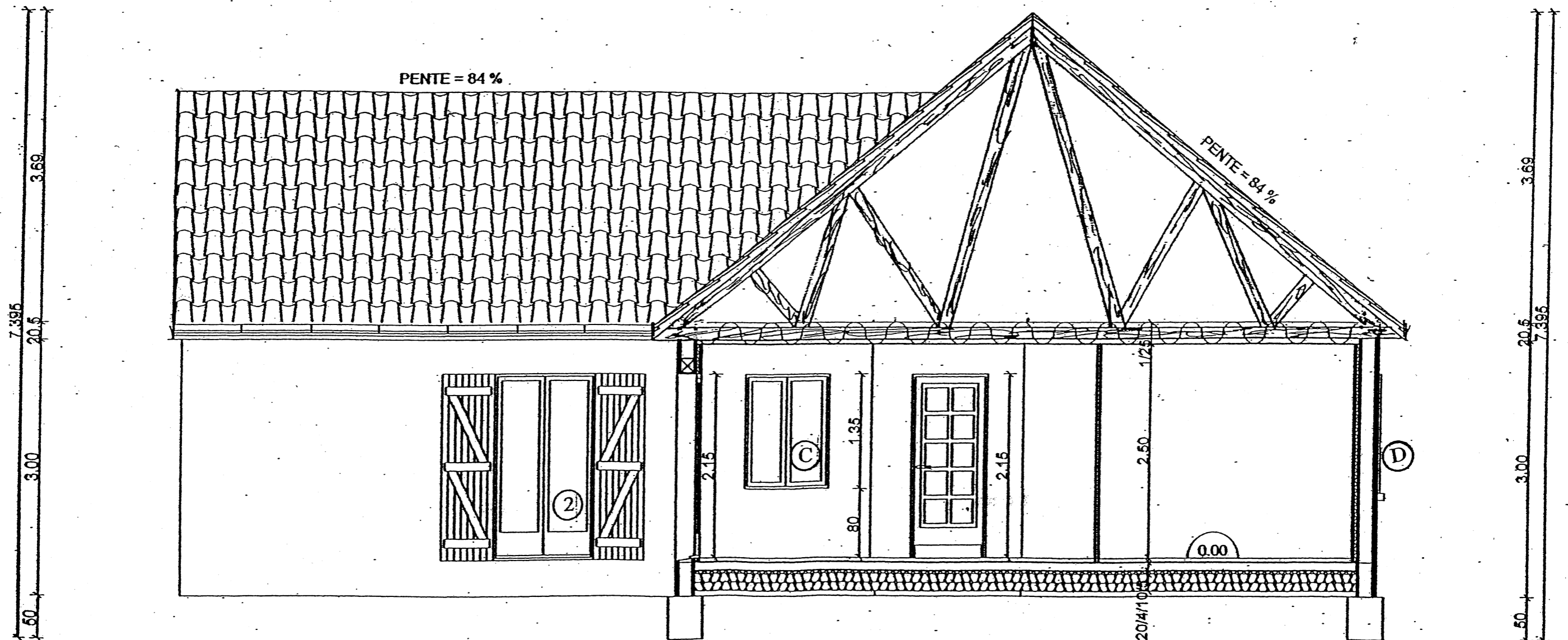
FACADE Z



FACADE W

Groupement EST	Session 2004	SUJET
CAP Solier moquettiste		Page : 4 / 6
Épreuve : EPI - Analyse d'une situation professionnelle		Durée : 3h
		Coef. :

COUPE A.A.
 ECHELLE 1/50



Groupement EST	Session 2004	SUJET
CAP Solier moquettiste		Page : 6/6
Épreuve : EP1 - Analyse d'une situation professionnelle		Durée : 3h
		Coef. :