

REALISATION GRAPHIQUE

TRAVAIL DEMANDE

Il vous est demandé de concevoir un meuble « multifonction » qui sera composé de :

- une partie bibliothèque
- une zone pouvant accueillir une télévision format 80X60 cm
- une zone pouvant accueillir du matériel hi-fi (magnéto, lecteur DVD, enceintes...)
- plusieurs tiroirs et vantaux pour le rangement

(le meuble 1 est donné à titre d'exemple)

Vous devrez créer l'ensemble de ce meuble (structure et décors) à partir des décors des objets « ART DECO » proposés.

1 - Vous réaliserez une vue de face au crayon gris sur la forme pré-dessinée A située sur la feuille 2/2 (Elle définit la hauteur et la largeur maximales).

2 - Vous dessinerez une proposition en couleurs et en perspective conique au sein du support B sur la feuille 2/2 (technique libre à l'exception des techniques à séchage lent).

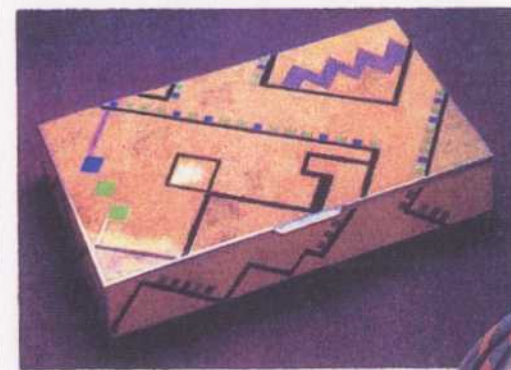
Dimensions maximales :

- H : 200 cm
- L : 250 cm
- P : 60 cm

RESSOURCES



meuble 1 : exemple de rangement multifonction traditionnel



EXIGENCES

1 - Respect des différentes zones de rangements.

2 - Esprit ART DECO
- Perspective isométrique.

REponses

1 - Réalisation de l'élévation au crayon sur la partie A de la feuille 2/2

2 - Réalisation en perspective couleurs sur la partie B de la feuille 2/2

BAREME

1 - Structure du meuble répondant aux différentes zones de rangements : Bibliothèque, hifi, tiroirs et vantaux

3 points

2 - Respect de l'esprit «ART DECO» des documents

5 points

- Qualité de la perspective et des proportions

5 points

- Qualité de la décoration


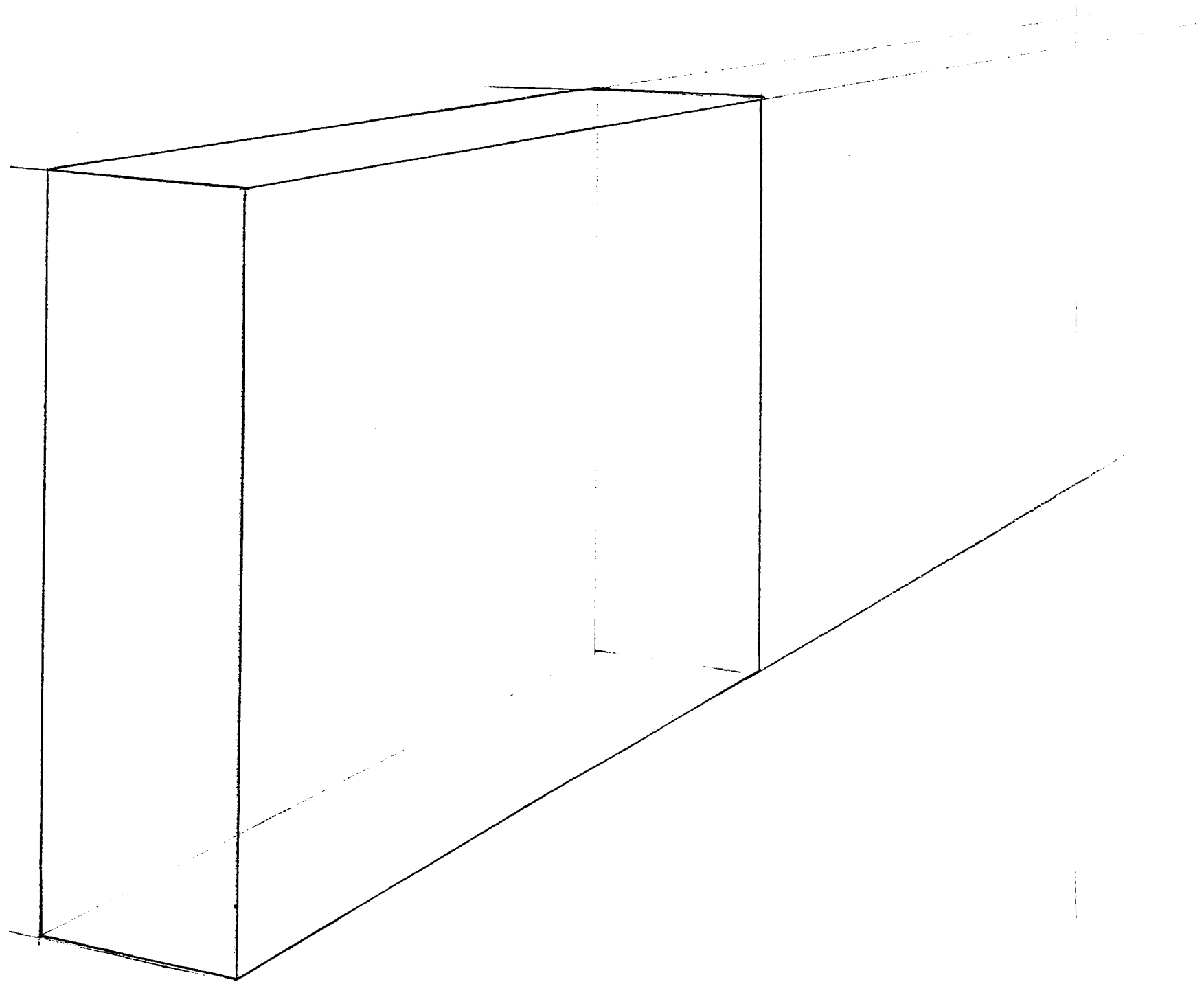
4 points

- Qualité graphique et couleurs

3 points

Groupement inter académique II		Session 2004	Facultatif : code 2307	
Examen et spécialité CAP Ebéniste				
Intitulé de l'épreuve EP2 Arts appliqués b) Réalisation graphique				
Type SUJET	Facultatif : date et heure	Durée 2 h 30	Coefficient 6	N° de page sur total 1/2

B - Vue en perspective conique



A - Echelle 1 : 25

CAP Ebéniste	Session 2004
EP2 Arts appliqués b) Réalisation graphique	2/2